

# Урок математики

**Тема:** «Умножение 2, 20, 200 на 2, 20, 200.  
Соответствующие случаи деления».

**Автор:** Старцева Людмила Ивановна

Учитель начальных классов

МОУСОШ № 17

Ст. Отрадная

Отрадненский район

Краснодарский край

$$2 \cdot \overset{0}{\square} = \overset{1}{\square} 8$$

$$\overset{1}{\square} 6 : 2 = 8$$

$$2 \cdot \overset{7}{\square} = \overset{1}{\square} 4$$

$$\overset{1}{\square} 4 : 2 = \overset{7}{\square}$$

$$2 \cdot \overset{6}{\square} = \overset{1}{\square} 2$$

$$10 \cdot \overset{2}{\square} = \overset{2}{\square} 0$$

$$8 \cdot \overset{2}{\square} = \overset{1}{\square} 6$$

$$\overset{1}{\square} 8 : 2 = \overset{0}{\square}$$


$$2 \cdot 4 = \square$$


$$20 \cdot 4 = \square$$


$$4 \cdot 2 = 8$$

$$4 \cdot 20 = 80$$

$$8 : 2 = 4$$

$$80 : 20 = 4$$

$$8 : 4 = 2$$

$$80 : 4 = 20$$


$$4 : \square + 10 = 12$$

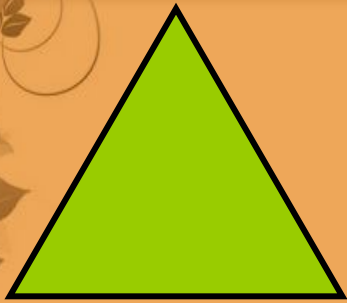
$$18 \triangle 2 + 22 = 31$$

$$40 : \square + 10 = 30$$


$$5 \triangle 2 + 18 = 28$$



1




3



5




7



2




4



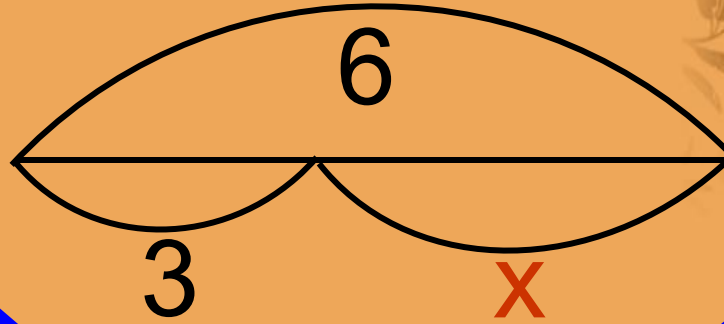
6



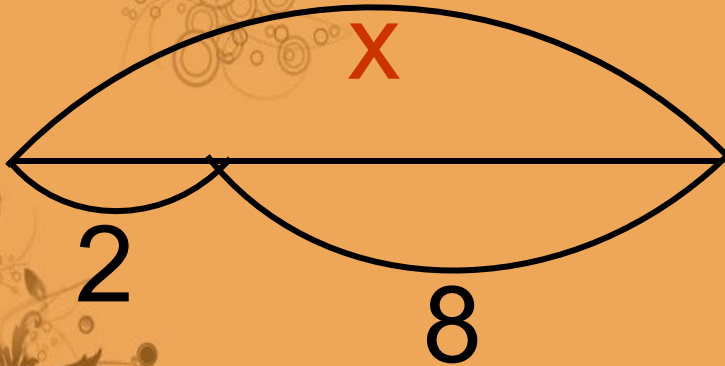
8



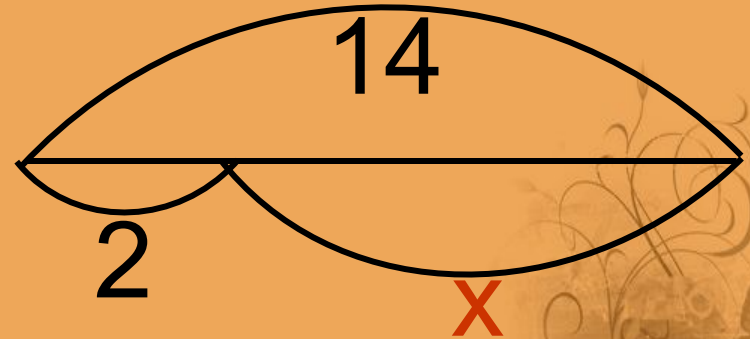
$$3 \cdot x = 6$$



$$x : 2 = 8$$



$$2 \cdot x = 14$$




$$200 \cdot 1 = 200$$

$$200 \cdot 2 = 400$$

$$200 \cdot 3 = 600$$

$$200 \cdot 4 = 800$$

$$200 \cdot 5 = 1000$$

$$200 \cdot 6 = 1200$$

$$200 \cdot 7 = 1400$$

$$200 \cdot 8 = 1600$$

$$200 \cdot 9 = 1800$$

$$200 \cdot 10 = 2000$$



200

.

=



00

1

2

3

4

5

6

7

8

9

10

2

4

6

8

10

12

14

16

18

20



1  
2  
3  
4  
5  
6  
7  
8  
9  
10

$$200 =$$

2  
4  
6  
8  
10  
12  
14  
16  
18  
20

00

$$200 : 200 = 1$$

$$400 : 200 = 2$$

$$600 : 200 = 3$$

$$800 : 200 = 4$$

$$1000 : 200 = 5$$

$$1200 : 200 = 6$$

$$1400 : 200 = 7$$

$$1600 : 200 = 8$$

$$1800 : 200 = 9$$

$$2000 : 200 = 10$$

$$200 : 1 = 200$$

$$400 : 2 = 200$$

$$600 : 3 = 200$$

$$800 : 4 = 200$$

$$1000 : 5 = 200$$

$$1200 : 6 = 200$$

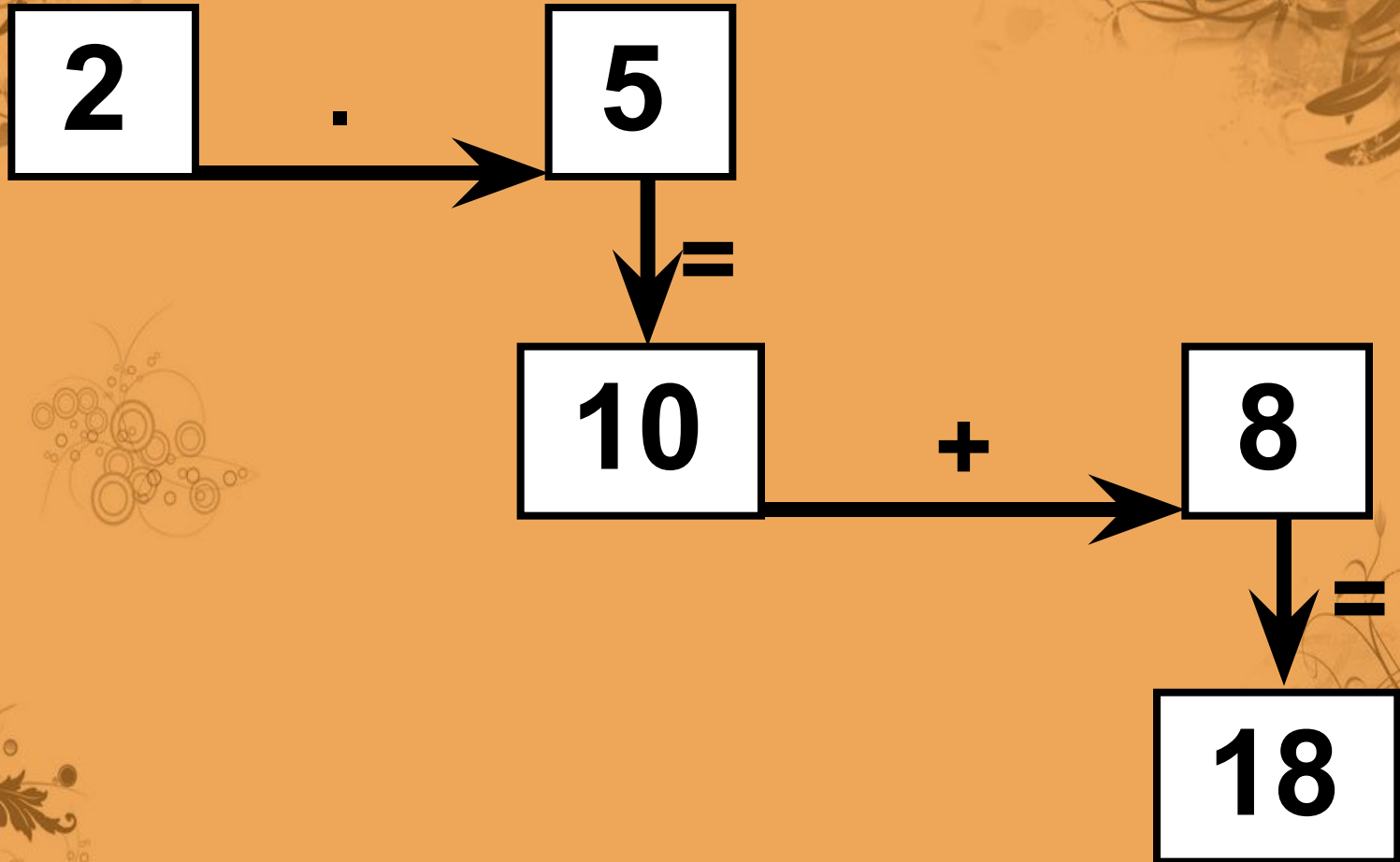
$$1400 : 7 = 200$$

$$1600 : 8 = 200$$

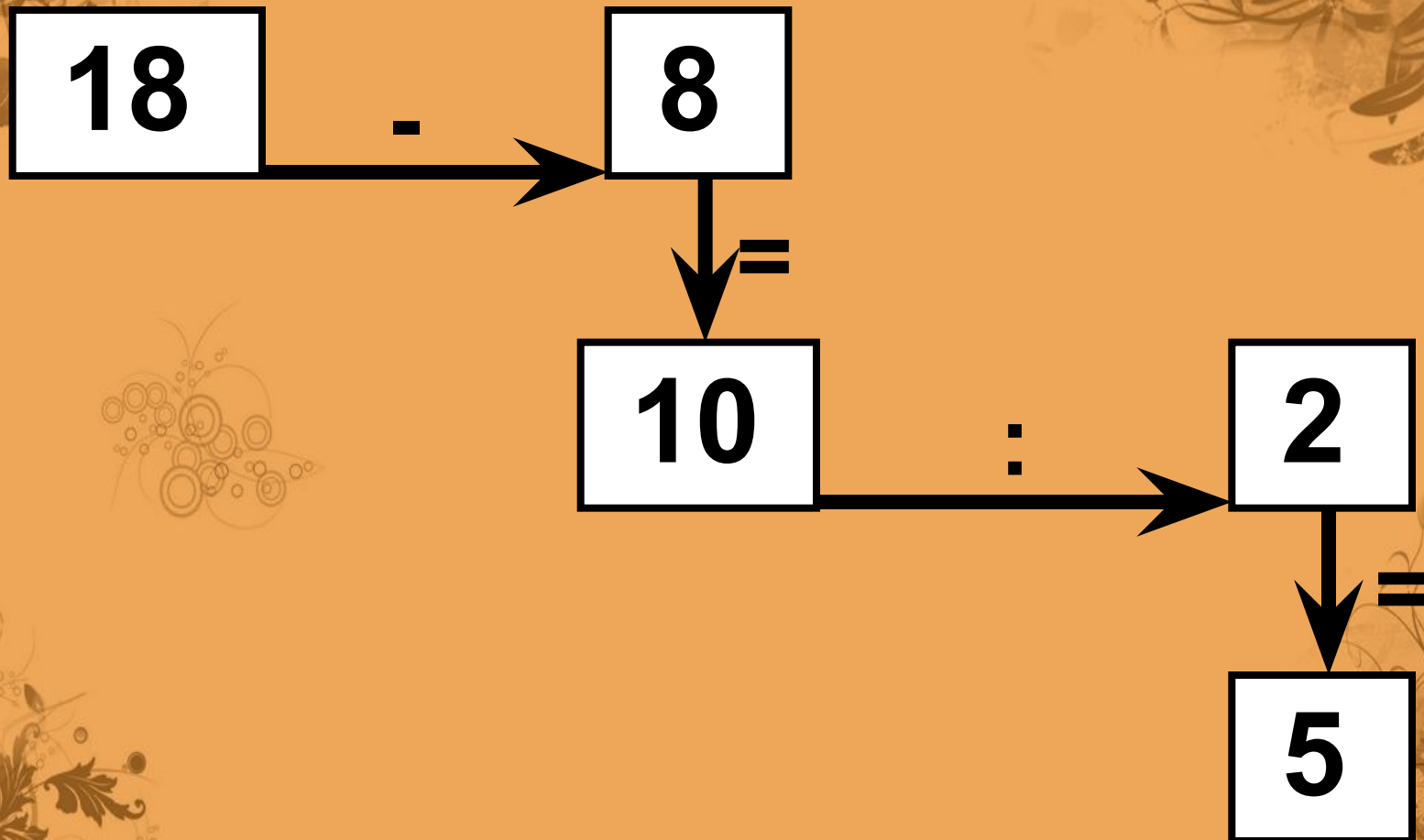
$$1800 : 9 = 200$$

$$2000 : 10 = 200$$

5, по 2, 8,




, по 2, 8, 18.

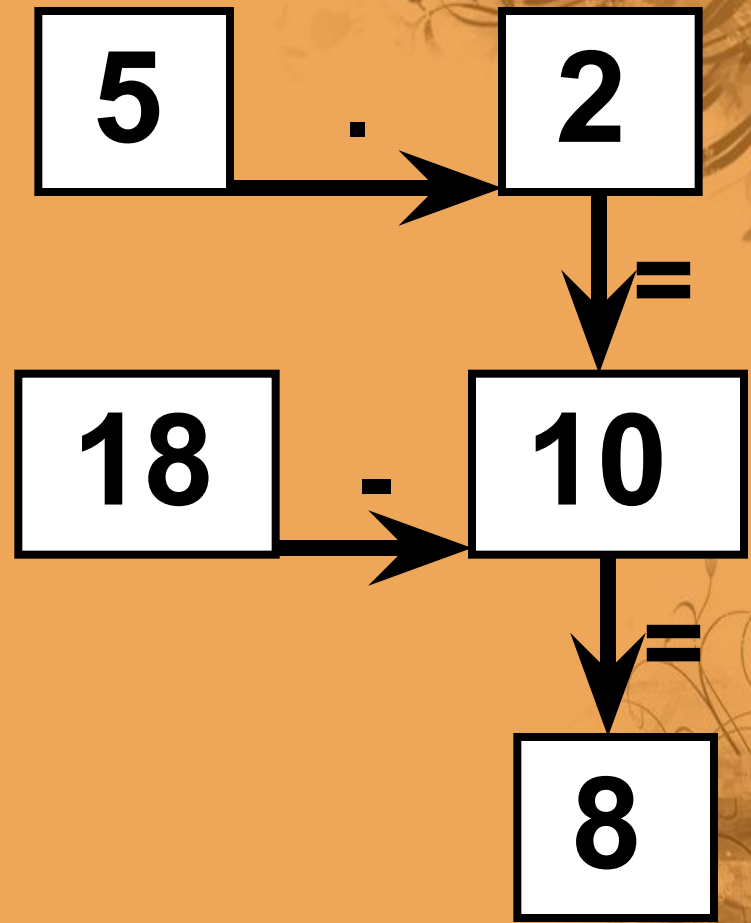




5, по , 8, 18.



5, по 2, , 18.





Гусь весит 2 кг.  
Сколько будет  
весить гусь,  
если он станет  
на одну ногу?



Крышка стола прямоугольной формы имеет 4 угла. Сколько будет углов у крышки, если 1 угол отпилить?



# Итог урока:

- Что было самое сложное на уроке?
- Что давалось вам легко?
- Что нужно ещё закрепить?

