

Тема урока:
«Закрепление
пройденного материала»



В каком числе отсутствуют единицы

39

49

70

80

22

56

$$17 + 18 + 3 + 2$$

40

$$7 + 45 + 23 + 5$$

80

$$59 + 30 + 1 + 4$$

94

$$8 + 14 + 50 + 6$$


78

Сколько квадратов на чертеже?

1. **3 квадрата**


2. **6 квадратов**

3. **5 квадратов**




Вова ищет друзей, которые спрятались от него. Вдруг он замечает, что из-под дощатой перегородки виднеются 8 ног. Сколько детей стоит за перегородкой?

ПРОВЕРКА



Стоит в поле дуб. На дубе 3 ветки. На каждой ветке по 3 яблока. Сколько всего яблок?



3

ПРОВЕРКА

ОТВЕТ: НИСКОЛЬКО, ТАК КАК
НА ДУБЕ ЯБЛОКИ НЕ РАСТУТ!

Составьте и решите задачу

Маленькие звезды – 7

Большие звезды - ? на 5 >

?

1) $7 + 5 = 12$ (з.) - *больших.*

2) $12 + 7 = 19$ (з.)

$(7 + 5) + 7 = 19$ (з.)

Ответ: 19 звёзд всего.



27 мм

2 см 7 мм =

3 дм 5 см = 35 см

53 см = 5 дм 3 см



12 мм



2 см

26 дм



1 м

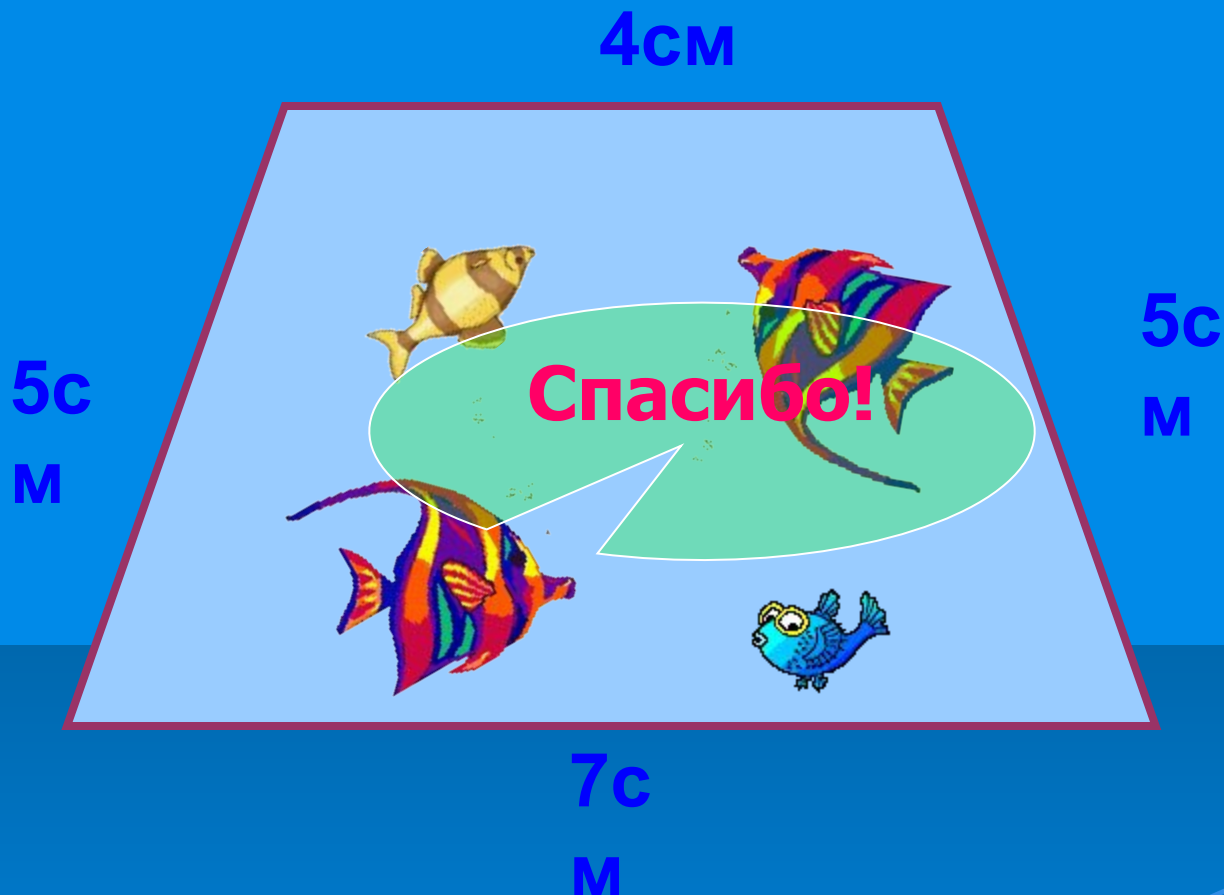
1 ч

Молодцы!



60 мин

Периметр многоугольника – это **сумма длин**
всех его сторон



$$P = 7 + 4 + 5 + 5 = 21 \text{ (см)}$$

МОЛОДЦЫ!

