

***Математическое
путешествие
по Санкт-Петербургу.***






An aerial photograph of a large, multi-story red brick building complex, likely a university or government building, situated along a river. The building has a curved facade and many windows. In the foreground, there is a green lawn and a paved walkway. The river flows through the scene, and there are some trees and smaller structures in the background.

**Друзья,
путешествие
начинается!**


- Реши математическую цепочку:

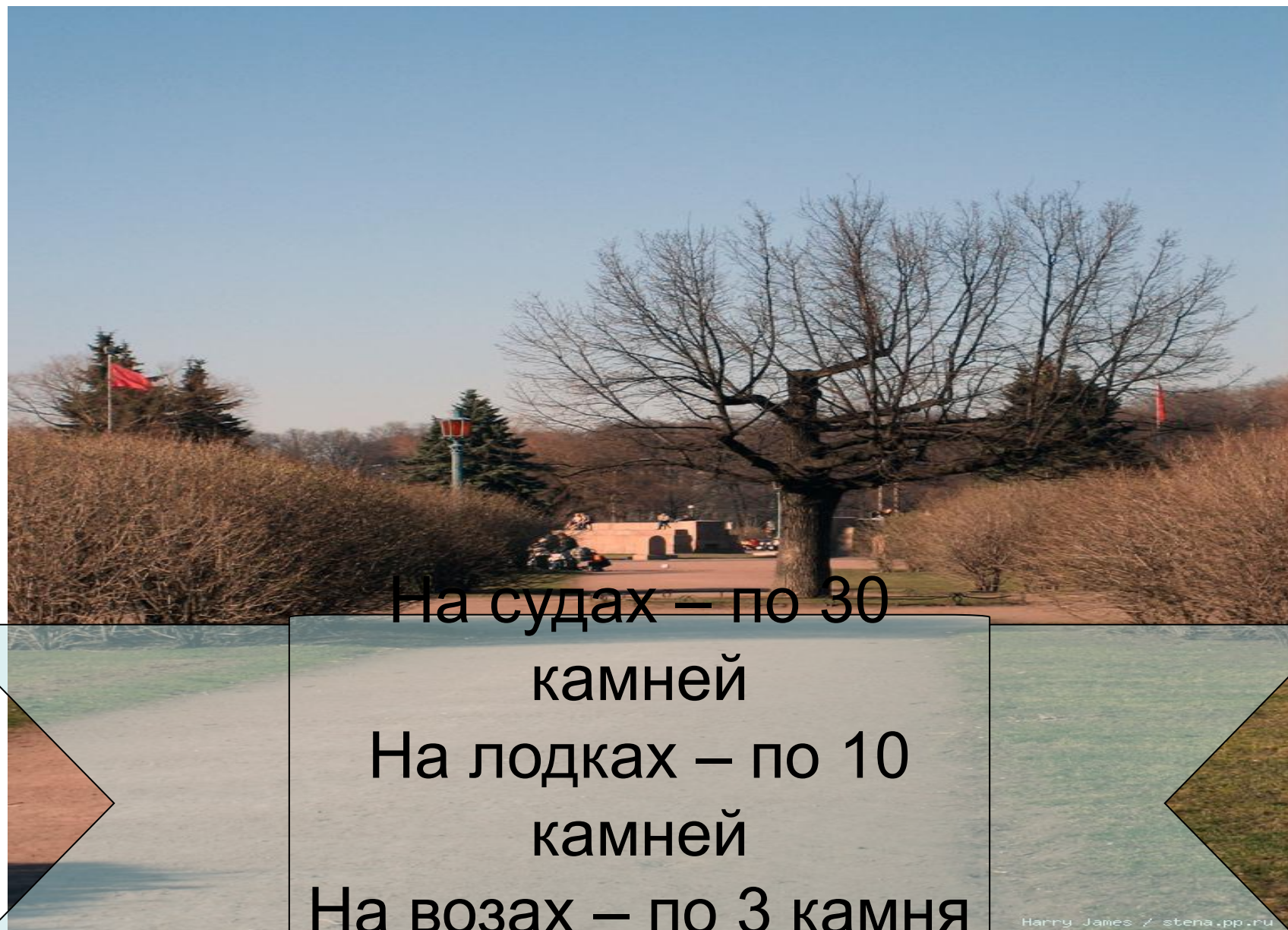
1730

5	8	6	3
6	1	9	8
7	5	4	2
2	4	0	9



170
3





На судах – по 30
камней

На лодках – по 10
камней

На возах – по 3 камня

Штраф – 1 гривна

Наш город располагался на 101
острове. Сейчас 42 острова. Сколько
островов исчезло?





*Длина реки Невы – 75 км.
Длина реки Карповки – 5 км.*



Домик Петра I простоял с 1703
года 131 год. До какого года?





<http://veta.spbland.ru/>



Какому писателю поставлен
памятник в Летнем саду? Он был
открыт в 1855 году. Сколько лет
памятнику?



Задача.

В Зимнем дворце насчитывается 1086 дверей, это на 36 больше, чем комнат. Почему?

Сколько комнат в Зимнем дворце?

1050

Окон во дворце на 859 больше, чем дверей. Почему?

Сколько окон?

1945

С

Н
П
(
(
И



бурге
листа
ание
иалы
) КОМ

● До новых встреч!

