


**Натуральный ряд чисел**

**СЛОЖЕНИЕ И  
ВЫЧИТАНИЕ**

# Натуральный ряд чисел

1 2 3 4 5 6 7 8 9 10





# Потерялось число

1 2 3 4 5 6 7 8 9 10

# Какое действие надо

# выполнить?



# Расставьте знаки + и -



$3 \text{ walnuts} - (1 \text{ flower} + 1 \text{ leaf}) = 3 \text{ walnuts} + 1 \text{ flower} + 1 \text{ leaf}$

$3 \text{ mushrooms} + 1 \text{ acorn} - 1 \text{ acorn} = 3 \text{ mushrooms}$

$1 \text{ star} + 3 \text{ blue triangles} - 1 \text{ purple rectangle} = 1 \text{ star} + 3 \text{ blue triangles} + 1 \text{ purple rectangle}$

$3 \text{ yellow squares} + 2 \text{ orange circles} - 2 \text{ orange circles} = 3 \text{ yellow squares}$

**Задания подготовлены по книге «Устные упражнения на уроках математики. 1 класс» (авт. Л.Г. Петерсон, И.Г. Липатникова)  
Презентация выполнена Галановой Е.В., учителем начальных классов  
ГОУ школы №328 Санкт-Петербурга**