

**ДЛИНА. ПЕРИМЕТР
ФИГУР.**

Счёт до 20

2 4 8 10 14 16

Сравните числовые

выражения

$1 + 2 = 3$

$1 + 2 + 5 = 8$

$2 + 2 = 4$

$2 + 2 + 4 = 8$

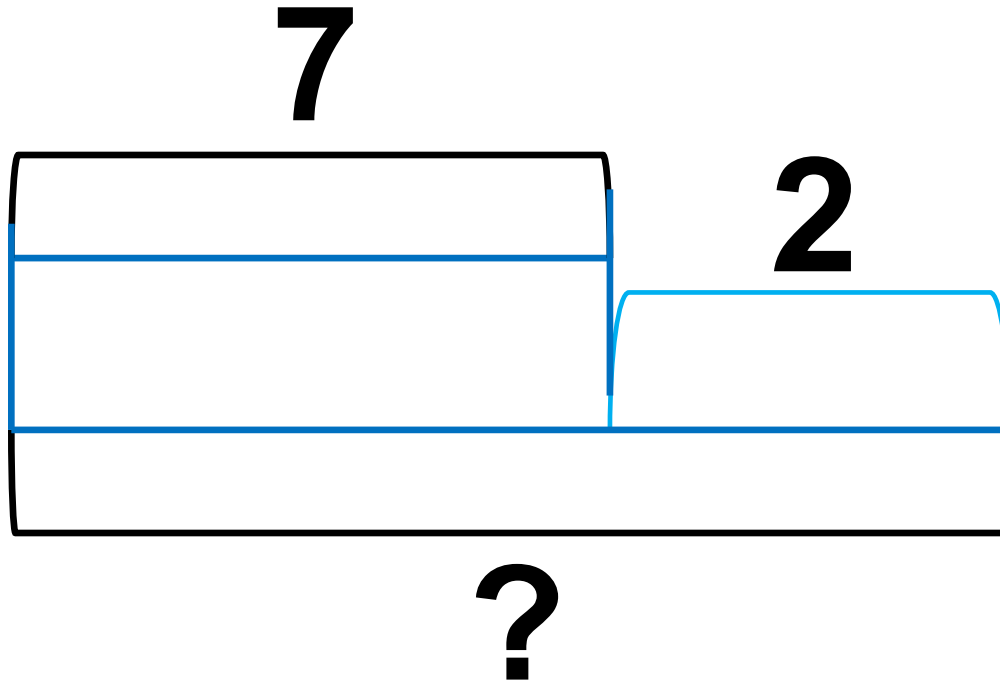
$3 + 2 = 5$

$3 + 2 + 3 = 8$

$4 + 2 = 6$

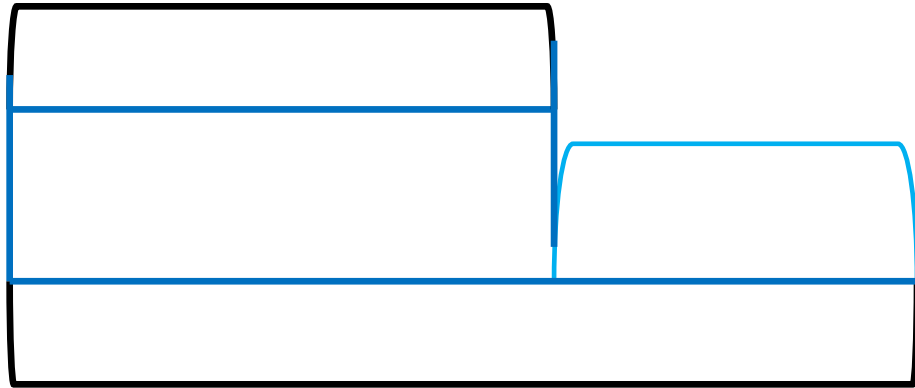

$4 + 2 + 2 = 8$

Придумайте задачу по схеме



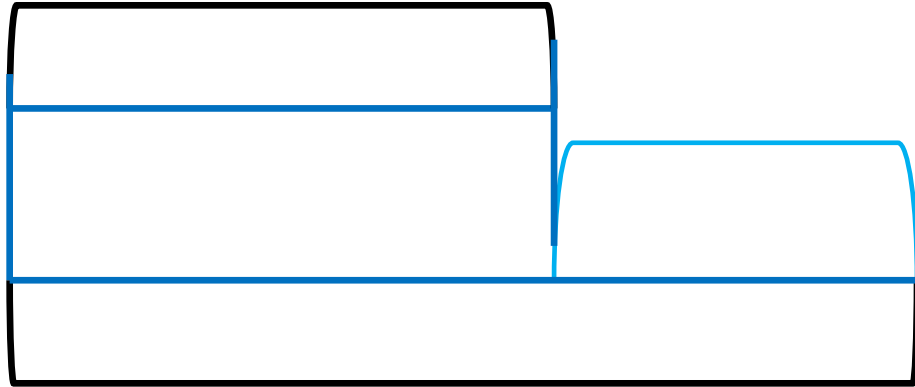
Решите задачу

В первый день Миша подклеил 2 книги, а во второй – на 3 книги больше. Сколько книг подклеил Миша во второй день?



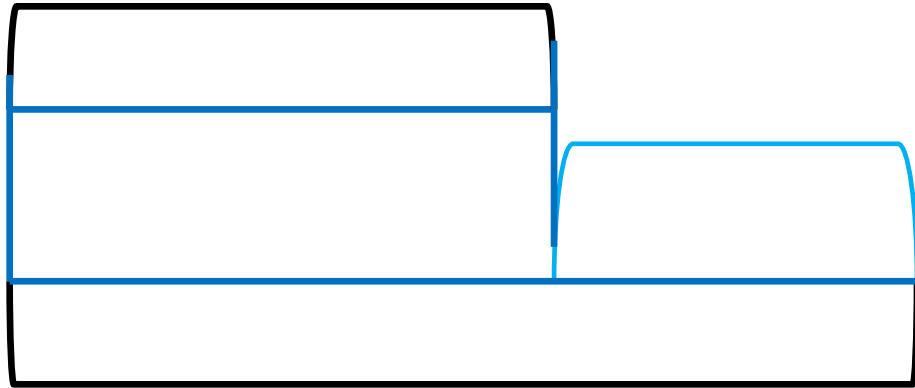
Решите задачу

В первой коробке было 5 карандашей. Это на 3 карандаша меньше, чем во второй коробке. Сколько карандашей во второй коробке?



Решите задачу

На тарелке лежало 5 пирожков и 3 ватрушки. На сколько меньше лежало ватрушек, чем пирожков?



Вычислите

$$4\text{см} + 3\text{см} + 1\text{см} = 8\text{см}$$

$$8\text{см} - 3\text{см} - 4\text{см} = 1\text{см}$$

**Задания подготовлены по книге «Устные упражнения на уроках математики. 1 класс» (авт. Л.Г. Петерсон, И.Г. Липатникова)
Презентация выполнена Галановой Е.В., учителем начальных классов
ГБОУ школы №328 Санкт-Петербурга**