





Неделя математики.





Любитель порядка  
Настольная лампа,  
Зеленый диван,  
Сидит на диване  
Матюшин Иван.  
Он пишет...  
Не будем, ребята, мешать,  
А только тихонько  
Заглянем в тетрадь.  
В тетрадке написано  
Все по порядку:  
«В семь двадцать встаем,  
Производим зарядку.  
В восемь тридцать,  
Умывшись холодной водой,  
Застелем постель  
И займемся едой.  
Без четверти восемь  
Дрова мы приносим.  
Готовим по плану  
Похлебку Полкану —  
И в класс направляемся  
В восемь ноль пять».

Вопрос: сколько времени уходит у Ивана от подъема до выхода в школу?



## Жуки и пауки

Вопрос: сколько ног у жука?

Сколько ног у паука?

У меня в одной коробке три жука,

А в другой имею я три паука.


В уголке шуршат бумагой два ежа,

А в двух клетках распевают два чижа.

Кто, ребята, сосчитать бы мне помог,

Сколько вместе все они имеют ног?

Посадила бабка в печь  
Пирожки с капустой печь.  
Для Наташи, Маши, Тани,  
Коли, Оли, Гали, Вали  
Пирожки уже готовы.  
Да еще один пирог  
Кот под лавку уволок.  
Да в печи четыре штуки,  
Пироги считают внуки.  
Если можешь, помоги  
Сосчитать им пироги.



22 совы скучали  
На больших сухих суках,  
22 совы мечтали  
О 7 больших мышах.  
О мышах довольно юрких,  
В аккуратных серых шкурках.  
Слюнки капали с усов  
У огромных серых сов.  
Сколько было сов?



10 солдат строились в ряд,  
10 солдат шли на парад.


9/ 10 было усатых,

Сколько там было безусых солдат?

10 солдат строились в ряд,  
10 солдат шли на парад.

8/ 1 0 было носатых,

Сколько там было курнос



Мляша коллекционирует  
млянечки, а Пляша – плянечки. У  
Мляши млянечков в 3 раза  
больше, чем у Пляши плянечков.  
Сколько у Пляши плянечков, если  
у Мляши 69 млянечков?



Над болотцем тихо, тихо...

В теплом воздухе парят  
Сам Комар да Комариха,  
С ними туча комарят!

Комариха с Комаром говорят:

— Сосчитай-ка, Комар, комарят.

— Как же счесть, Комариха, комарят?

Не поставишь комарят наших в ряд.

Насчитала Комариха сорок пар,

А продолжил счет сам Комар.

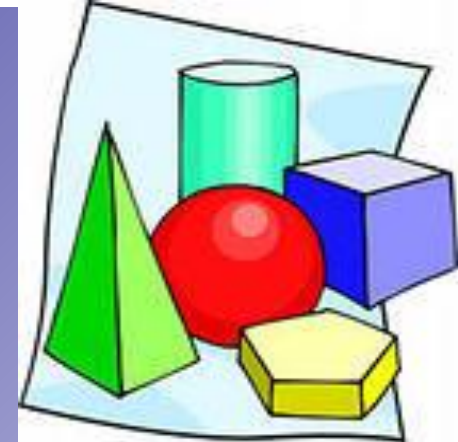
Комарят Комар до вечера считал,

Насчитал 13 тысяч и устал...


А теперь сосчитайте сами вы, друзья,

Велика ли комариная семья?





7 тарелок им умыты,  
8 чашек не забыты,  
Ложек — дюжина одна  
Чистота кругом видна  
Вы готовы дать ответы,  
Сколько всей посуды этой  
Перемыл он, сын-проказник?  
Дело было в мамин праздник.



Если Грушам дать по груше,  
То одна в избытке груша,  
Если дать по паре груш,  
То не хватит пары груш.  
Сколько Груш и сколько груш?





- 1) 45 минут
- 2) 54 ноги
- 3) 12 пирогов
- 4) 22 совы



- 5) 1 безусый, 2 курнос
- 6) 23

7) 13082 комара

8) 27

9) 3 девочки, 4 груши

