



Отрезок. Луч. Прямая

Графический диктант

5 класс

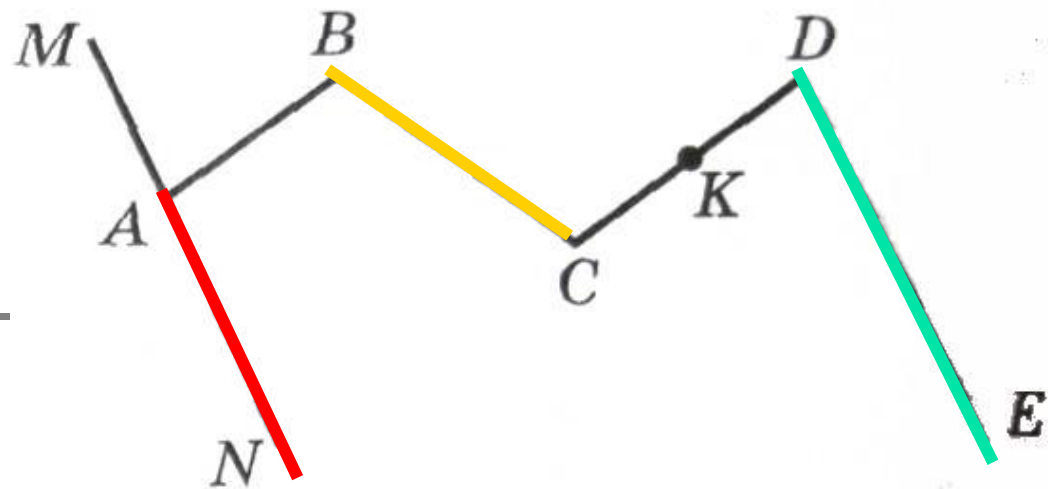
Учитель математики Коптева Е.М.

МОУ «Пустошинская СОШ»

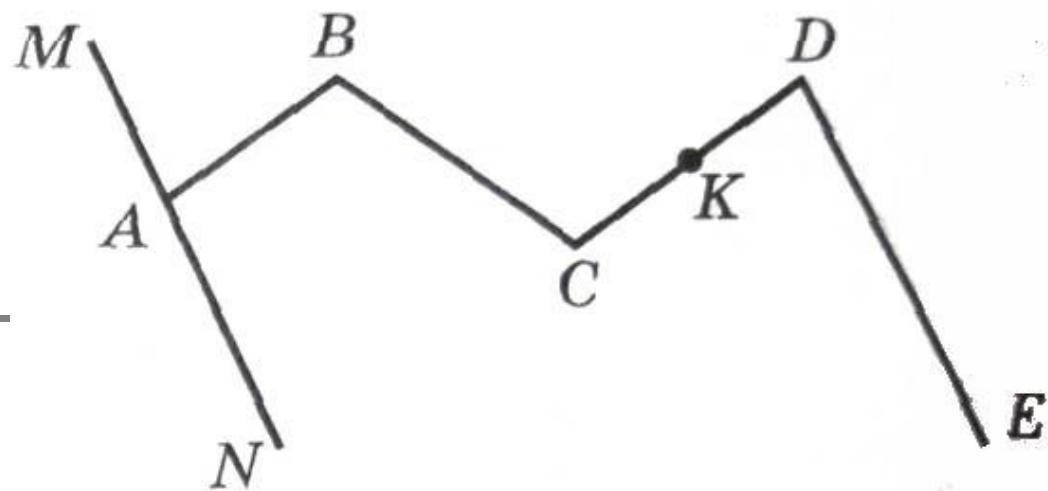
Приморский район

Архангельская область

2010



- 1) BC - отрезок;
- 2) AN - луч;
- 3) DE - прямая;
- 4) $ABCD$ - ломаная;
- 5) MN - прямая;



6) $CK + KD = CD$;

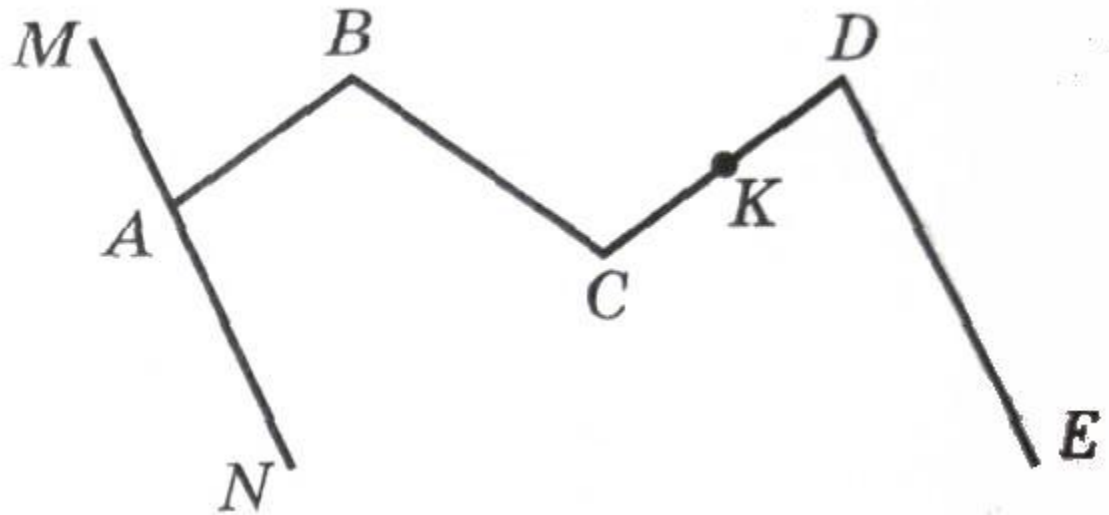
7) AB - *прямая*;

8) $AB + BC + CD$ - *длина ломаной*;

9) MA - *луч*;

10) $BCDE$ - *ломаная*.

Проверь себя



1) BC - отрезок;

2) AN - луч;

3) DE - прямая;

4) $ABCD$ -
ломаная;

5) MN - прямая;

6) $CK + KD = CD$;

7) AB - прямая;

8) $AB + BC + CD$ -
длина ломаной;

9) MA - луч;

10) $BCDE$ - ломаная.



Ресурсы



- В. Тарасова. Графические диктанты. Газета «Математика» № 47 – 2001
- ©«Одиссей», 2008. greenstreet®