



Сравнение чисел



5класс

МОУ «Усть-Мосихинская СОШ»

Новосёлова Е.А.

Вопре

Запишите числа

- Триста пятнадцать миллионов восемь тысяч шестьсот;

315008600

- Шестьсот три миллиона шестьдесят тысяч двадцать;

603060020

- Два миллиарда семь миллионов сорок пять;

2007000045

- Пятьдесят миллионов сорок восемь тысяч шесть;


50048006

- Девять миллионов девяносто девять тысяч девять.

9099009



● Высота телебашни в Алма-Ате-372м.;



● В Таллинне -314 м.;

● В Москве-536 м.;


● В Санкт-Петербурге- 315 м.



● Расположите числа в порядке убывания.



- Высота Красноярской плотины-128 м.;
- Ингурской-301 м.
- Токтогульской- 215 м.;
- Нурекской- 310 м.;
- Братской- 125 м.;
- Саяно-Шушенской- 234 м.



- Расположите числа в порядке возрастания

125

128

215

234

301

310

- Длина реки Волга- 3520 км.;




Дона- 1870 км.;

Дуная-2850 км.

Запиши числа в виде
неравенства

$$1870 < 2850 < 3520$$

Напишите вместо * знак $<$ или $>$ так, чтобы было верное неравенство



- $204 < 2004$;
- $554 > 1$;
- $0 < 412$;
- $8269 < 8271$;
- $18324921 > 18324847$;
- $69398801 < 69398810$.

Молодцы!

Вместо * поставьте цифру так, чтобы неравенство было верным.



● $617^* < 6171$;

● $3454 > 34^*9$;

● $3128 < 312^*$;

● $2785 < 27^*0$.

● Запишите четырёхзначное число, оканчивающееся цифрой 5, которое меньше 1015.

1005

● Запишите пятизначное число, которое больше 99988 и оканчивается цифрой 6.

99996

- В записи пар чисел одинаковыми буквами зашифрованы одни и те же цифры.
- Сможете ли вы сравнить эти числа?

МУХА $>$. КИТ ;


СОВА $=$. СОВА;

A8B00 $>$. A6B00 ;

1RS $<$. 32V;

49 $<$. КОТ;

ТКА $>$. ТК0



Домашнее задание:

№152;
№161



Желаю
удачи!