


# **Внеклассное занятие**





**Там на неведомых  
дорожках  
Следы невиданных зверей,  
Избушка там на курьих  
ножках  
Стоит без окон, без дверей.**



В гостях у

сказки

# Математическое царство





# Разложите карточки

## лесного

## лото в порядке

## уменьшения

7  
0

10

2

8

1  
й

5  
щ

6

4

3  
е

9  
к

# Василису Прекрасную послал





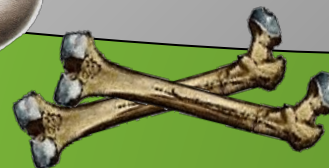


1	2	3	4	5	6	7	8	9	10
---	---	---	---	---	---	---	---	---	----





**Верная дорога  
та,  
где ответ не  
самый большой  
и не самый  
маленький**





$$9 - 3 = 6$$

$$6 + 2 = 8$$

$$7 + 3 = 10$$


$$8 < 10$$



# Запишите состав чисел



6, 7, 8.





# Задачка №1 от Бабки-

## Ёжки

Пять веселых  
медвежат

За малиной в лес  
спешат.

Испугался вдруг один,  
Убежал и след  
простыл.

$5 - 1 = 4$

Сколько смелых  
медвежат

За малиной в лес  
спешат?



# Задачка №2

от Бабки-

Три зайчонка,  
Два бельчонка

Ежки

Ходят вместе  
В детский сад.

Подсчитать прошу,  
Сколько малышей в  
саду?

$$3 + 2 = 5$$







ЗМЯ ГОРЫНЫЧ

Раскрасить примеры первому ряду

- с ответом 5, второму – 6, третьему - 7

$2 + 3$

$7 - 1$

$6 + 1$

$8 - 1$

$6 - 1$

$4 + 2$

$3 + 3$

$5 + 2$

$7 - 2$



Спасибо  
за  
помощь!





**Все**

**МОЛОДЦЫ!**