

Викторина по математике



У Сергея Ивановича 5
дочерей, и у каждой
из них есть брат.
Сколько детей у
Сергея Ивановича?



На веревке завязали
6 узлов. На сколько
частей эти узлы
разделили веревку?



Иван Петрович – отец
Нины Ивановны, а
Толя – сын Нины
Ивановны Кем Толя
приходится Ивану
Петровичу?




По улице идут два
сына и два отца.
Сколько всего
человек идут по
улице?



Решите анаграммы:







ААЛТЕРК
ДМОНЧЕА
ШКААЧ



ЗАПОЛНИ МАГИЧЕСКИЙ КВАДРАТ

| | | |
|-----------------------------------------------------------------------------------|--------------------------------------------------------------------------------------|-------------------------------------------------------------------------------------|
|  |  | 11 |
|  | 8 |  |
| 5 |  | 9 |

ДОРИСУЙ НУЖНУЮ ФИГУРУ:



- Сколько пальчиков у четырех мальчиков?
- Сколько ушей у пяти малышей?
- Сколько ушек у трех старушек?
- Сколько носов у двух псов?



Расшифруйте героя сказки

| | |
|---|-----------|
| л | $180 : 2$ |
|---|-----------|

| | |
|---|-----------|
| в | $350 : 2$ |
|---|-----------|

| | |
|---|-----------|
| ь | $72 - 26$ |
|---|-----------|

| | |
|---|------------|
| и | $420 : 60$ |
|---|------------|

| | |
|---|-----------|
| а | $46 : 23$ |
|---|-----------|

| | |
|---|------------|
| м | $540 : 90$ |
|---|------------|



| | |
|---|-----------|
| н | $400 : 8$ |
|---|-----------|



| | | | | | | | |
|---|---|----|----|-----|---|----|---|
| 6 | 2 | 90 | 46 | 700 | 7 | 50 | 2 |
| | | | | | | | |

Расставьте числа от 1 до 16 так, чтобы сумма чисел на стороне квадрата составляла 34. сумма на вершинах каждого квадрата тоже должна быть 34

