
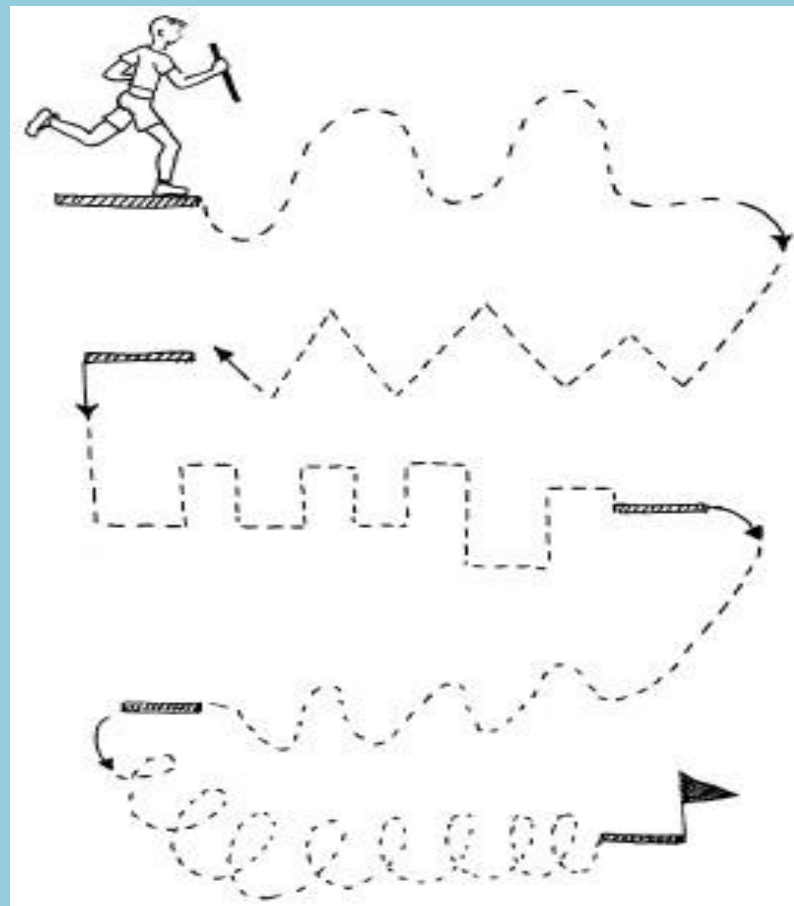





Подготовка к школе

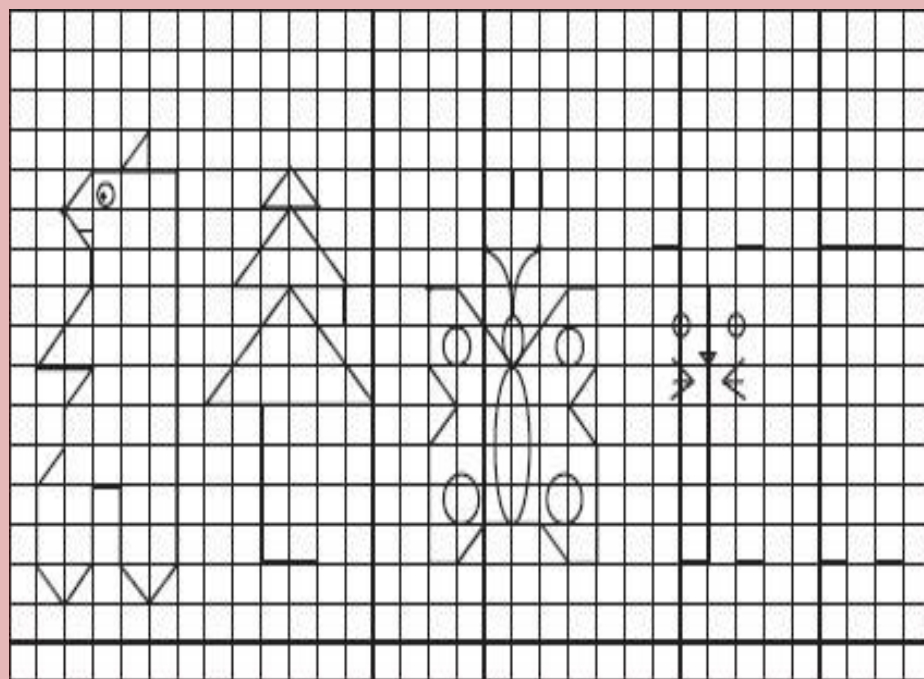
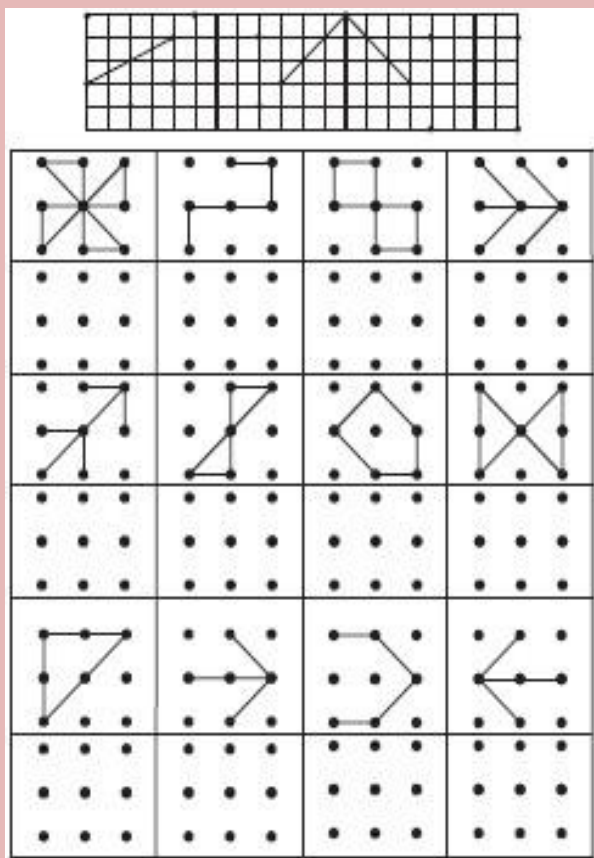


Упражнения для развития мелкой моторики






Упражнения на развитие мышления






Назови одним словом



Что лишнее?



Найди отличия



Времена года



Профессии



Упражнения для развития математических способностей

ЗАНЯТИЕ 44


9. Реши примеры

$5 + 5 =$	$8 + 1 =$	$8 - 8 =$	$4 + 1 =$	$8 - 2 =$
$4 + 5 =$	$4 + 4 =$	$9 - 7 =$	$6 - 5 =$	$2 + 1 =$
$3 - 2 =$	$9 + 1 =$	$7 - 0 =$	$7 - 3 =$	$8 + 2 =$

10. Число сбежало.

$\dots - 7 = 1$	$10 - \dots = 7$	$3 + \dots = 4$	$8 - \dots = 2$	$10 - \dots = 10$
$\dots + 6 = 10$	$\dots - 2 = 2$	$6 - \dots = 1$	$\dots + 3 = 7$	$5 + \dots = 10$

11. Продолжи узор.



12. Пропиши.


○○○	
ooo	
○○○○	
□□□□	
△△△△	

198


ЗАНЯТИЕ 1

Один — много

5. Чего на картинке много, а что — одно?




6. Раскрась одну бабочку и много цветов. Нарисуй одну бабочку.




5

Геометрические фигуры




КРУГ



КВАДРАТ




ТРЕУГОЛЬНИК



ПОЛУКРУГ



ПРЯМОУГОЛЬНИК



ОВАЛ

Развитие грамматических способностей

Подготовка к обучению грамоте

• Помоги буратино найти и зачеркнуть неправильные буквы.

ЗЭ ИИ ЖК МИ

• В каждом слове найди букву, которая написана неправильно. Соедини слово с нужной картинкой. Напиши букву правильно и прочти слово.

ДЫНН	ЖОТЫ	ВОДА
ШАЧФ	ЛОСИ	МУЖА
СЭНО	ЛУЖА	ЗАРР
РОЗА	ТОРА	ЛИСА

МУКА

Подготовка к обучению грамоте

• В каждом квадратике соедини слог так, чтобы у тебя получилось слово.

ЛОД	ПОД	ЗА	ЛОЖ
РЫ	КА	КУВ	ШИН
СОС	ФАН	БУД	КА
ВА	НА	НЕ	ЖОК
ЩЕ	ТОК	ГРА	ЛИ
ГОЛ	ДЫ	НАТ	ТОК
КАК	ТУС	ГЛО	ЗА
ЛЯ	МОК	МЫ	БУС


44
45

Составь рассказ по картинке



Комплексные упражнения

6. Наклей вырезанные фигуры так, чтобы в каждом столбике и в каждом ряду они были разными.



7. Зачеркни лишнее и объясни.



Зачеркни лишнее и объясни.



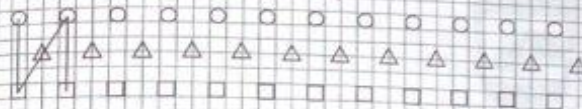
ЗАНЯТИЕ 23

1. Сделай чертёж. 1 клетка наискосок вверх вправо, 1 — наискосок вниз вправо, 1 — наискосок вверх вправо.

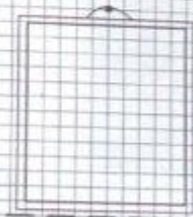
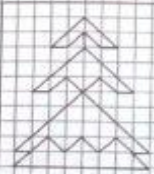
2. Реши примеры.



3. Найди закономерность и заверши чертёж.



4. Повтори рисунок.



5. Пришей в указанные места маленькие пуговицы.





Спасибо за внимание

