



СЕВЕРНАЯ АМЕРИКА
28 млн 200 тыс. кв. км

ЗАПАДНОЕ ПОЛУШАРИЕ

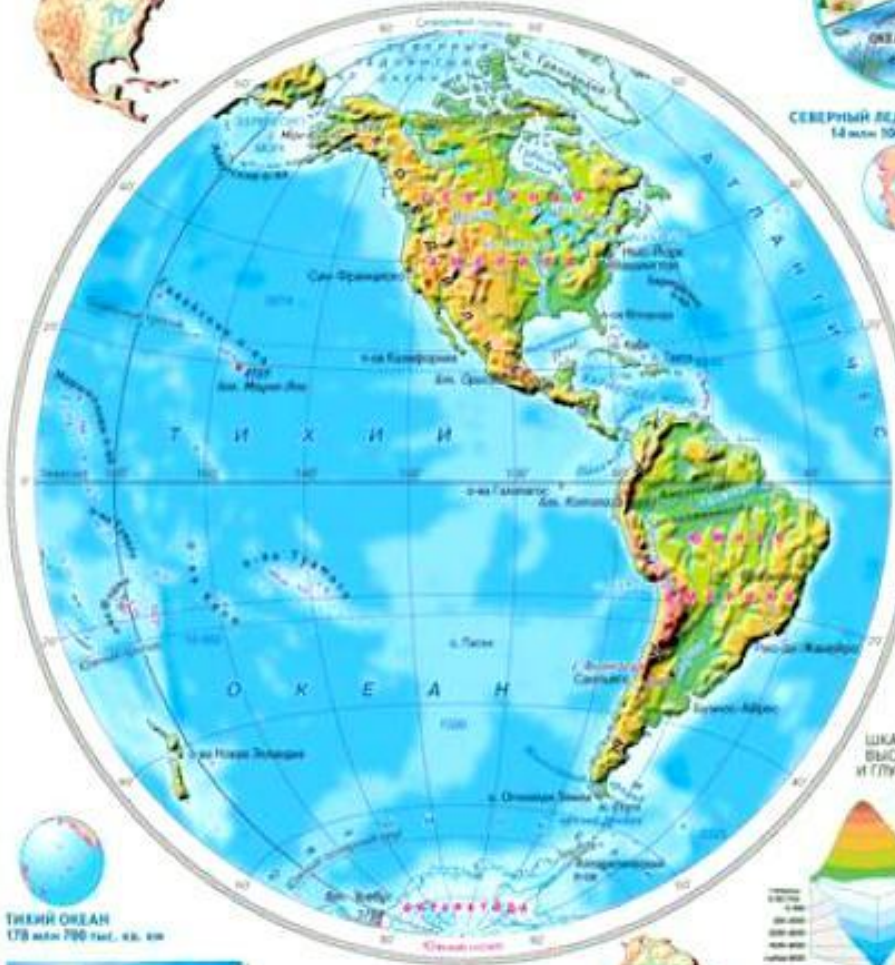


СЕВЕРНЫЙ ЛЕДОВИТЫЙ ОКЕАН
14 млн 100 тыс. кв. км

ВОСТОЧНОЕ ПОЛУШАРИЕ



ЕВРАЗИЯ
54 млн кв. км



ТИХИЙ ОКЕАН
178 млн 700 тыс. кв. км




Озеро Титикака

АТЛАНТИЧЕСКИЙ ОКЕАН
91 млн 700 тыс. кв. км



ЮЖНАЯ АМЕРИКА
17 млн 800 тыс. кв. км



ШКАЛА
ВЫСОТ
и ГЛУБИНЫ

- УСЛОВНЫЕ ЗНАКИ**
- Горы, возвышенности
 - Океан
 - Вулканы
 - Корабельные рефы
 - 6194 — Средняя высота океана только уровнем моря
 - 618 — Средняя глубина воды
 - 3000 — Средняя глубина
 - Вулканы
 - Корабельные рефы



АФРИКА
30 млн 300 тыс. кв. км



АНТАРКТИДА
13 млн 200 тыс. кв. км

ИНДИЙСКИЙ ОКЕАН
78 млн 200 тыс. кв. км

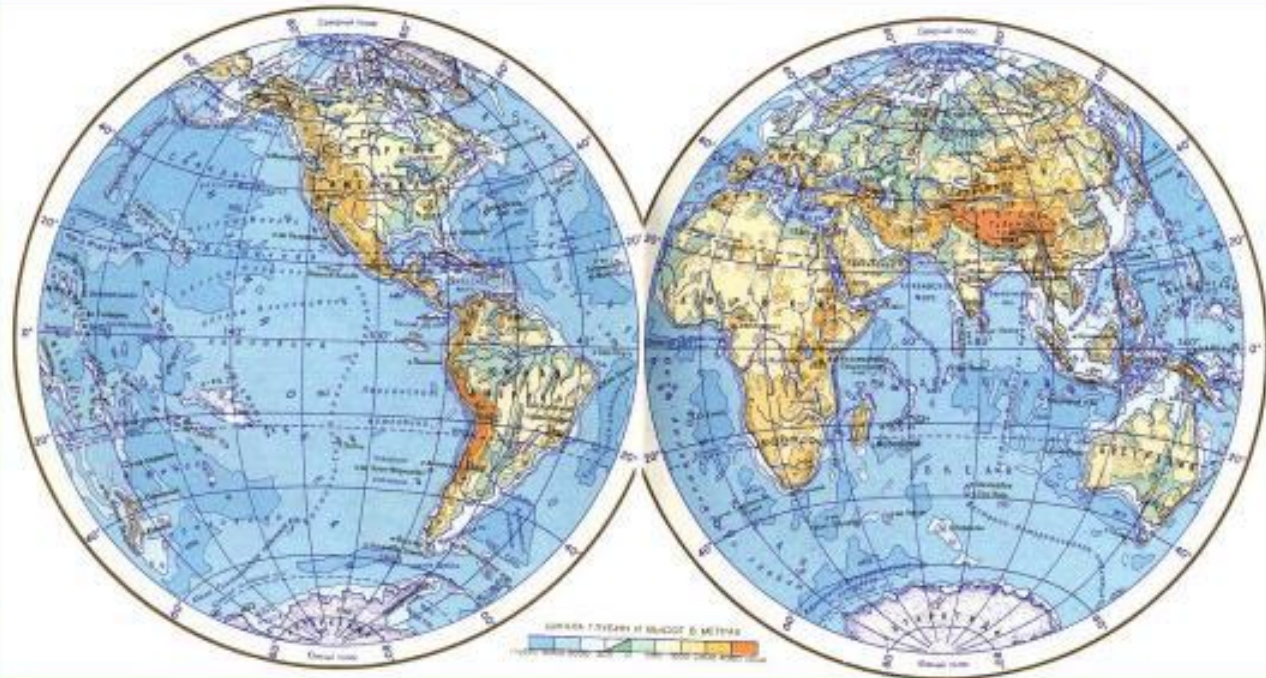


АВСТРАЛИЯ
9 млн кв. км



Экватор

Южный океан объединяет части площадей трех океанов — Индийского, Атлантического и Тихого к югу от 60° ю.ш.



**Сравни:
глобус и
карту полушарий.**

УЧИМСЯ ЧИТАТЬ КАРТУ

ЦЕЛИ:

- Расширить знания о карте полушарий;
- Научиться находить и показывать на карте физические объекты.

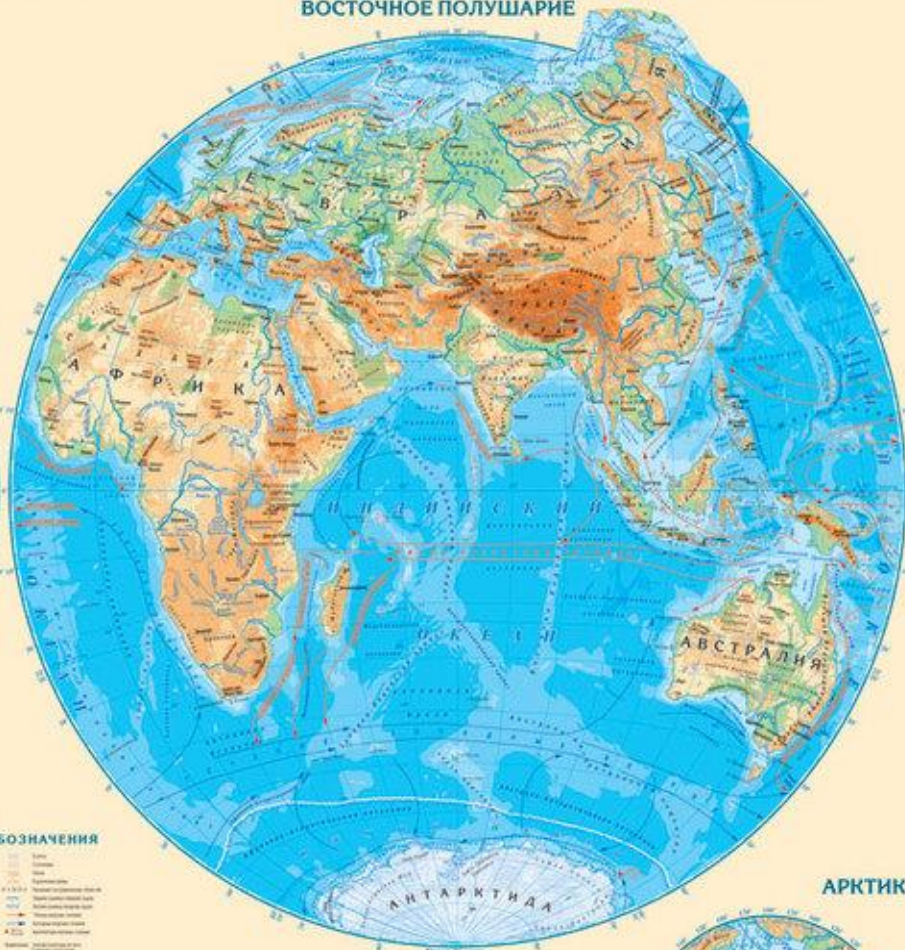
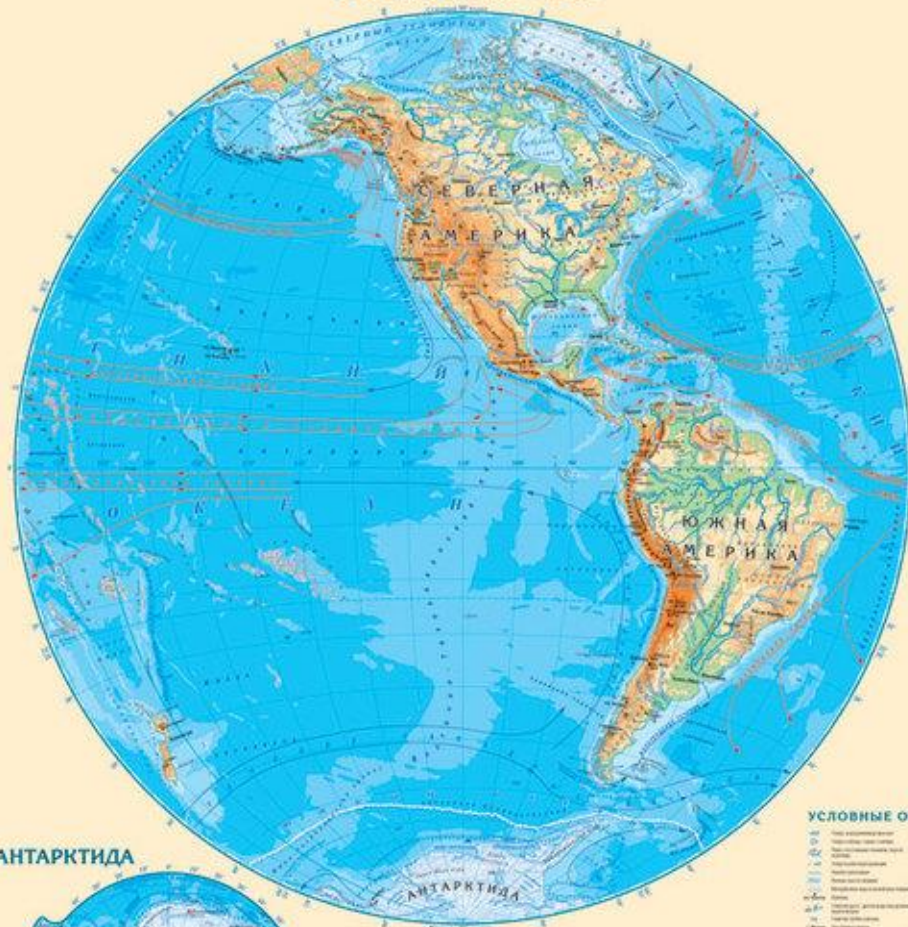
МАСШТАБ 1 : 43 000 000
1 см = 430 км

МИР

ФИЗИЧЕСКАЯ КАРТА
ПОЛУШАРИЙ

ЗАПАДНОЕ ПОЛУШАРИЕ

ВОСТОЧНОЕ ПОЛУШАРИЕ



АНТАРКТИДА



АРКТИКА



УСЛОВНЫЕ ОБОЗНАЧЕНИЯ

- | | | | |
|---|-----------------|---|-----------------|
| — | Горы | — | Горы |
| — | Плато | — | Плато |
| — | Равнины | — | Равнины |
| — | Вулканы | — | Вулканы |
| — | Ледники | — | Ледники |
| — | Озера | — | Озера |
| — | Реки | — | Реки |
| — | Каналы | — | Каналы |
| — | Морские каналы | — | Морские каналы |
| — | Морские проливы | — | Морские проливы |
| — | Морские заливы | — | Морские заливы |
| — | Морские бухты | — | Морские бухты |
| — | Морские фьорды | — | Морские фьорды |
| — | Морские лиманы | — | Морские лиманы |
| — | Морские лагуны | — | Морские лагуны |
| — | Морские заливы | — | Морские заливы |
| — | Морские бухты | — | Морские бухты |
| — | Морские фьорды | — | Морские фьорды |
| — | Морские лиманы | — | Морские лиманы |
| — | Морские лагуны | — | Морские лагуны |
- Шкала высот и глубин в метрах



ДОМАШНЕЕ ЗАДАНИЕ:

Учебник с. 25-27 – пересказ.