


Окружающий мир

2 класс




УМК «Школа России»

**Автор работы:
учитель начальных классов
МОУ «СОШ ст. Евсино»
Фокина Лидия Петровна
2011**



**Тест по теме
«Формы земной
поверхности»**

Инструкция:

1. Прочитай внимательно вопрос.
2. Прочитай внимательно все ответы.
Помни, что ответов может быть несколько.
3. Выбери    геометрическую фигуру (или фигуры) , , , соответствующую вашему ответу.
4. Нарисуй на своём контрольном листе.

1. Как называется ровный участок земли, занимающий большую площадь и имеющий небольшие различия по высоте?



поле



луг



равнина

2. Какие горы разделяют Восточно-Европейскую и Западно-Сибирскую равнины?

△ Кавказ

□ Урал

○ Алтай

3. По какой территории протекает река Обь?

- по Восточно-Европейской равнине
- по Средне-Сибирскому плоскогорью
- по Западно-Сибирской равнине

4. Как называется углубление в земле с круглыми склонами?



яма



рытвина



овраг

5. Как называется место, где начинаются гора и холм?



СКЛОН



ПОДНОЖИЕ



ВЕРШИНА

6. Чем гора отличается от холма?

- ▲ местом расположения
- занимаемой площадью
- ВЫСОТОЙ

7. Каких равнин не бывает?



ПЛОСКИХ



ОВРАЖНЫХ



ХОЛМИСТЫХ

8. Какой высоты могут достигь холмы?

- ▲ до 200 метров
- до 500 метров
- до 1000 метров

9. На какой территории располагается столица нашей страны - Москва?

на Восточно-Европейской

равнине

на Средне-Сибирском
плато

на Западно-Сибирской равнине

10. В каких горах находится
самая высокая гора - Эльбрус?

- в Саянах
- на Кавказе
- на Урале

Ключ к ответам



Используемые источники:

Тихомирова Е. М. Тесты по предмету «Окружающий мир»: 2 класс. М.: Издательство «Экзамен», 2007

Автор работы:
Фокина Лидия Петровна
FokinaLida.75@mail.ru