



Чтоб пятерки получать,

научитесь умножать!

Тест для пятиклассников.



Однолетова Т.Г.

МОУ «Красногорбатская средняя
общеобразовательная школа»


1. Одно из чисел при умножении называется

А. слагаемое;


Б. множитель;

В. уменьшаемое;

Г. сумма.



2. Если один из множителей равен 1, то произведение равно:



- А. 0;
- Б. 1;
- В. Другому множителю;
- Г. Другой ответ



3. Если один из множителей равен 0, то произведение равно:

• А. 0;

Б. 1;

В. Другому множителю;

Г. Другой ответ



4. Вычислите за 3 минуты
(записывайте только номер
примера и ответ)

• 1. $8 \cdot 7$
• 7

8. 6

2. $9 \cdot 6$
• 6

9. 7

3. $14 \cdot 3$

10.

18 • 3

4. $24 \cdot 4$

11. 6

• 4



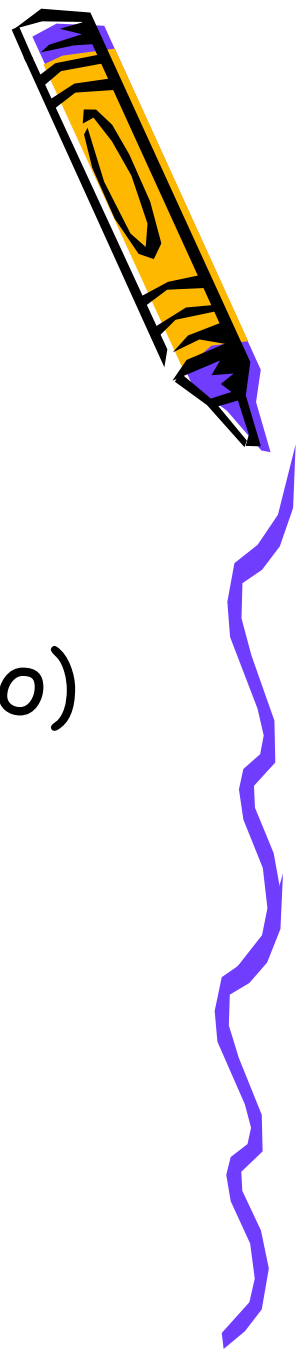
5. Вычислите $3174 \cdot 8$


- А. 25 382
- Б. 24 392
- В. 25 392
- Г. Другой ответ (запишите его)



6. Вычислите $123 \cdot 305$

- А. 4 305
- Б. 37 515
- В. Другой ответ (запишите его)
- Г. 37 615






7. Вычислите $6030 \cdot 180$

- А. 1 085 400
- Б. 185 400
- В. 108 540
- Г. Другой ответ (запишите его)




8. Вычислите
 $2\,500 \cdot 2\,000$

- А. 500 000
- Б. 5 000 000
- В. 50 000 000
- Г. Другой ответ (запишите его)



9. Топтыжка прочитал 8 книг по 97 страниц в каждой, а Торопышка - 6 книг по 119 страниц. Кто прочитал страниц больше и на сколько?

- А. Топтыжка на 64 страницы.
- Б. Торопышка на 72 страницы.
- В. Они прочитали поровну.
- Г. Другой ответ (запишите его).



10. Длина домика Топтыжки
4 м, ширина 3 м. Найдите
площадь домика.



- А. 12 м^2
- Б. 7 м^2
- В. 14 м^2
- Г. Другой ответ (запишите его)

