



# Конструирование

## фартука и

## КОСЫНКИ

5 класс

Проверка знаний.

Выполнила: ЛУГИНИНА НАТАЛЬЯ НИКОЛАЕВНА  
Учитель технологии МОУ СОШ № 31 г.Тверь.



# ИНСТРУКЦИЯ К ТЕСТУ

- *Внимательно прочитай вопрос.*
- *Из вариантов выбери один или несколько правильных ответов.*
- *Стрелкой курсора нажми на ответ, который считаешь верным.*
- *Нажав на стрелку рядом с вопросом, переходи к следующему.*

***ЖЕЛАЮ УДАЧИ!***



# Название деталей фартука:



- а). Бретели; б). Лямки;
- а). Грудка; б). Нагрудник;
- а). Пояс; б). Тесёмки;
- а). Боковые карманы;
- б). Накладные карманы;
- а). Юбочка;
- б). Нижняя часть фартука;



**Чертёж** – это

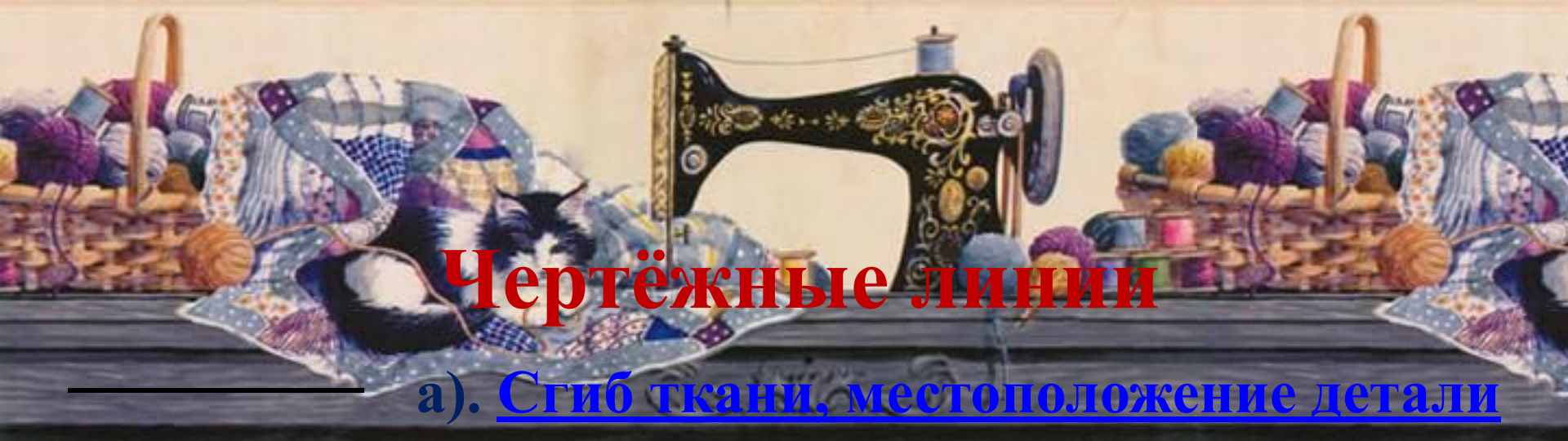
- а). Нарисованное изображение предмета;
- б). графическое изображение предмета;

**Масштаб** –указывает

- а). размеры предмета меньше;
- б). размеры предмета больше;

**Масштаб 1:4** означает

- а). уменьшение в 4 раза;
- б). увеличение 4 раза;



## Чертёжные линии

а). Сгиб ткани, местоположение детали

на выкройке; б). Сплошная основная;

а). Обводка контуров основных деталей

б). Штриховая;

а). Оси симметрии детали или изображения; б). Сплошная волнистая;

а). Вспомогательные линии построения, выносные и размерные линии;

б). Штрихпунктирная;

а). Сплошная тонкая;

б). Прерывание чертежа;



## Применяемые знаки



а). Откладываем; б). Получаем;

$$\downarrow \text{ОБ} = \text{ОТ} + \text{Дст} : 2 =$$

а). Строим в левом углу прямой угол, получаем точку А;

б). Вниз от точки О до точки Б откладываем (например, 24 см);

П / В

а). Откладываем;

б). Постоянная величина;


Строим   $\Rightarrow$  (•) А

а). Строим в левом углу прямой угол, получаем точку А; б). Откладываем;



## **Базисная сетка -**

- а). совокупность вертикальных и горизонтальных линий, определяющих длину и ширину участков чертежа и всего изделия в целом;**
- б). прямоугольник, определяющий длину и ширину изделия;**
- в). Геометрическая фигура, определяющая основные размеры изделия;**



**а) Линия нагрудника;**  
**б). Верхний срез;**

**T1** **а) Линия талии;**  
**б). Линия пояса;**

**а). Базисная сетка;**  
**б). Основа фартука;**

**а) Линия низа;**  
**б) Линия бёдер;**





**Какая деталь  
изображена на  
рисунке?**

**а). фартук с  
нагрудником;**

**б). фартук без  
нагрудника;**

**Каково количество  
деталей изображено  
на схеме?**

**а). Одна; б). Две;**



**Какая деталь фартука изображена на рисунке?**

**а). квадрат; б). карман;**



**Где эта деталь может располагаться на фартуке?**

**а). на нагруднике; б). на нижней части фартука;**  
**в). где угодно;**




Какие детали для фартука вы видите на рисунке? а). пояс;

б). бретель; в). полоски;

Какова ширина этих деталей?

а). 7 см; б). Зависит от модели;

в). Зависит от количества ткани;



**Какую деталь из комплекта фартука вы видите?**

**а). Бандан; б). Косынку;**

**Как вы думаете сколько деталей изображено?**

**а). Одна; б). Две;**



**СПАСИБО**

**ЗА**

**РАБОТУ!**



**МОЛОДЕЦ!**





**Ответ не верный!**

