

Вопрос

Назовите основных участников хозяйственной деятельности

Какие два значения имеет слово «экономика»?

С чьим именем связывают возникновение экономики как искусства ведения домашнего хозяйства?

«Отец» экономики



Вопрос

В чем заключается главная цель экономики?

Что такое «блага»? Какие различают виды благ?

Что такое «факторы производства»?
Перечислите их и дайте определение



Ограниченность ресурсов

- недостаточность объема имеющихся ресурсов всех видов для производства того объема благ, который люди, хотели бы получить.



В чем проявляется ограниченность факторов производства?




Последствия ограниченности ресурсов:

Собственность




Альтернативная
стоимость (цена
выбора)



Последствия ограниченности ресурсов

- Возникновение права собственности (стр. 24)
- Собственность на ресурсы становится источником доходов для их владельцев



- **Факторные доходы**- стр. 27
- **Вознаграждение, получаемое владельцами факторов производства за то, что они предоставляют их в пользование для организации производства благ**

| Факторы производства | Ограниченность | Факторный доход |
|---------------------------------|--|-------------------------------------|
| труд | Число жителей и уровень образования | заработная плата |
| земля | География страны; наличие в недрах полезных ископаемых; разработанность месторождений; доступность | рента |
| капитал | Предыдущим уровнем развития | Часть прибыли аренда |
| Предпринимательские способности | Наличие таланта (8%–10%) | Часть прибыли Заработная плата |
| информация | наличие | Авторское вознаграждение гонорар |

Последствия ограниченности ресурсов

- Возникновение права собственности вызывает возникновение множества видов собственности (стр. 25)



- Рис. 1-6

Главное экономическое
последствие ограниченности
ресурсов – проблема выбора

Проблема выбора

Труд

Земля

Капитал

Предпри
нимател
ьство

Информ
ация

Факторы
производ
ства

ПОТРЕБНОСТИ

Ограниченные

Безграничные

ПРОБЛЕМА ВЫБОРА

На что потратить
ресурсы

От чего отказаться

Любой выбор имеет свою цену, которую в экономике принято называть альтернативными издержками, упущенной выгодой или ценой выбора (стр. 28)

Альтернативная стоимость

- ценность для человека наиболее предпочтительного из благ, получение которых становится невозможным при избранном способе использования ограниченных ресурсов



Главные вопросы экономики

ЧТО?

КАК?

КТО?

- Ограниченность ресурсов ограничивает варианты принятия решений. Наглядно варианты принятия решений изображаются **кривой производственных возможностей**. Она состоит из множества точек, **каждая** из которых соответствует одной из **комбинаций** объемов выпуска различных благ ***при условии полного использования ресурсов***, имеющихся у страны.

Кривая производственных возможностей

| танки | грузовики |
|-------|-----------|
| 6 000 | 0 |
| 5 500 | 3 000 |
| 5 000 | 6 000 |
| 3 000 | 10 000 |
| 2 000 | 12 000 |
| 0 | 15 000 |

грузовики

1500

1200

9 000

6 000

3 000

0

1000 2000 3000 4000 5000 танки

Кривая производственных возможностей

| танки | грузовики |
|-------|-----------|
| 6 000 | 0 |
| 5 500 | 3 000 |
| 5 000 | 6 000 |
| 3 000 | 10 000 |
| 2 000 | 12 000 |
| 0 | 15 000 |

грузовики

1500

1200

9 000

6 000

3 000

0

1000

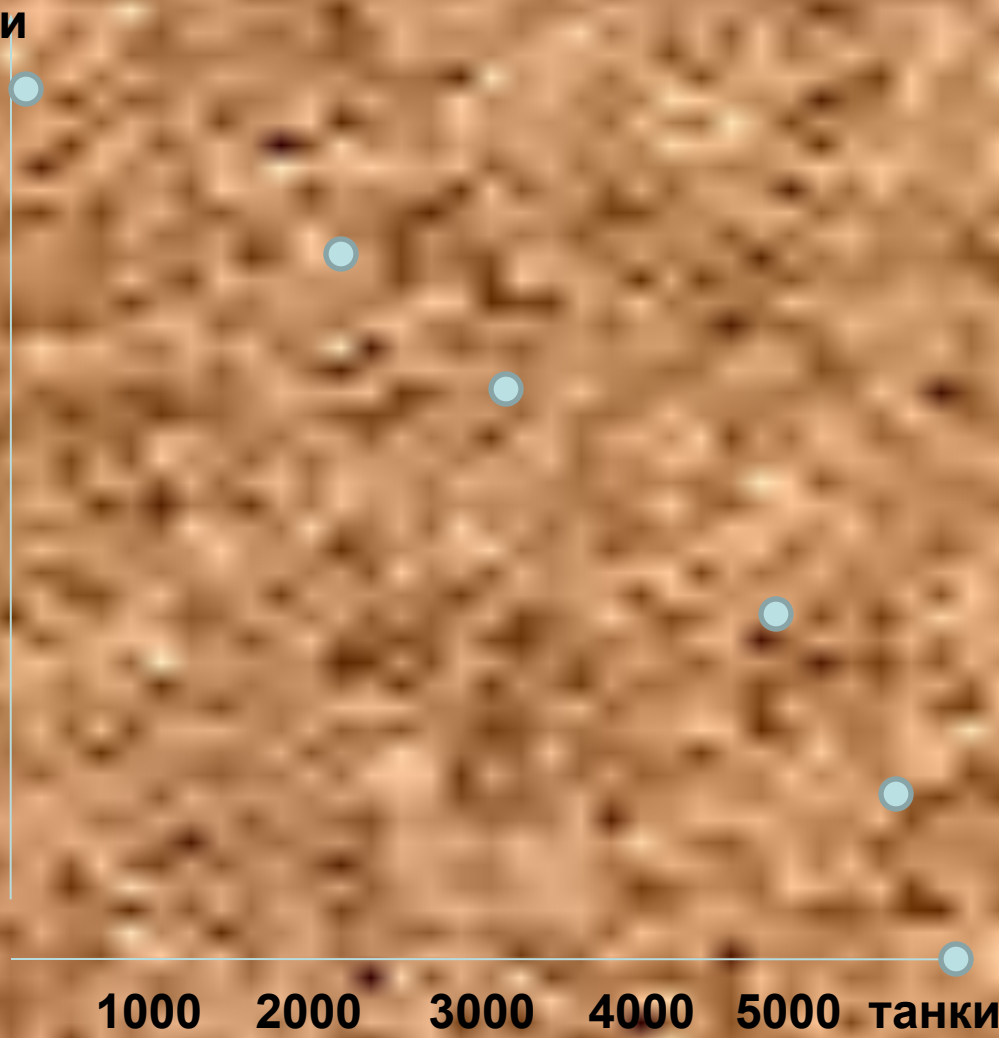
2000

3000

4000

5000

танки



Кривая производственных возможностей

| танки | грузовики |
|-------|-----------|
| 6 000 | 0 |
| 5 500 | 3 000 |
| 5 000 | 6 000 |
| 3 000 | 10 000 |
| 2 000 | 12 000 |
| 0 | 15 000 |

грузовики

1500

1200

9 000

6 000

3 000

0

1000

2000

3000

4000

5000

танки

Кривая
производственных
возможностей



Кривая производственных возможностей

| танки | грузовики |
|-------|-----------|
| 6 000 | 0 |
| 5 500 | 3 000 |
| 5 000 | 6 000 |
| 3 000 | 10 000 |
| 2 000 | 12 000 |
| 0 | 15 000 |

грузовики

1500

1200

9 000

6 000

3 000

0

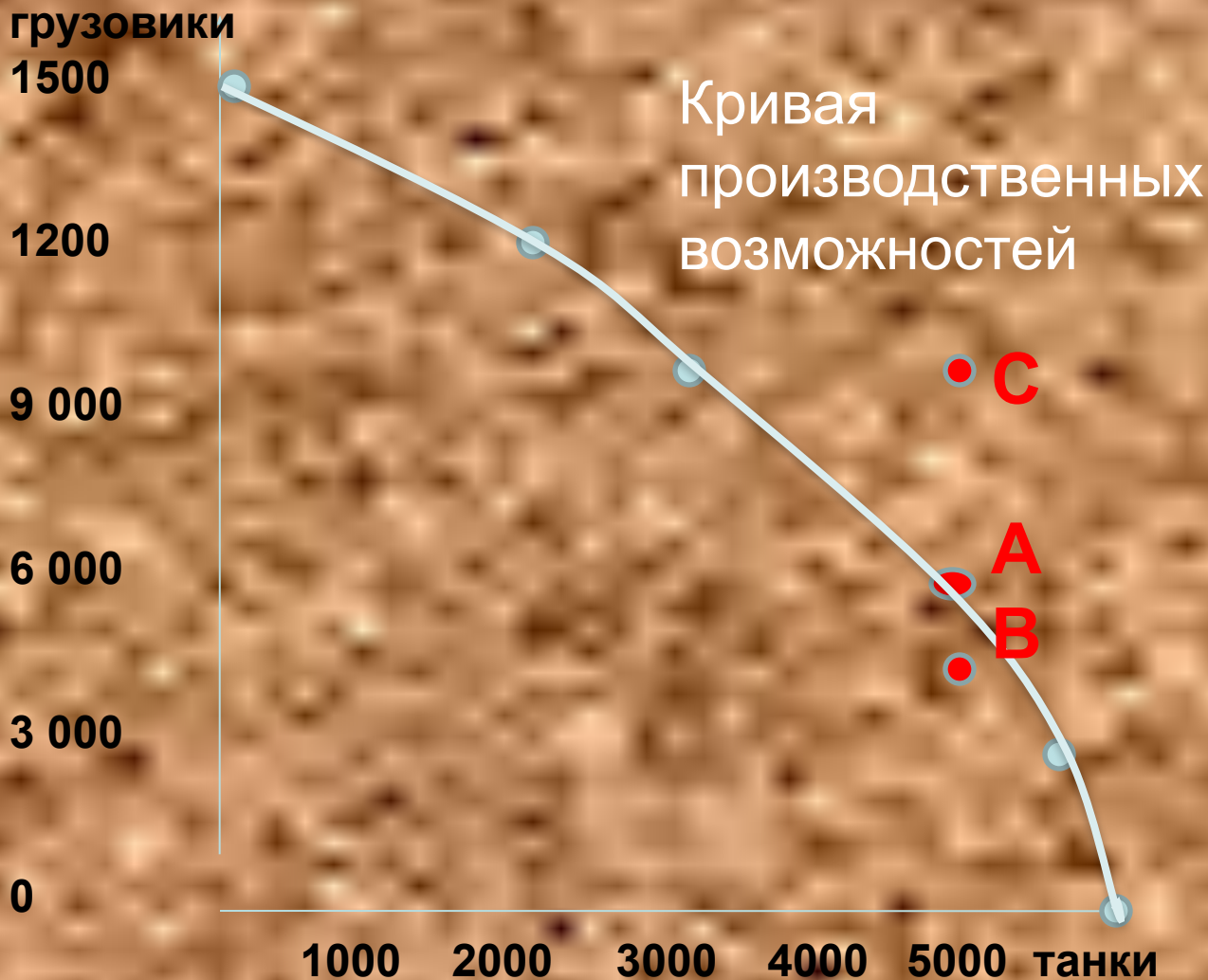
Кривая
производственных
возможностей

1000 2000 3000 4000 5000 танки

C

A

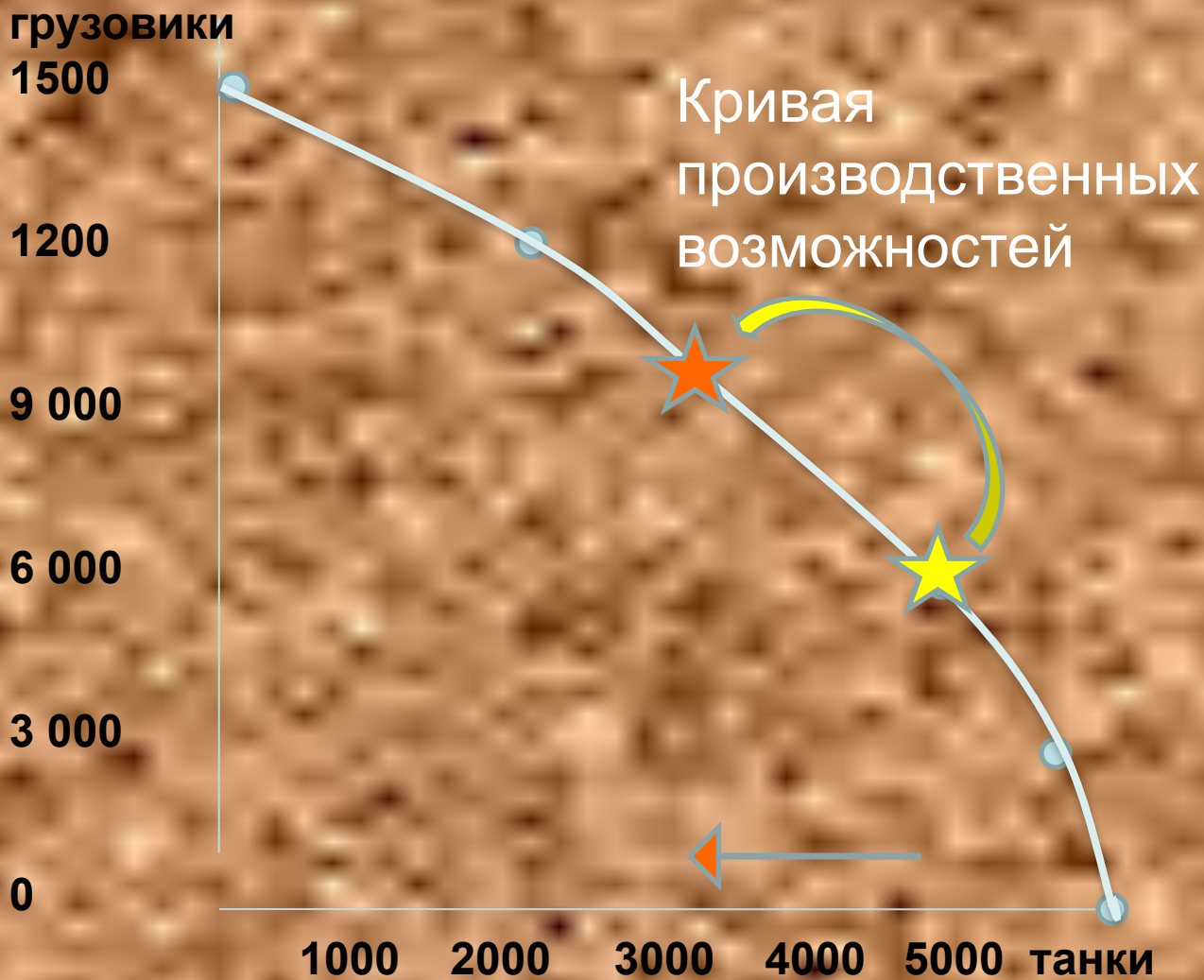
B



- если достигнут предел ресурсов для производства определенного вида продукции, то единственный способ увеличить его производство – это сократить производство другого (при прочих равных условиях)
- если вы не успеваете выполнить всю работу – спите меньше

Д) точки на кривой производственных возможностей показывают альтернативную стоимость выбора обществом комбинации использования ресурсов

| танки | грузовики |
|-------|-----------|
| 6 000 | 0 |
| 5 500 | 3 000 |
| 5 000 | 6 000 |
| 3 000 | 10 000 |
| 2 000 | 12 000 |
| 0 | 15 000 |



Штирлиц получил донесение, что кривая производственных возможностей одной страны проходит через точки $A(24,14)$, $B(8,26)$, $C(32,0)$, $D(18,20)$, $E(0,30)$. Не является ли это сообщение дезинформацией?

Задача

Постройте кривую производственных возможностей выпуска обществом военной продукции (пушек) и гражданских товаров (стиральных машин)

| Вид продукта | Производственные альтернативы | | | | |
|------------------------------|-------------------------------|----|-----|----|---|
| | I | II | III | IV | V |
| Пушки (сотни шт.) | 0 | 1 | 2 | 3 | 4 |
| Стиральные машины (тыс. шт.) | 10 | 9 | 7 | 4 | 0 |