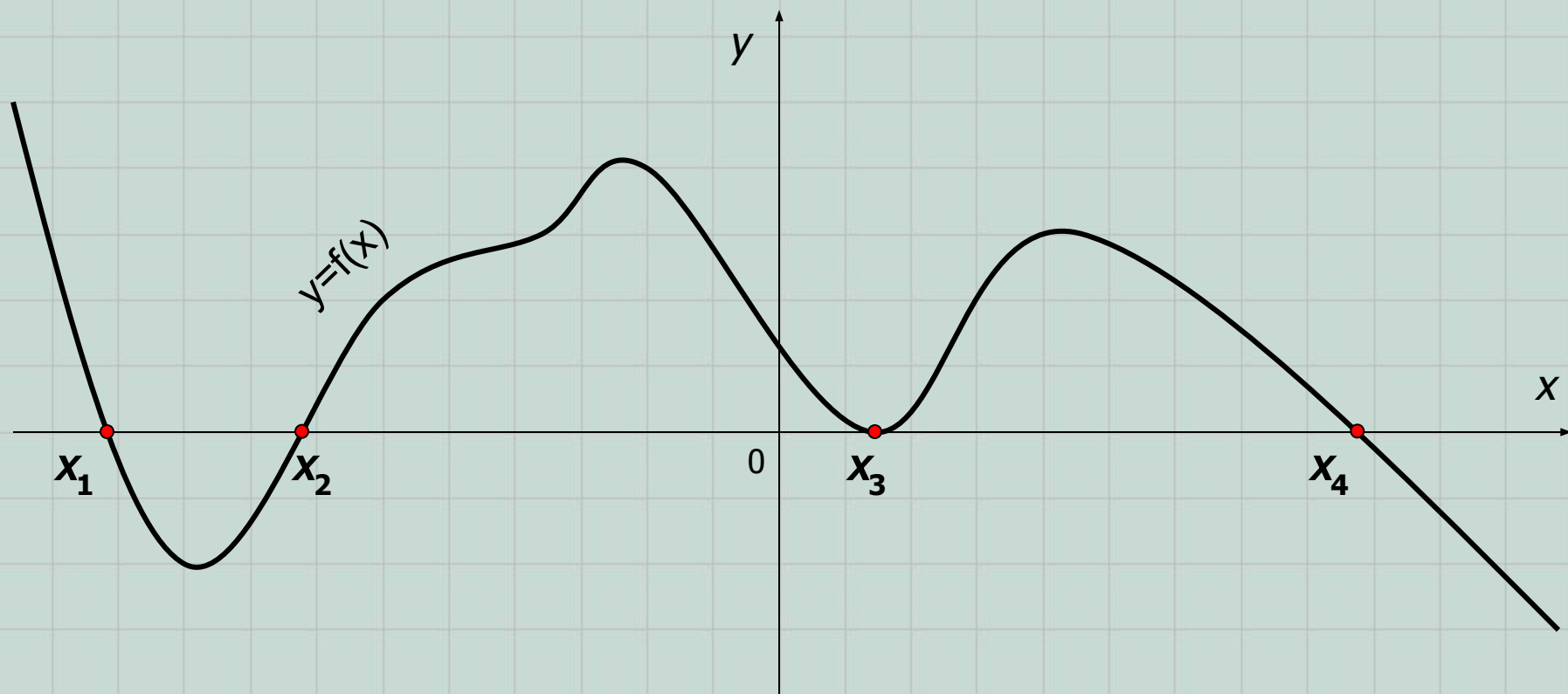


# Решение неравенств методом интервалов.

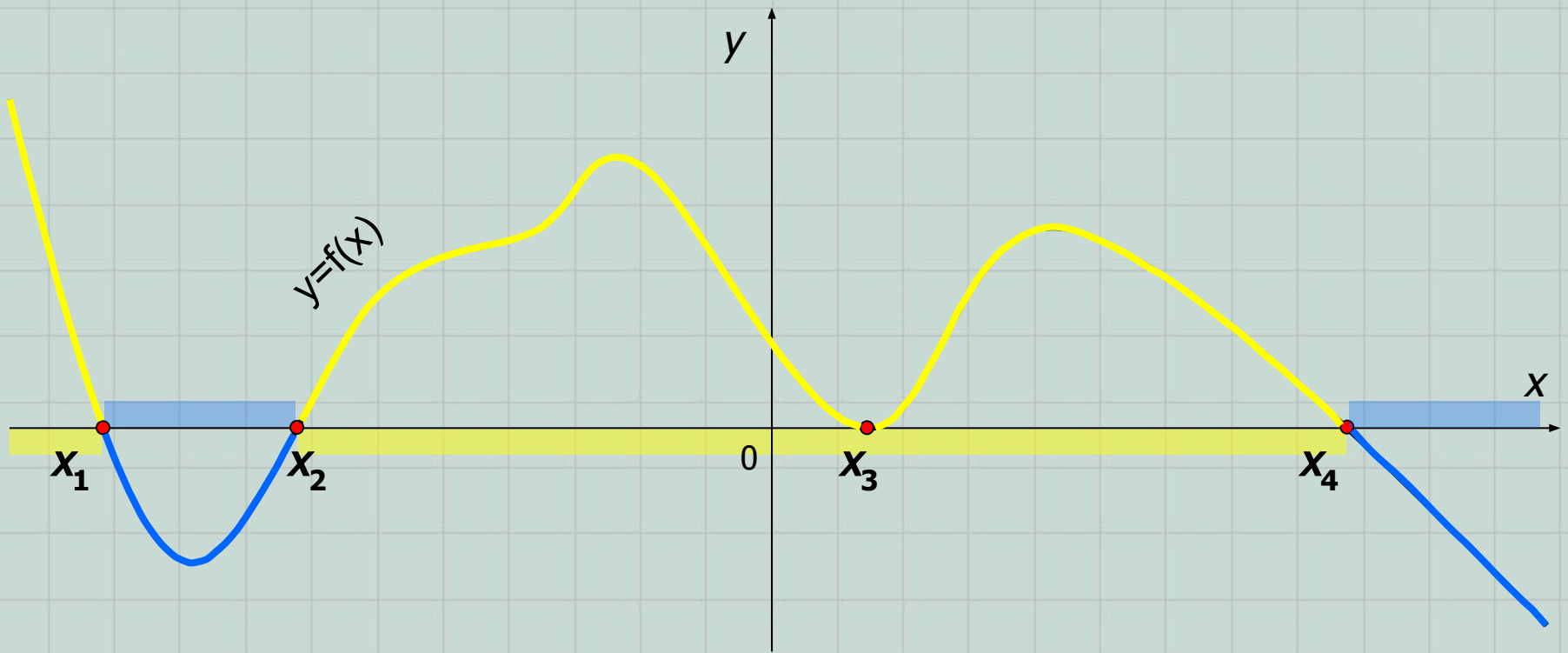
Алгебра и начала  
анализа,  
10 класс.



Пусть графиком функции  $y=f(x)$  является некоторая гладкая кривая:



Очевидно, что  $D(f)=E(f)=\square$ . Обратим свое внимание на значения аргумента  $x_1$ ,  $x_2$ ,  $x_3$ ,  $x_4$  – в этих точках график функции пересекает ось  $Ox$  или касается её. Это – так называемые **нули функции** (ординаты этих точек равны 0, т.е.  $f(x_1)=f(x_2)=f(x_3)=f(x_4)=0$ ). Аналитически их можно найти, решая уравнение  **$f(x)=0$** .



Точки  $x_1$ ,  $x_2$ ,  $x_3$ ,  $x_4$  разбивают область определения функции  $D(f)$  на **промежутки знакопостоянства**, т.е. промежутки, на которых функция имеет либо положительные значения ( $f(x)>0$ ), либо отрицательные ( $f(x)<0$ ). В нашем случае:

$$f(x)>0, \text{ при } x \in (-\infty; x_1) \cup (x_2; x_3) \cup (x_3; x_4) \text{ и}$$

$$f(x)<0, \text{ при } x \in (x_1; x_2) \cup (x_4; +\infty).$$

Опираясь на эту геометрическую иллюстрацию, мы можем вывести алгоритм решения неравенств, получивший название «метод интервалов».

Методом интервалов можно решить любое неравенство вида:  $f(x) \square 0$ . При решении придерживаются следующей схемы (перепишите её в тетрадь!):

- 1) Найти  $D(f)$ ;
- 2) Найти нули функции, решая уравнение  $f(x)=0$ ;
- 3) Отметить на  $D(f)$  все полученные нули;
- 4) Определить знак функции на каждом полученном промежутке;
- 5) Записать ответ, выбрав промежутки с соответствующим знаком.

Проиллюстрируем данную схему на нескольких примерах.

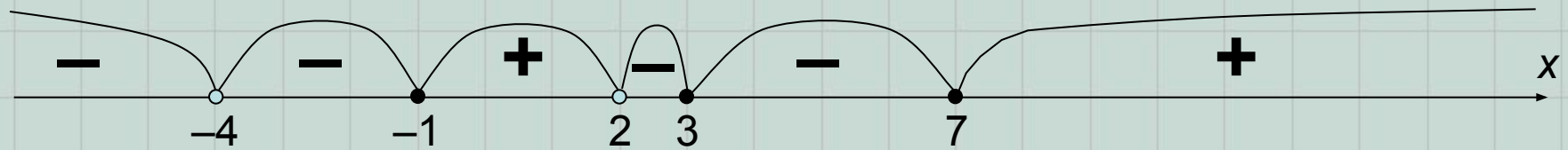
**Пример 1.** Решите неравенство  $\frac{(x-3)^2(x-7)^3(x+1)}{(x-2)(x+4)^4} \geq 0$ .

**Решение.** Под функцией  $f(x)$  следует понимать выражение в левой части неравенства. Это дробно-рациональная функция.

1)  $D(f)=\square$ , кроме  $x = -4$ ; 2 (данные значения обращают знаменатель в нуль).

2) Найдем нули функции. Значение дроби равно нулю, если числитель этой дроби равен нулю, т.е.  $x = -1; 3; 7$  – нули функции.

3) Обратите внимание, что *точки разрыва* функции ( $-4$  и  $2$ ) всегда на числовой прямой будут пустыми (или «выколотыми»), а нули функции – в зависимости от знака неравенства (если знак неравенства строгий, то точки пустые, если нестрогий, то обычные).



4) Для расстановки знаков на полученных промежутках можно поступить так:

■ разложить левую часть неравенства на линейные множители (как в нашем случае); тогда на крайнем справа промежутке знак определяется комбинацией угловых коэффициентов этих линейных множителей (в нашем случае все коэффициенты равны 1, т.е. получается комбинация  $\frac{+++}{++} > 0$ );

■ на остальных промежутках (двигаемся от крайнего справа промежутка влево) знаки расставляются по правилу: знак по сравнению с предыдущим **меняется**, если показатель степени линейного множителя **нечетный** и **не изменяется**, если показатель степени линейного множителя **четный**. В нашем случае получается... (см.рис.).

$$\frac{(x-3)^2 (x-7)^3 (x+1)}{(x-2)(x+4)^4}$$



Вышеизложенный метод определения знаков на интервалах по сути опирается на понятие «кратных» корней. Если Вам этот термин не знаком, то можно воспользоваться другим способом:

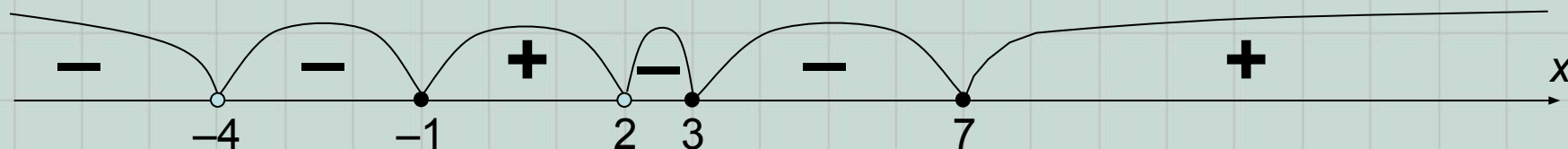
■ выбирая из каждого промежутка любое значение, подставляют в формулу, задающую данную функцию и определяют по полученной комбинации знак функции на каждом промежутке:

$$f(x) = \frac{(x-3)^2(x-7)^3(x+1)}{(x-2)(x+4)^4}$$

а)  $-5 \in (-\infty; -4) \Rightarrow f(-5) = \frac{+--}{-+} < 0$ ;      б)  $-2 \in (-4; -1) \Rightarrow f(-2) = \frac{+--}{-+} < 0$   
;

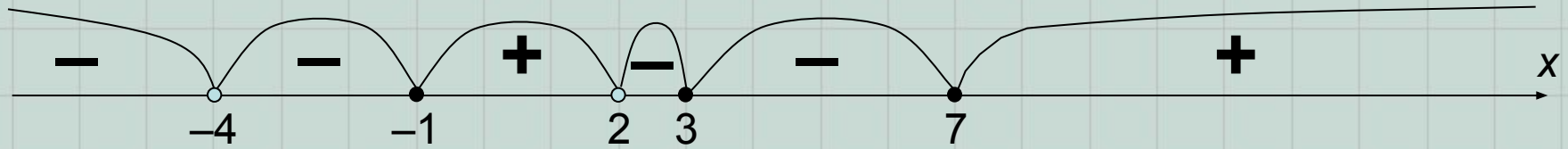
в)  $0 \in (-1; 2) \Rightarrow f(0) = \frac{+-+}{-+} > 0$ ;      г)  $2,5 \in (2; 3) \Rightarrow f(2,5) = \frac{+-+}{++} < 0$ ;

д)  $4 \in (3; 7) \Rightarrow f(4) = \frac{+-+}{++} < 0$ ;      е)  $8 \in (7; +\infty) \Rightarrow f(8) = \frac{+++}{++} > 0$ ;



Как Вы можете убедиться – результат расстановки знаков такой же, как в предыдущем способе.

5) Остается записать ответ, выбрав промежутки соответствующие знаку неравенства. В нашем случае, знаку « $\geq$ » соответствуют промежутки со знаком «+». Важно не забыть  $x=3$ !!!



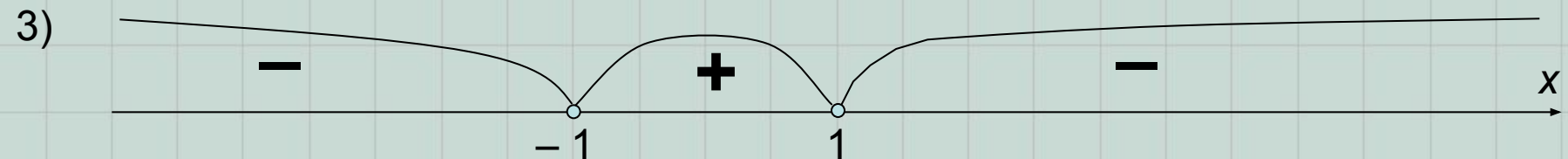
Ответ:  $x \in [-1; 2) \cup \{3\} \cup [7; +\infty)$ .

**Пример 2.** Решите неравенство  $\frac{x+3}{1-x} > \frac{x-4}{x+1}$ .

**Решение.** Перенесем все в левую часть неравенства:  $\frac{x+3}{1-x} - \frac{x-4}{x+1} > 0$ .

1)  $D(f) = \mathbb{R}$ , кроме  $x = -1; 1$ , где  $f(x) = \frac{2x^2 - x + 7}{(1-x)(x+1)}$ ;

2) Нулей функции нет, т.к. дискриминант квадратного трехчлена отрицательный;



4) Проверьте себя, как Вы поняли правило расстановки знаков...

5) Ответ:  $x \in (-1;$

1).

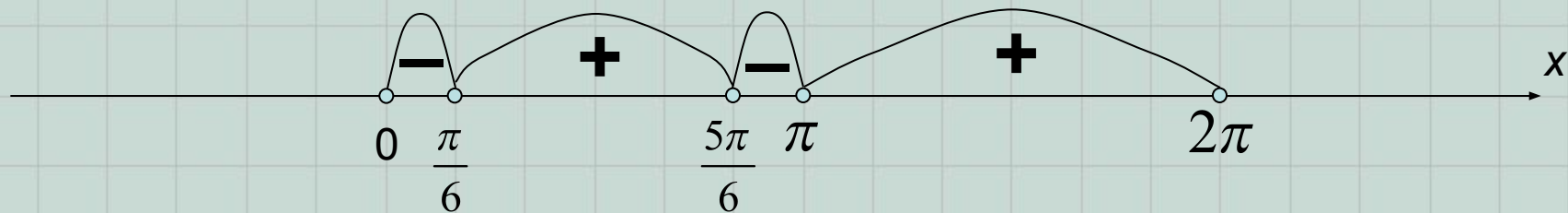
**Пример 3.** Решите неравенство  $\sin x + \cos(2x) > 1$ .

**Решение.** Перепишем неравенство в виде:  $\sin x > 1 - \cos(2x)$ . Используя формулы половинного аргумента, получим:  $\sin x > 2\sin^2 x$  или  $2\sin^2 x - \sin x < 0$ .

1)  $D(f) = \square$ , где  $f(x) = 2\sin^2 x - \sin x$ ;

2)  $2\sin^2 x - \sin x = 0; \Rightarrow x \in \pi n \cup \left( -1 \right)^k \frac{\pi}{6} + \pi, \quad n, k \in \mathbf{Z};$

3) Расставим полученные нули функции на числовой прямой:



Учитывая периодичность функции  $y = \sin x$ , достаточно ограничиться отрезком длиной  $2\pi$ ;

4) Расставим знаки на полученных промежутках;

5) Запишем ответ:

$$\left[ \begin{array}{l} 2\pi n < x < \frac{\pi}{6} + 2\pi n, \\ \frac{5\pi}{6} + 2\pi k < x < \pi + 2\pi k, \end{array} \right. \quad \text{ёёё } x \in \left( 2\pi n; \frac{\pi}{6} + 2\pi n \right) \cup \left( \frac{5\pi}{6} + 2\pi k; \pi + 2\pi k \right), \quad n, k \in \mathbf{Z}.$$