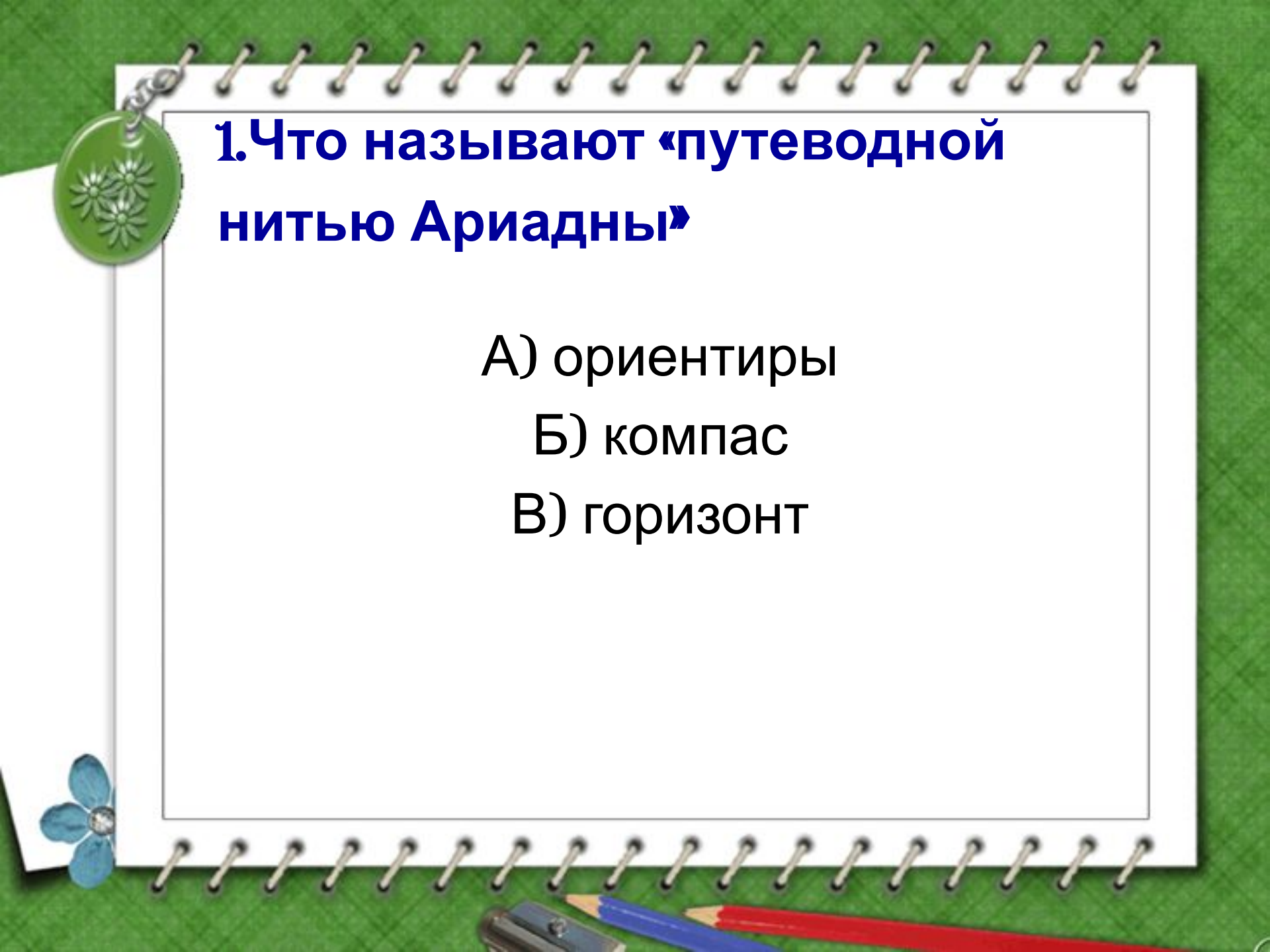




# ТЕСТ

**«Как ориентироваться  
на местности»**



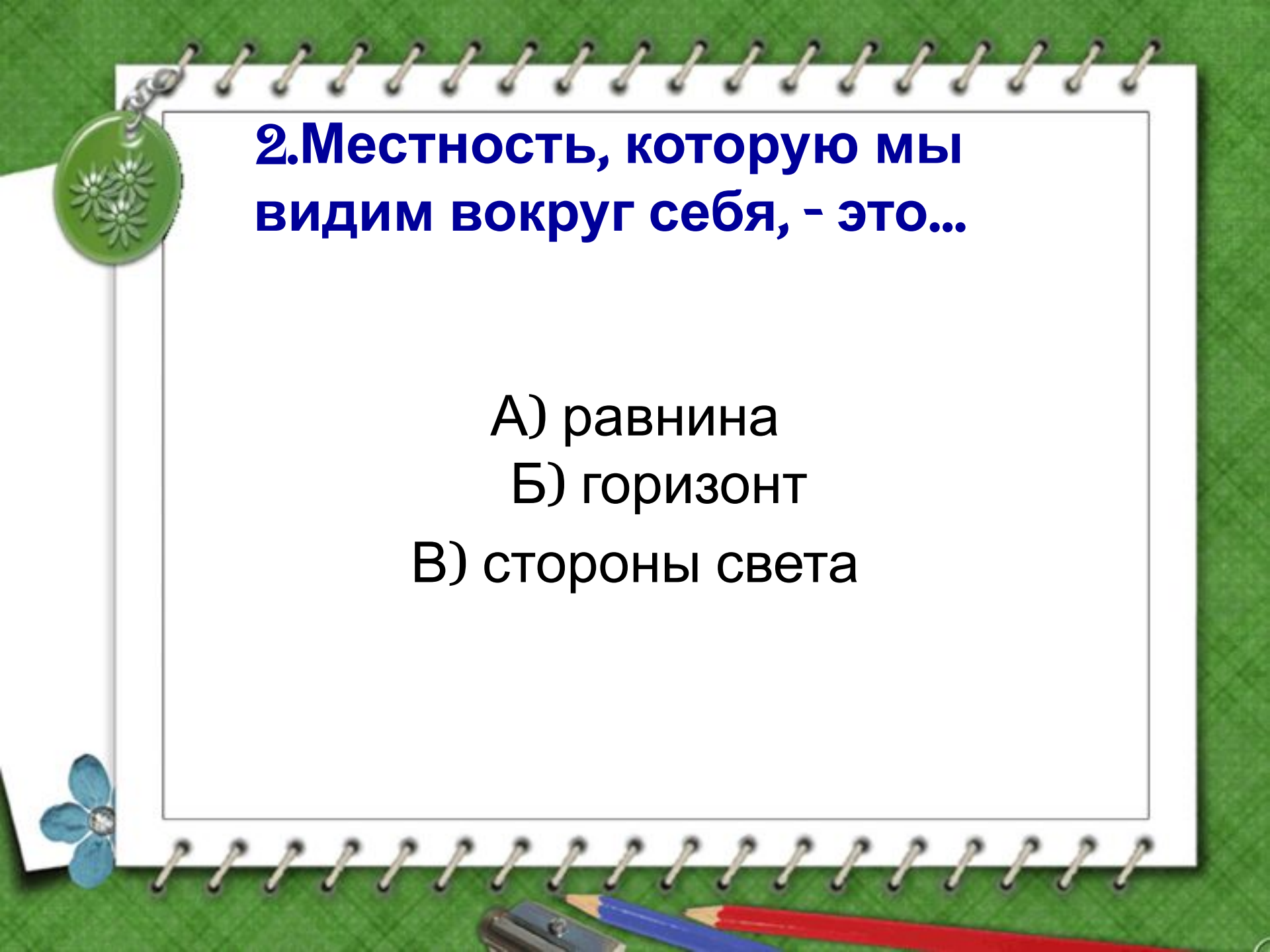
# 1. Что называют «путеводной нитью Ариадны»

А) ориентиры

Б) компас

В) горизонт





**2. Местность, которую мы видим вокруг себя, - это..**

- А) равнина
- Б) горизонт
- В) стороны света



### 3. Полярная звезда указывает

- А) на юг
- Б) север
- В) запад
- Г) восток





4. Солнце в полдень находится:

А) на севере

Б) юге

В) востоке

Г) западе

## 5. Солнце восходит

А) на западе

Б) восходе

## 7. Прибор для определения сторон горизонта

А) термометр


Б) барометр

В) компас

Г) флюгер



## 8. Первые компасы изобретены:

- А) в России
  - Б) Китае
  - В) Португалии
  - Г) Испании
- 



# ОТВЕТ:

1-А 2-Б 3-Б

4-В 5-Б 6-В 7-Б