

Кенгуру - 493

Игра для 6-х классов

1 урок

УРОК ГЕОГРАФИИ

1 УРОК

3 балл

4 балла

5
баллов

1

3

5

2

4

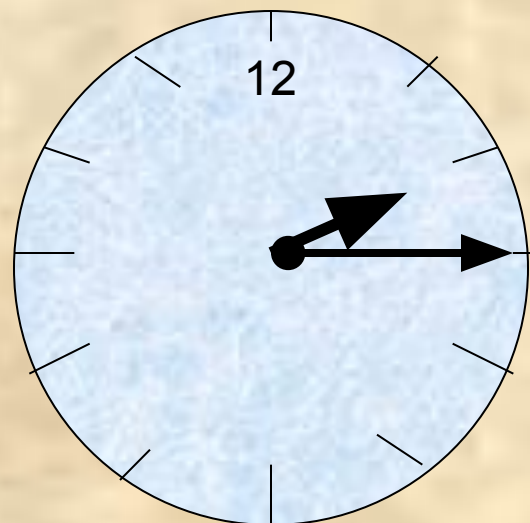
6



3 балла

- Правильно идущие часы отражаются в зеркале. Который час?

- **A) 15.15**
- **B) 10.15**
- **C) 10.45**
- **D) 8.45**
- **E) 9.45**



E



3 балла

- От Кенгуру из Австралии получена шифровка:
12342562756278
- В ней разные цифры обозначают разные буквы, а одинаковые цифры – одинаковые буквы.
- Что могло быть написано в шифровке?
- **A) Думай и трудись**
- **B) Гуляй и отдыхай**
 - **C) Мой вопрос прост**
 - **Д) Вперед к победам**
 - **Е) Привет от Кенги**

C



4 балла

- На Марсе были обнаружены существа, имеющие головы. Один ученый сообщил «Каждый марсианин имеет две головы.» Позднее выяснилось, что он ошибся. Какое из следующих утверждение обязательно верно?
- А) не существует марсиан с двумя головами
- В) каждый марсианин имеет или одну голову, или больше двух
- С) существуют марсиане с одной головой
- Д) существуют марсиане, имеющие больше двух голов
- Е) существуют марсиане, имеющие или одну голову, или больше двух.

Е



4 балла

- На острове Кенгурятня 4 государства.
- Каждое из них граничит с тремя другими.
- Три государства имеют выход к морю.
- Нарисуйте карту этого острова.

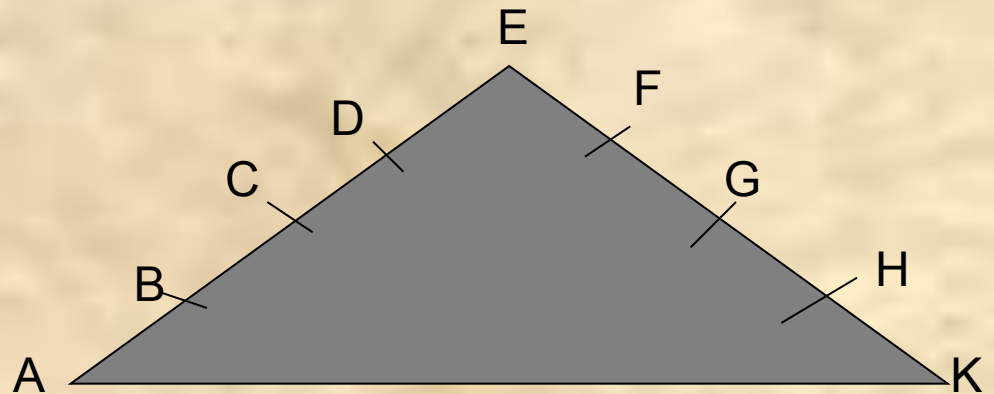


5 баллов

- Под горку Петя идет быстрее, чем в горку. На склонах горки отмечены точки А, В, С, D, E, F, G, H, К. Расстояние между соседними отмеченными точками одинаковый.

Какой путь Петя пройдет быстрее?

- **A) C – E – G – F**
- **B) A – E – F**
- **D) C – E – H**
- **E) D – E – H – F**



D



5 баллов

- Расположить 12 домиков так, чтобы каждый домик был соединен с соседними четырьмя домиками дорожками, и никакие дорожки не пересекались.



Перемена 1

Показать
памятник
геометрической фигуре

2 урок

Кенгурячья логика

2 УРОК

3 балл

4 балла

5
баллов

1

3

5

2

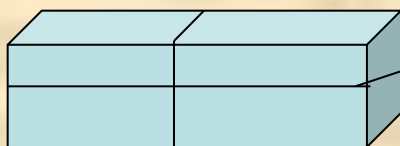
4

6



3 балла

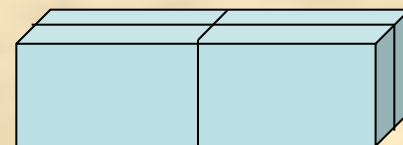
- Размеры пакета $10\text{ см} \times 4\text{ см} \times 3\text{ см}$.
- Его можно связать тремя разными способами. В каком случае длина веревки наименьшая?
- **A) I B) II C) III D) I и III E) II и III**




I



II



III



III



3 балла

- Петя хочет нарисовать кенгуру, не отрывая карандаш от бумаги и не проводя по одной линии дважды.
 - С какой точки он должен начать?
- А) А
 - В) В
 - С) С
 - Д) Д
 - Е) такой точки нет

Е



4 балла

- Какая веревочка обязательно затянется в узел, если потянуть за концы?

С



4 балла

- На каком из рисунков закрашена самая маленькая площадь?

В



5 баллов

- Сколько квадратиков Вы видите на картинке?
- **A) 25**
- **B) 14**
- **C) 19**
- **Д) 27**
- **E) 23**

Д



5 баллов

- Какое самое маленькое число спичек можно добавить к этой фигуре, чтобы получить точно 11 квадратов?
- **A) 2**
- **B) 3**
- **C) 4**
- **D) 5**
- **E) 6**

A



Перемена 2

- Напишите стихотворения со словами:
- **Наука**
- **Математика**
- **Знание**
- **Понимание**

3 урок

Кенгурячья экономика

3 урок

3 балл

4 балла

5
баллов

1

3

5

2

4

6



3 балла

- В каком из следующих примеров результат равен 0?
- A) $10 - 10 : (2+3)$
- B) $10 - (10 : 2+3)$
- C) $10 - (10 : 2)+3$
- D) $(10 - 10 : 2)+3$
- E) $(10 - 10) : (2+3)$

E



3 балла

- Какое из этих чисел не равно остальным?

• А) $\frac{3}{10}$ В) $\frac{1}{3}$ С) $30\% \text{ от } 1$

Д) $0,3$ Е) $\frac{30}{100}$

В



4 балла

- Если $\diamond_{85} = 6425$
- $\diamond_{92} = 814$
- $\diamond_{37} = 91$
- $\diamond_{17} = 149$
- То сколько будет \diamond_{37} ?

949



4 балла

- Известно, что

$$A - 1 = B + 2 = C - 3 = D + 4 = E - 5$$

- Какое из чисел А, В, С, Д, Е самое маленькое?
- А) А
- В) В
- С) С
- Д) Д
- Е) Е

Д



5 баллов

- В выражении $2 : 2 : 2 : 2 : 2$ разрешается расставлять скобки всеми возможными способами. Сколько различных чисел может при этом получиться?
- А) 2
- В) 3
- С) 4
- Д) 5
- Е) 6

С



5 баллов

- Есть 6 карточек с цифрами 1, 2, 3, 4, 5 и 6. Используя их, можно составить два трехзначных числа, например, 645 и 321. Вася составил эти числа так, что их разность оказалась самой маленькой из всех возможных. Эта разность равна
 - **A) 89**
 - **B) 69**
 - **C) 56**
 - **D) 47**
 - **E) 38**

Д



Спасибо за внимание!