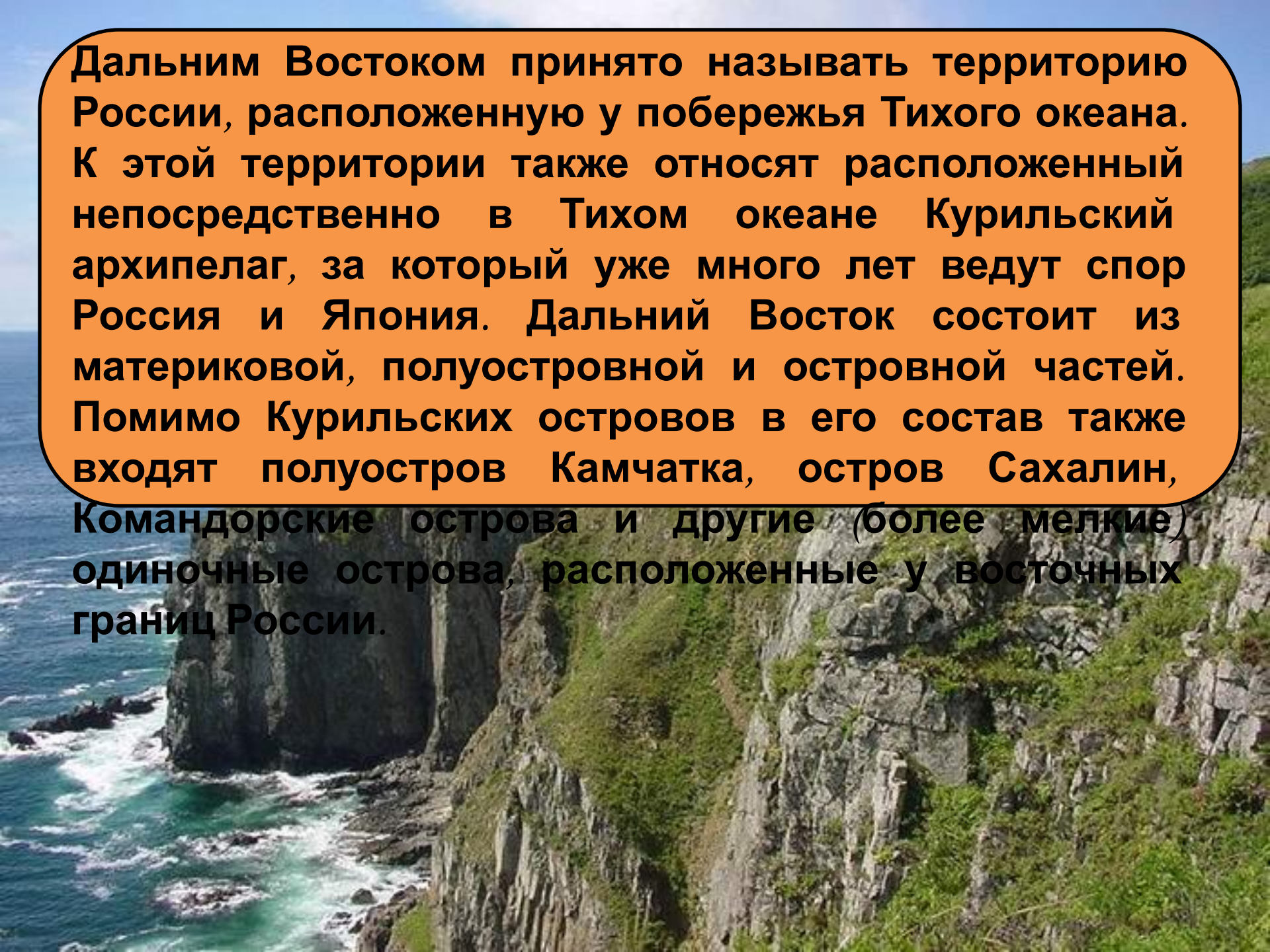
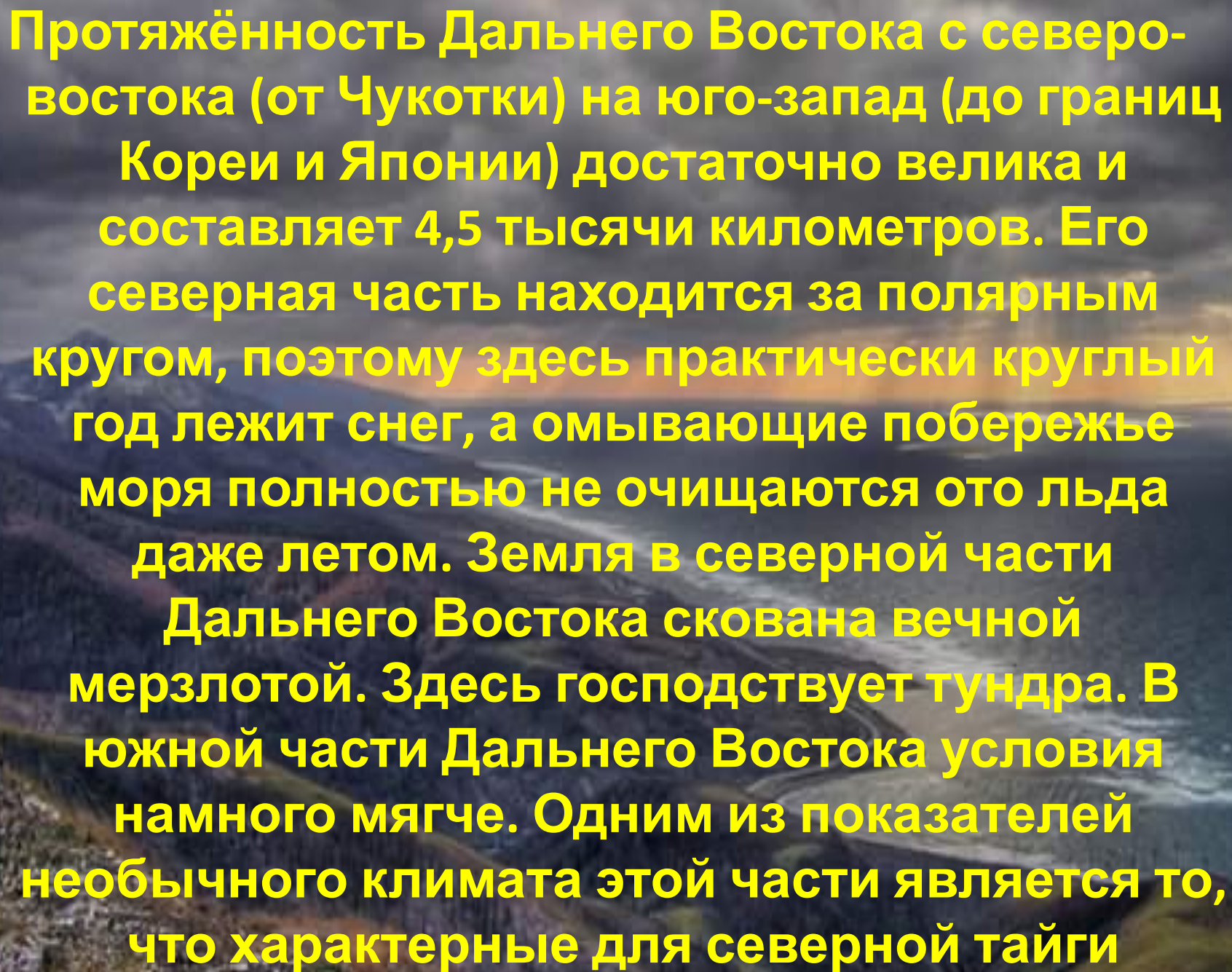




# ДАЛЬНИЙ ВОСТОК

**Дальним Востоком принято называть территорию России, расположенную у побережья Тихого океана. К этой территории также относят расположенный непосредственно в Тихом океане Курильский архипелаг, за который уже много лет ведут спор Россия и Япония. Дальний Восток состоит из материковой, полуостровной и островной частей. Помимо Курильских островов в его состав также входят полуостров Камчатка, остров Сахалин, Командорские острова и другие (более мелкие) одиночные острова, расположенные у восточных границ России.**

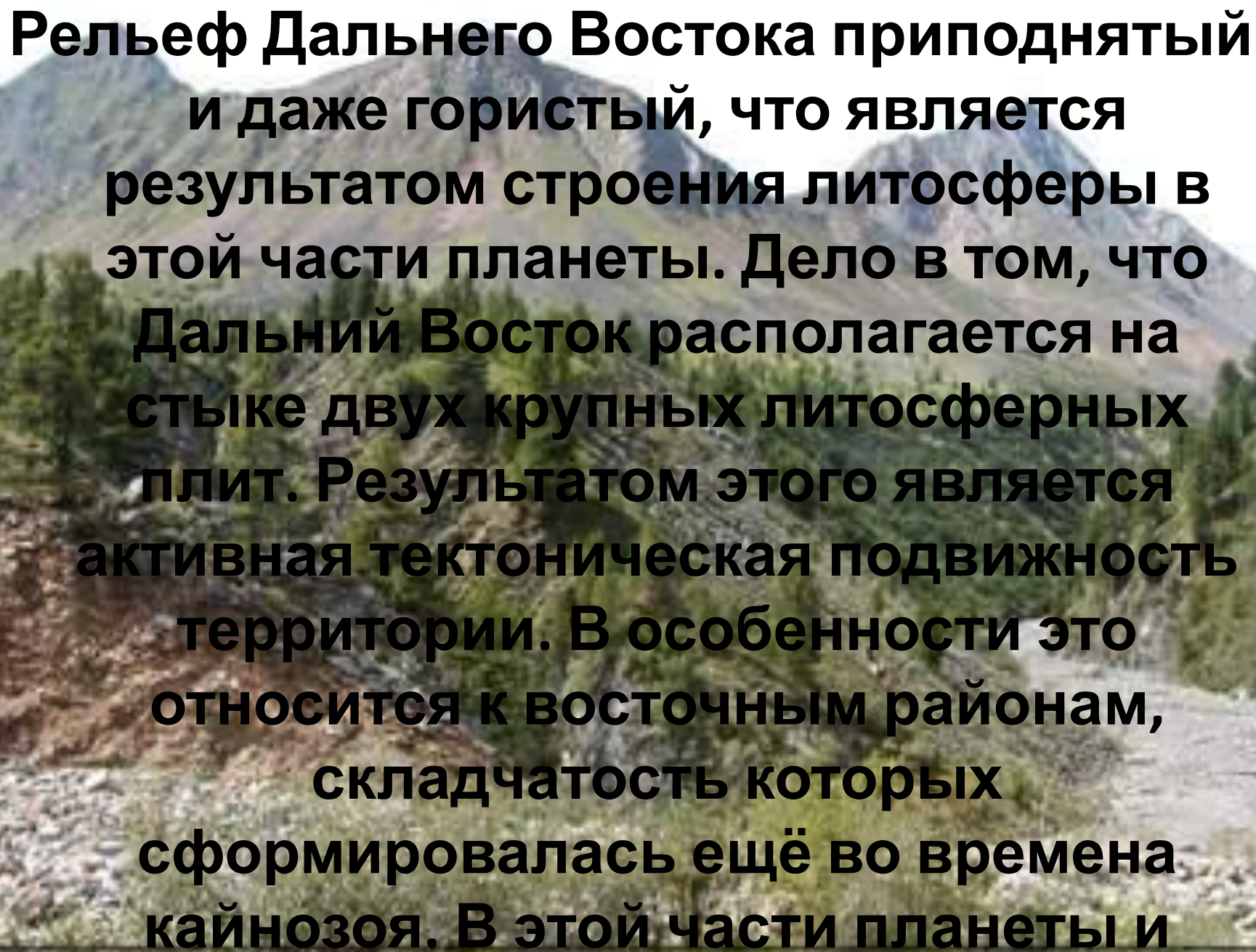


A scenic view of a mountain range with a river valley, overlaid with yellow text. The background shows a wide river valley with a winding river, surrounded by dark, forested mountains under a cloudy sky. The text is in a bold, yellow, sans-serif font, centered on the image.

Протяжённость Дальнего Востока с северо-востока (от Чукотки) на юго-запад (до границ Кореи и Японии) достаточно велика и составляет 4,5 тысячи километров. Его северная часть находится за полярным кругом, поэтому здесь практически круглый год лежит снег, а омывающие побережье моря полностью не очищаются ото льда даже летом. Земля в северной части Дальнего Востока скована вечной мерзлотой. Здесь господствует тундра. В южной части Дальнего Востока условия намного мягче. Одним из показателей необычного климата этой части является то, что характерные для северной тайги

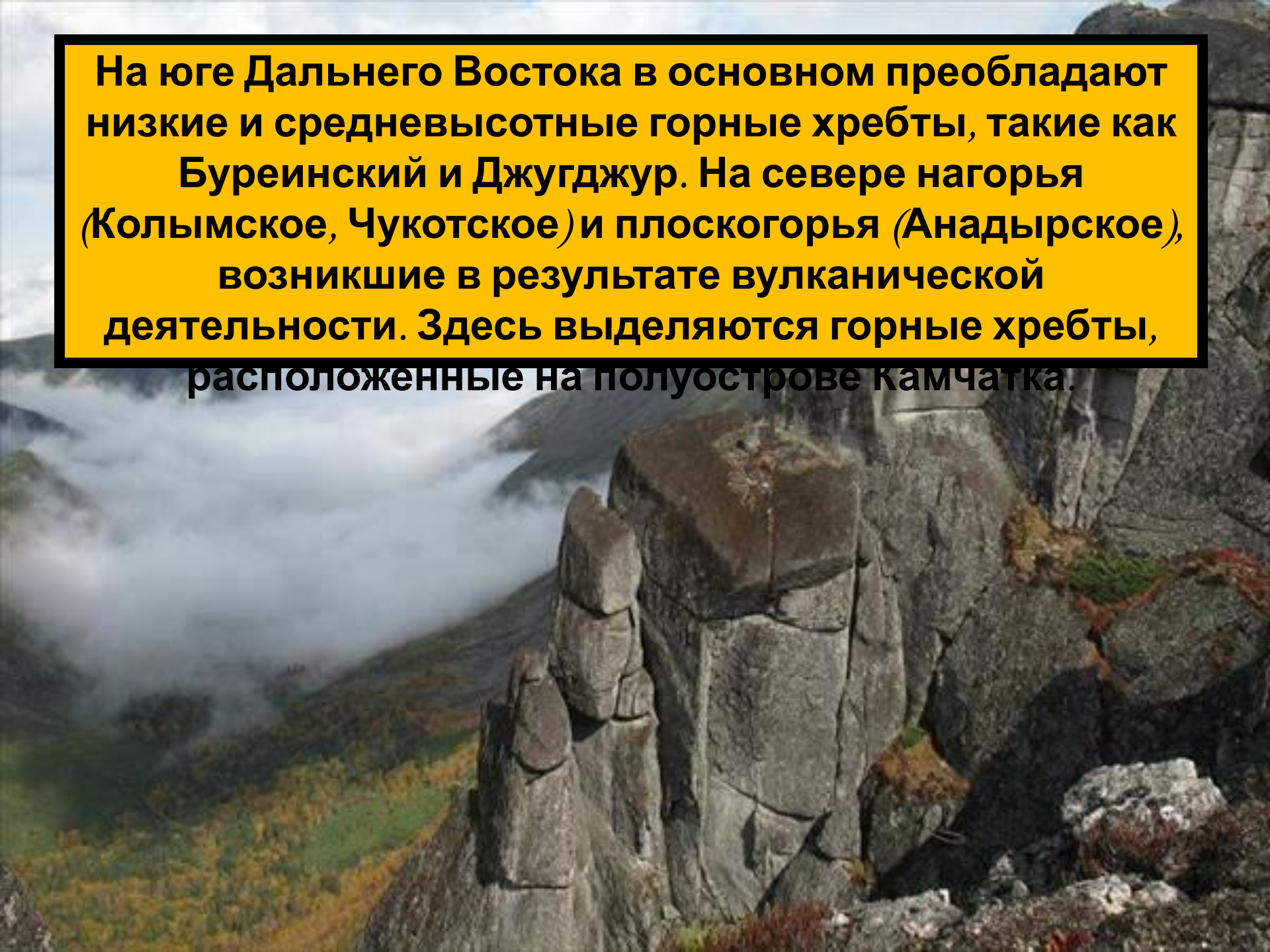
Таким образом,  
климатические условия в разных  
точках этой территории достаточно  
сильно отличаются друг от друга.

Особенно это касается  
температурного режима, влажность  
же везде повышенная. Большое  
влияние на климат всего Дальнего  
Востока оказывает также близость  
Тихого океана.

The background of the slide is a photograph of a mountainous landscape. In the foreground, there is a rocky, light-colored slope. The middle ground is filled with dense green trees and shrubs. In the background, several mountain peaks are visible, some with patches of snow or light-colored rock. The sky is bright and clear.

**Рельеф Дальнего Востока приподнятый и даже гористый, что является результатом строения литосферы в этой части планеты. Дело в том, что Дальний Восток располагается на стыке двух крупных литосферных плит. Результатом этого является активная тектоническая подвижность территории. В особенности это относится к восточным районам, складчатость которых сформировалась ещё во времена кайнозоя. В этой части планеты и**


**На юге Дальнего Востока в основном преобладают низкие и средневысотные горные хребты, такие как Буреинский и Джугджур. На севере нагорья (Колымское, Чукотское) и плоскогорья (Анадырское), возникшие в результате вулканической деятельности. Здесь выделяются горные хребты, расположенные на полуострове Камчатка.**



**Только четверть территории Дальнего Востока занимают равнины. В основном они располагаются в тех местах побережья, где тектоническая активность невелика (Западно-Камчатская, Северо-Сахалинская), а также в межгорных понижениях (Среднеамурская, Анадырская, Центрально-Камчатская), поэтому площадь их относительно небольшая. Рельеф Дальнего Востока формировался в основном в мезозойский и кайнозойский период. Именно тогда появились складчатые зоны и межгорные впадины.**

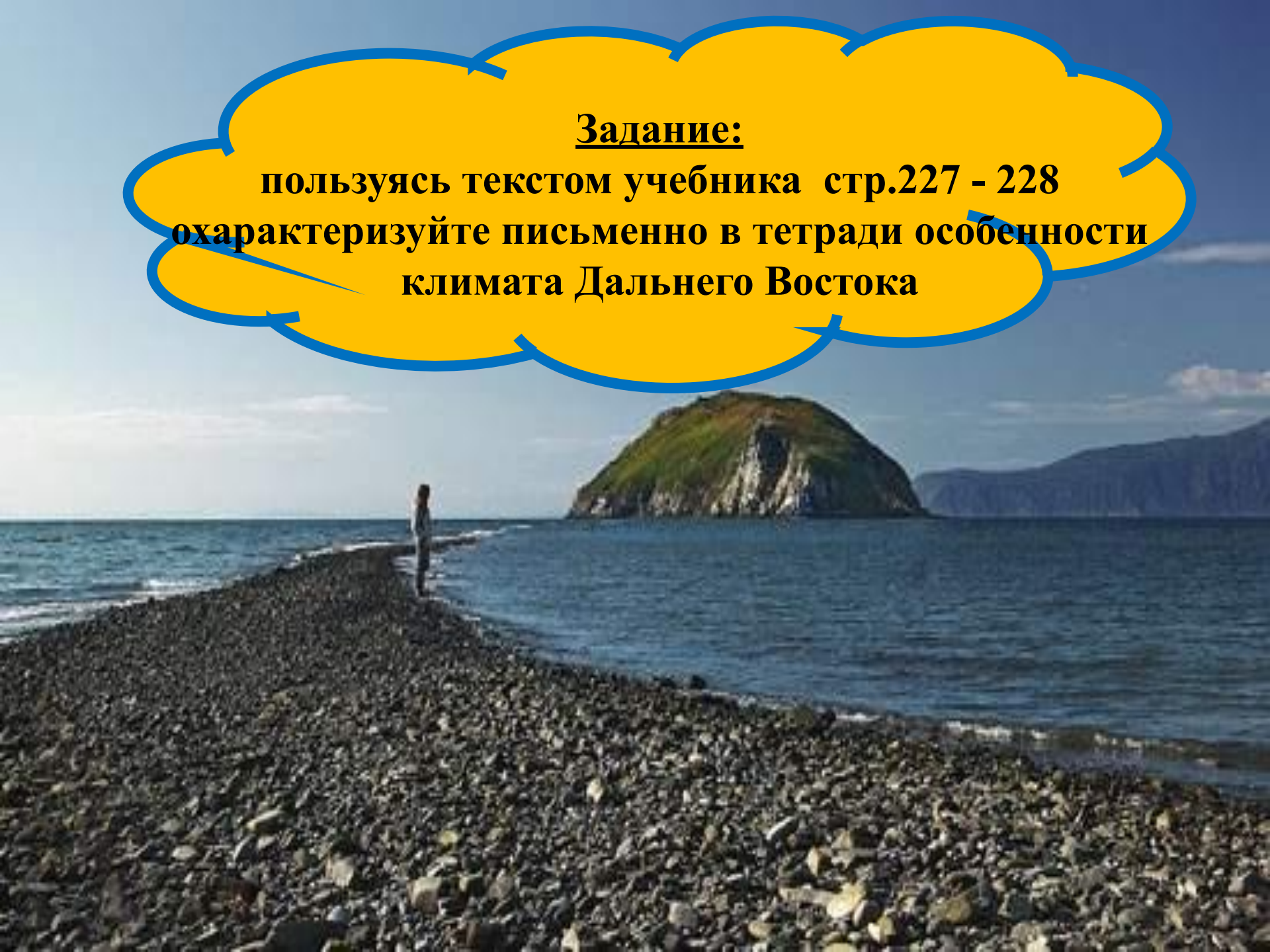


**Некоторое влияние на формирование рельефа оказывал океан. Так, например, весь современный остров Сахалин и восточный склон в то время находился под водой. Лишь позднее эти участки оказались на поверхности, где и находятся до сих пор.**





**Задание:**  
**пользуясь текстом учебника стр.227 - 228**  
**охарактеризуйте письменно в тетради особенности**  
**климата Дальнего Востока**



**Большое количество осадков и относительно малое испарение определяют значительную густоту речной сети Дальнего Востока. Общая особенность рек — сравнительно небольшая протяженность, обусловленная тем, что линия мирового водораздела проходит неподалеку от Тихого океана.**



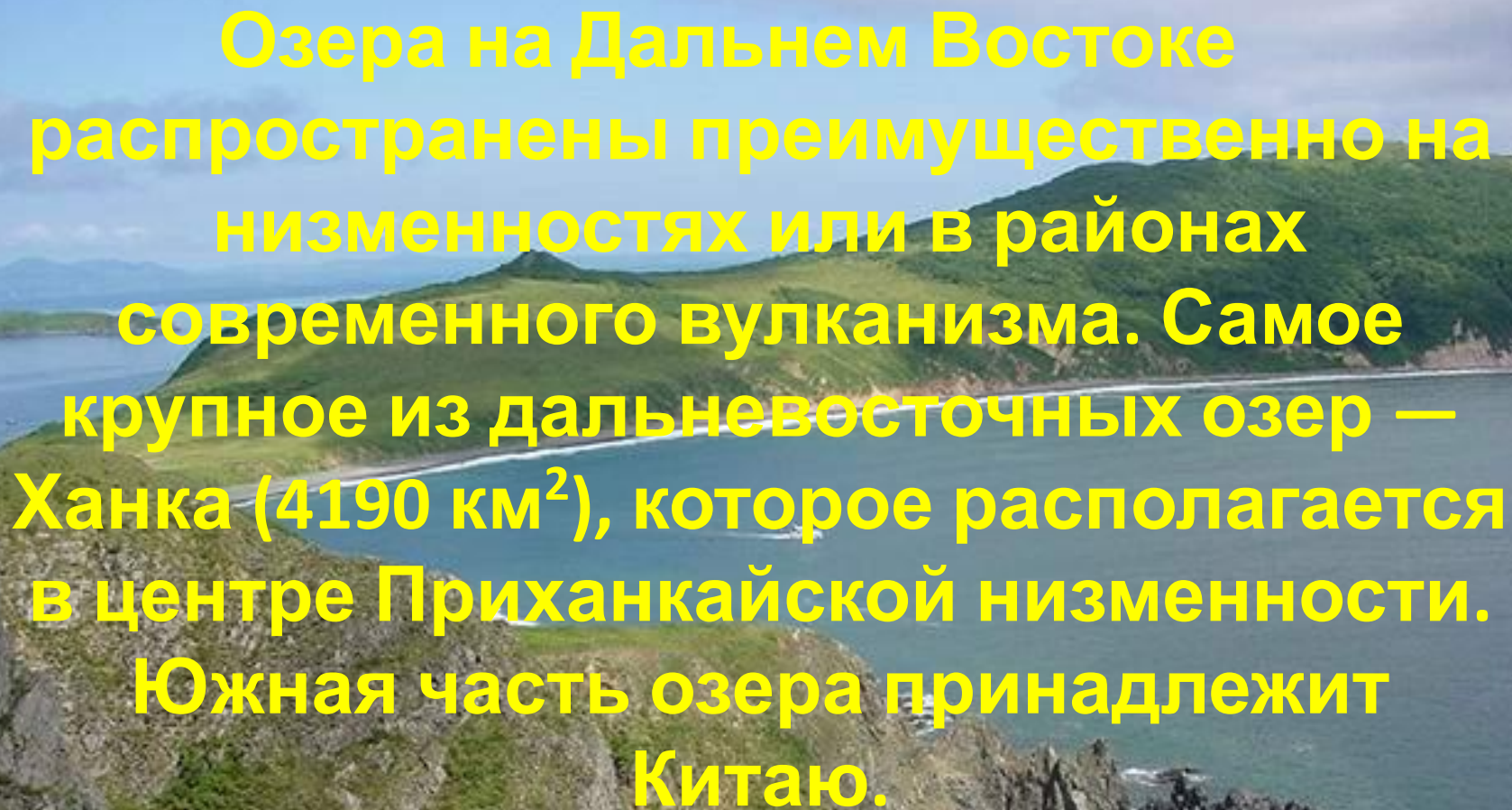


## ЗАДАНИЕ:

пользуясь картой атласа  
выпишите в тетрадь реки,  
протекающие по территории  
Дальнего Востока

**Дальневосточные реки преимущественно горные, со значительными скоростями течения и быстрыми подъемами уровней во время муссонных дождей и особенно во время ливней, связанных с тайфунами. Речная сеть наиболее развита в умеренном поясе Дальнего Востока.**





Озера на Дальнем Востоке распространены преимущественно на низменностях или в районах современного вулканизма. Самое крупное из дальневосточных озер — Ханка (4190 км<sup>2</sup>), которое располагается в центре Приханкайской низменности. Южная часть озера принадлежит Китаю.

На всей территории Дальнего Востока распространены болота.

Подземные воды разнообразны по своему химическому составу, не слабе

**Разнообразие климатических условий, рельефа, состава коренных пород и растительности Дальнего Востока отражается на особенностях почв.**

**ЗАДАНИЕ:**

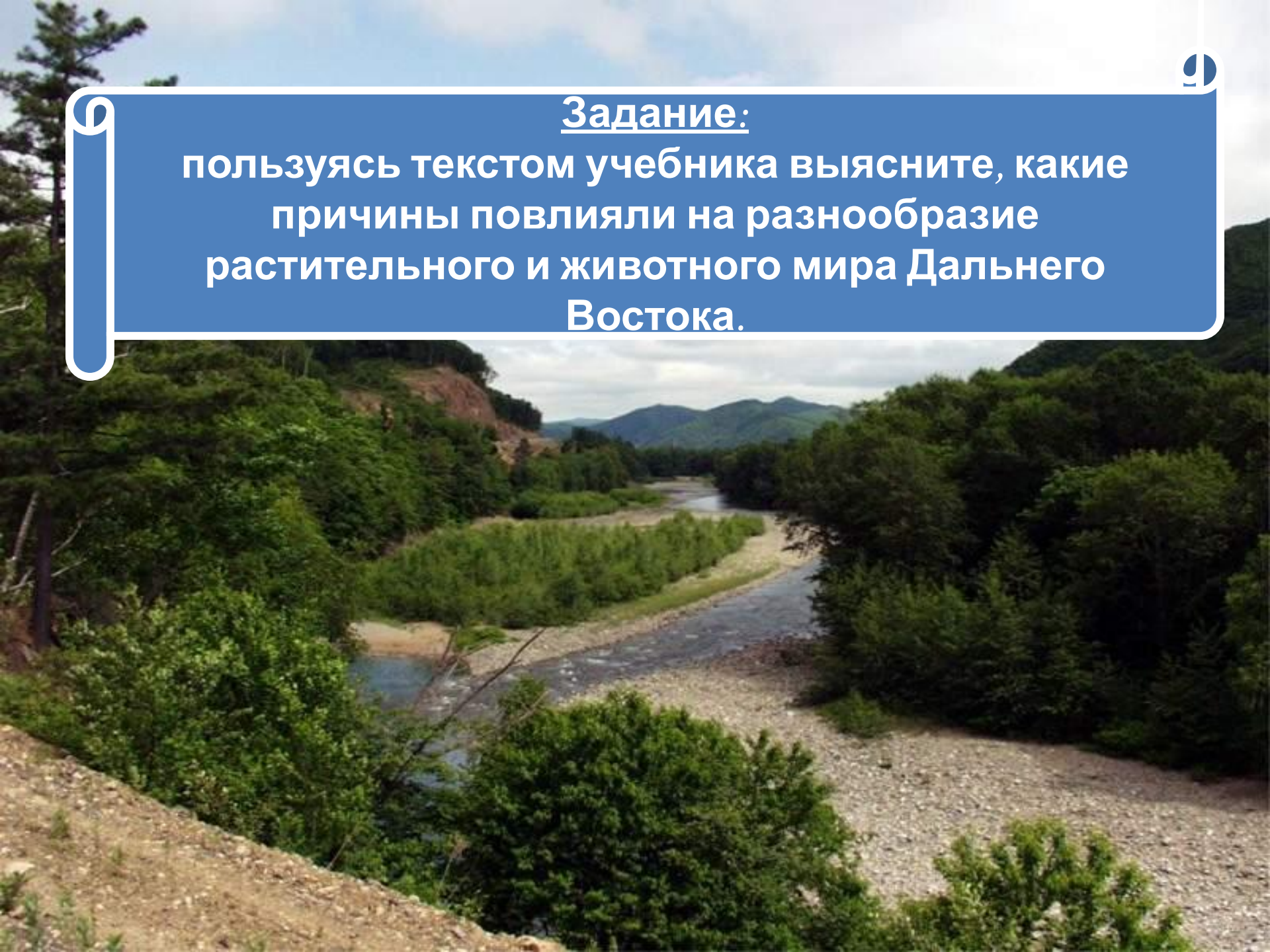
**пользуясь картой атласа выясните и запишите в тетрадь, какие типы почв распространены на территории Дальнего Востока**

**Растительный и животный мир Дальнего Востока гораздо богаче, чем в соответствующих по зональным условиям районах Сибири и европейской части России. Здесь много реликтовых растений и редких животных.**



### Задание:

пользуясь текстом учебника выясните, какие причины повлияли на разнообразие растительного и животного мира Дальнего Востока.





Причины, повлиявшие на  
разнообразии растительного и  
животного мира Дальнего Востока:

- ❖ огромная протяженность с севера на юг
- ❖ слабое проявление ледниковой деятельности в четвертичном периоде
- ❖ постоянное территориальное единство с остальной Азией
- ❖ прошлое соединение Азии с Америкой в районе Берингова









A large, leafy tree with a thick trunk stands in a lush green field. The field is filled with tall grass and small white and yellow flowers. In the background, there are more trees and mountains under a cloudy sky. The text "СПАСИБО ЗА ВНИМАНИЕ" is overlaid on the image in a bold, orange font.

СПАСИБО  
ЗА  
ВНИМАНИЕ