

План и карта.



230-842-988
Зайцева Елена Владимировна
Учитель географии
ГОУ СОШ № 128 Калининского района
Г. Санкт-Петербург

Разминка.

1

5

11

6

3

7

4

2

10

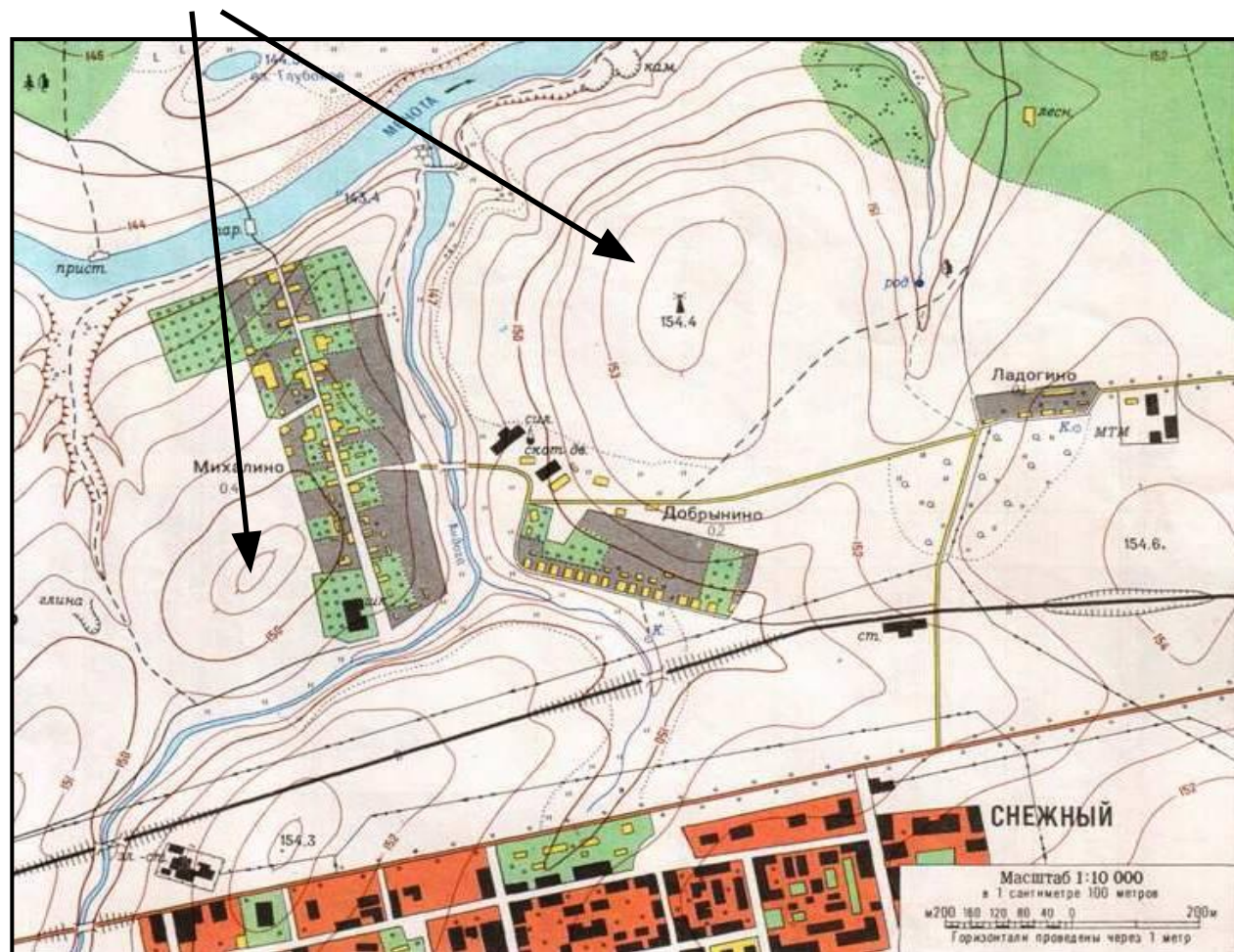
8

12

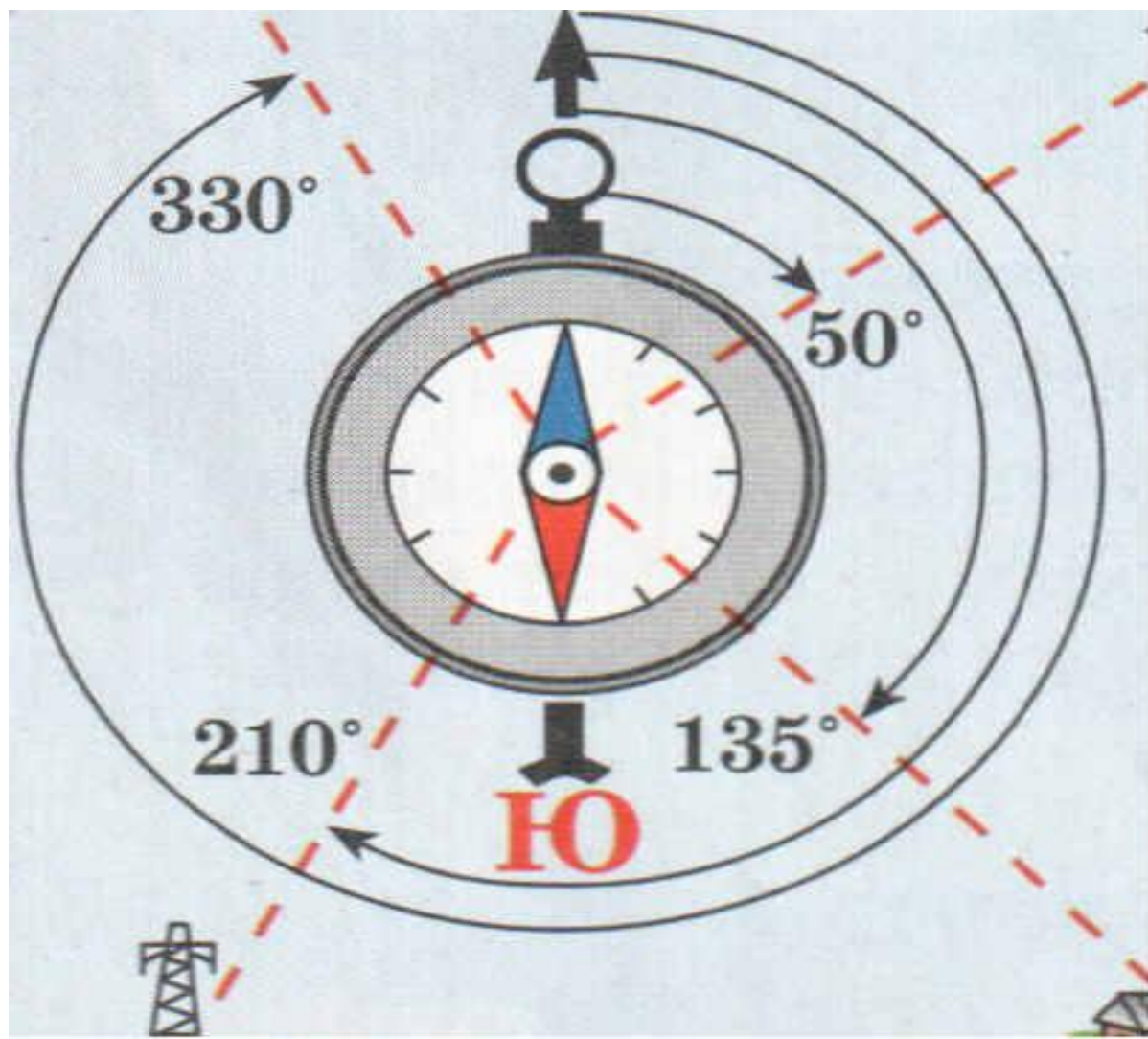
9

Линии, соединяющие точки с одинаковой высотой называют...

Горизонтали



Угол между направлением на север и на какой-нибудь определенный предмет местности называют ...



Какие виды масштаба вы знаете

Численный 1: 25000

Именованный в 1 см 250 м

Линейный



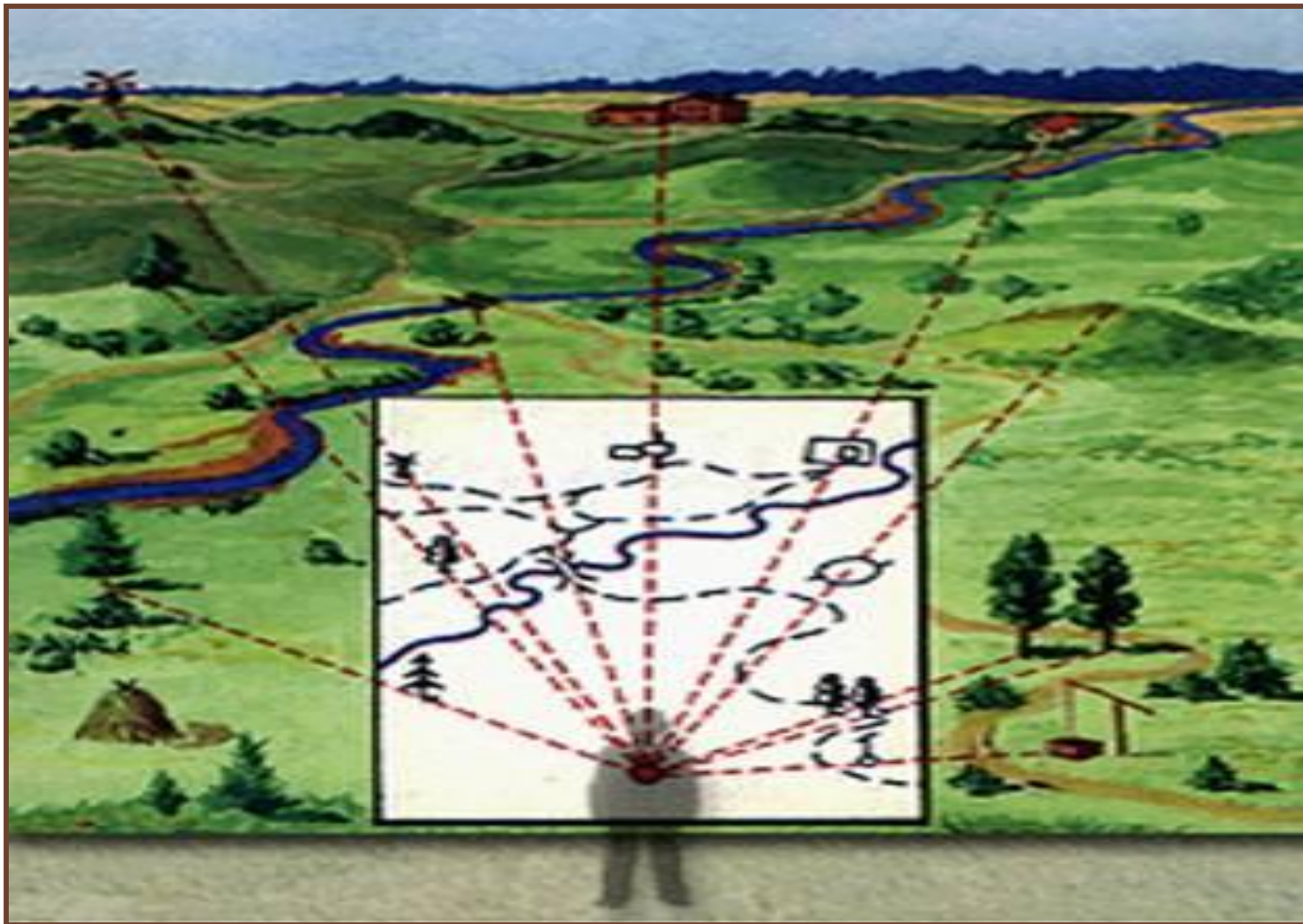


Балтийское море
Габсолютная высота земной
бывается относительно уровня



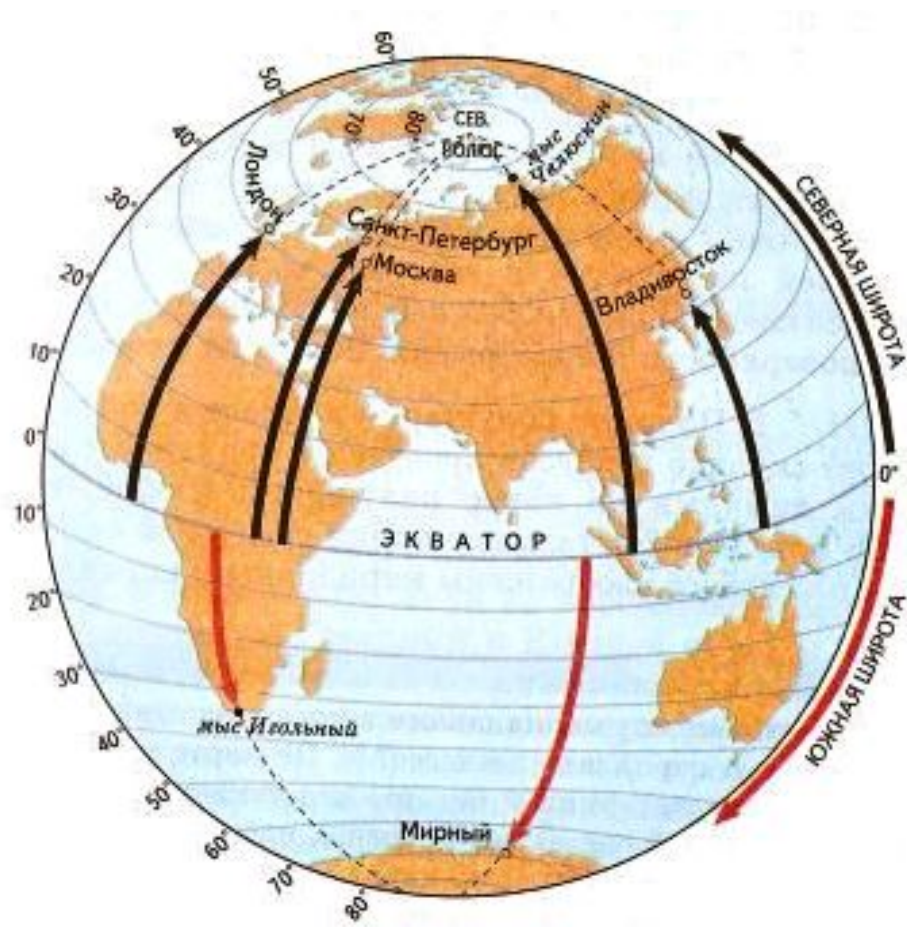
Эту съемку плана из одной точки земной поверхности называют...

Полярная съемка.



Самая длинная параллель? Какова ее ДЛИНА ...

Экватор- 40 000 км



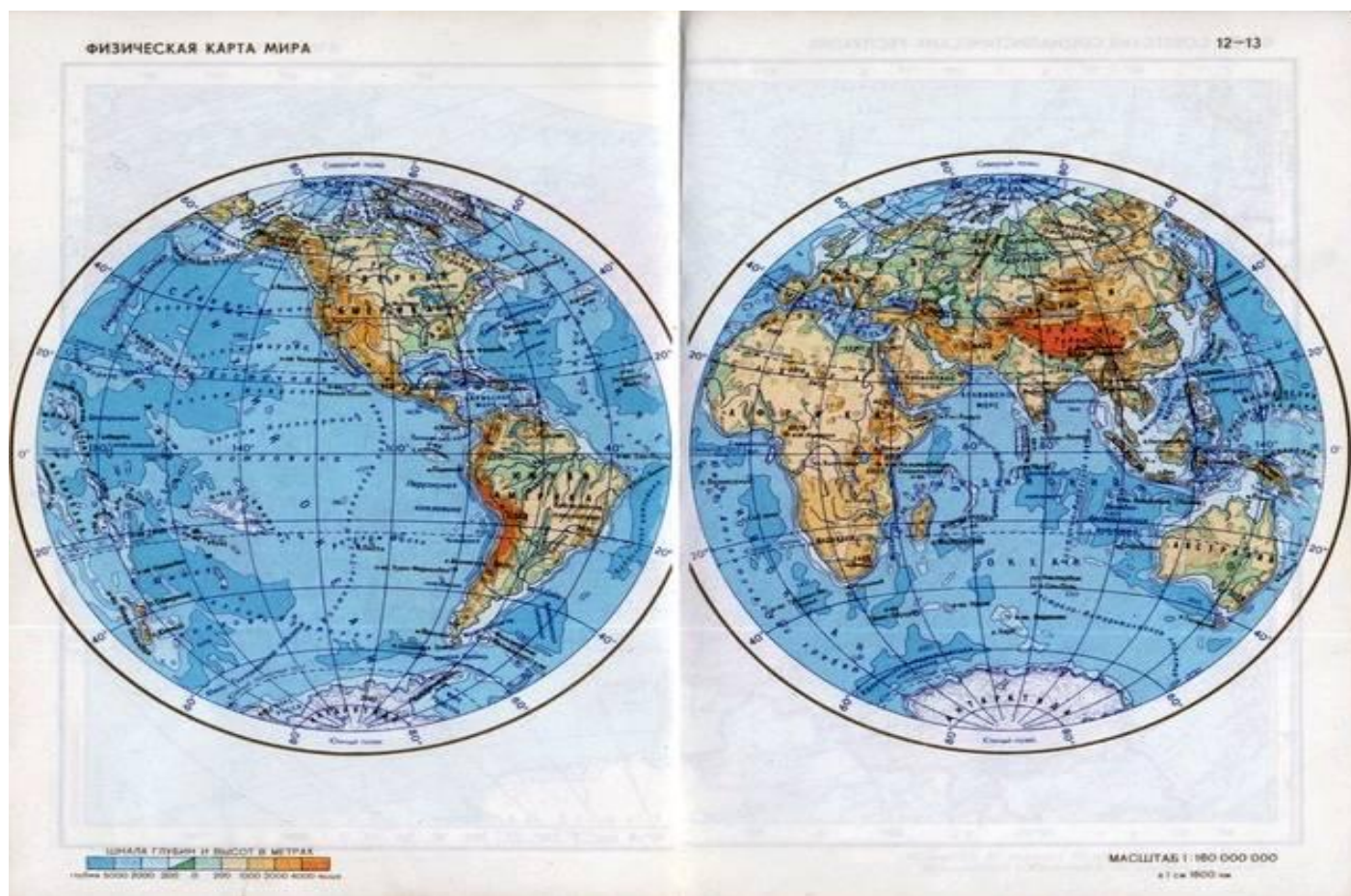
Окружности, проведенные через полюса Земли называются...

- Меридианы



На общегеографических картах изображается

Все географические объекты.



По масштабу карты делятся на группы:

- ▣ **Крупномасштабные**
- ▣ **Среднемасштабные**
- ▣ **мелкомасштабные**



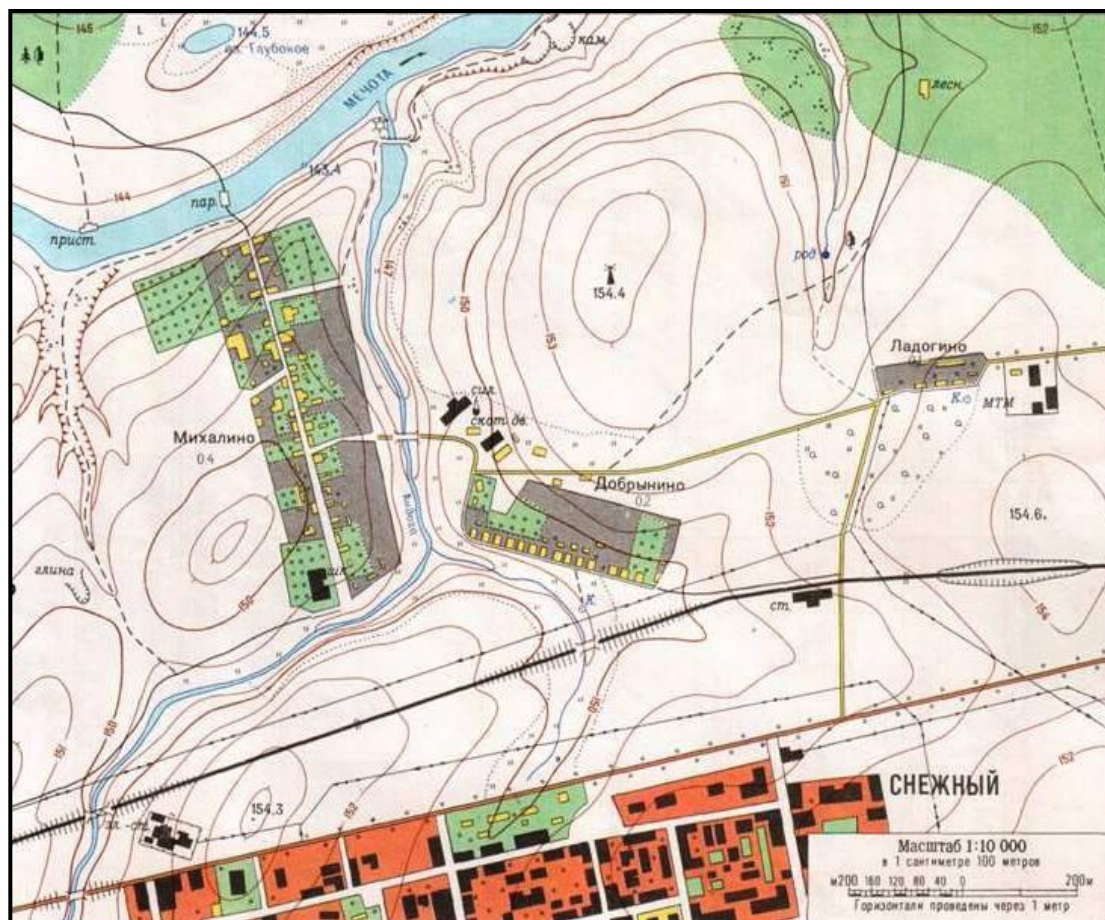
Число, которое показывает, во сколько раз
расстояния уменьшены при изображении на карте
или плане

Масштаб



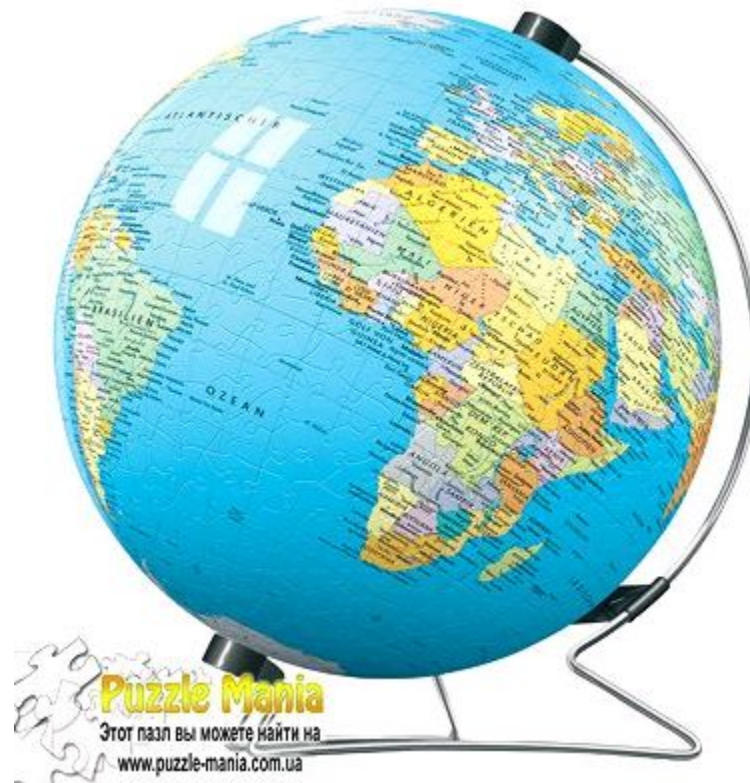
Чертёж, изображающий небольшой участок Земли сверху, в уменьшенном виде...

План местности



Модель Земли

□ Глобус



Прочти письмо


Здравствуй мама!

Мы ходили в поход. Рано утром мы вышли

из



, пошли по




до

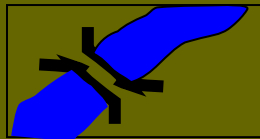


,

повернули на запад по



и подошли к



.Справа от нас был




,

а слева



.Дальше мы шли по




до




.Затем, мы



вдоль



мы вернулись в



.

Запиши рассказ условными знаками

- Жил на Руси богатырь славный Алеша Попович,
- и умел он только на печи лежать, да с Тугариным
- Змеем воевать. Отправился он однажды золото
- народное из лап тугаринских высвободить.
- Путь его лежал через берёзовый лес, мимо гнилого
- болота, через которое тропинка была. Зашел
- Алеша в самую чащу леса и видит живописное
- озеро,
- а возле него дом лесника. Спрашивает он лесника,
- как попасть ему к реке, где тугаринское войско
- расположилось. А старик ему отвечает, путь далекий
- тебе предстоит. Сначала пойдешь по грунтовой
- дороге,
- свернешь в сосновый лес. Там увидишь колодец,
- смело от него ступай к роднику, у родника
- есть глубокий овраг, перейдешь его и увидишь луг,
- на том лугу стоит одинокое дерево.
- Подойдешь к нему, Тугарин сам и появится.

Определите направление

