

# **«Основные формы рельефа»**

**6 класс**

# Основные формы рельефа Земли


**Цель урока:** сформировать общие представления о формах рельефа земной коры, рельефе суши, горах и равнинах суши, их различии и изменении во времени, понятие «горы», «равнины», развить практическое умение описывать географическое положение гор и равнин.

**Рельеф** - это совокупность неровностей земной поверхности, отличающихся по высоте, возрасту и происхождению.

Основные формы рельефа суши:



Равнины



Горы

# Главная причина разнообразия рельефа Земли

– **взаимодействие внешних и внутренних процессов**

Внешние силы

- Выветривание
- Ветер
- Ледники
- Текучая вода
- Морской прибой

Внутренние силы

- Движения литосферных плит
- Землетрясения
- Вулканизм

# Равнины

часть земной поверхности с  
различием относительных высот  
неровностей на ней не более 200 м

По характеру рельефа



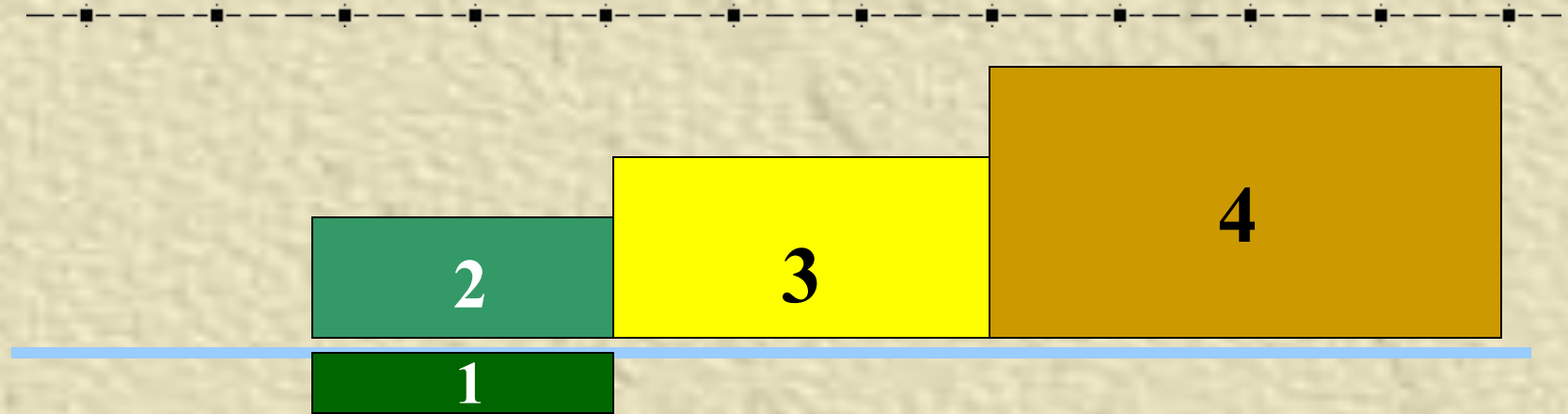
Плоские

Западно-Сибирская

Холмистые

Восточно-  
Европейская

# По абсолютной высоте



уровень  
океана

1. Депрессия
2. Низменность (до 200 м)
3. Возвышенность (от 200 до 500 м)
4. Платогорья (более 500 м)

# ГОРЫ

часть земной поверхности,  
высоко приподнятая над  
равнинами и сильно

расчлененная  
Происхождение




тектоническое

вулканическое

# Высота гор







Задание: пользуясь физической картой, распределите данные ниже названия гор в соответствии с их высотой:

- Кордильеры, Альпы, Уральские, Гималаи, Кавказские, Крымские, Аппалачи, Алтай, Анды, Драконовы, Атлас, Карпаты.

**Внешние силы -  
выравнивают  
неровности земной  
поверхности**

**Внутренние  
СИЛЫ – создают  
неровности земной  
поверхности**

# Рельеф

**- совокупность неровностей  
земной поверхности.**

**Горы – это выпуклая  
форма поверхности с  
хорошо выраженной  
вершиной, подошвой и  
склоном.**

**Равнины – часть  
земной поверхности с  
различием  
относительных высот  
не более 200 м**

## Задание «Белая ворона»

---

- Из предложенных ниже групп форм рельефа найдите лишнюю:
- Гималаи, Великая Китайская, Альпы, Анды.
- Западно-Сибирская, Восточно-Европейская, Средне-Сибирское, Уральские.
- Кордильеры, Крымские, Кавказские, Памир.

Задание: дайте название форм рельефа, которым соответствуют данные цифры

