

Математика пришла,

Занимай свои места.

Найди для головы полезное занятие!

Чтоб от безделья не зевать,

Полезно “ голову ломать”!

СЧИТАЕМ
УСТНО!




Заполни таблицы:

Уменьшаемое	3	5	37	6	7	50	8	8	8	86
Вычитаемое	5	0	7	1	2	3	0	2	8	0
Разность	2	46	3	4	66	1	1	3	6	8
	33	4	0	50	6	8	3	7	0	6
Слагаемое	6	17	9	5	7	1	2	0	9	9
Слагаемое	2	2	39	5	60	0	4	2	3	4
Сумма	0	4	4	3	6	0	7	5	4	9
	80	0	8	7	7	79	0	25	5	4




Помоги пчёлке!






ПЕРИМЕТР прямоугольника



Что такое периметр многоугольника?



- Сумма длин всех сторон многоугольника называется **периметром**.
- Периметр многоугольника обозначается заглавной буквой **P** латинского алфавита.



4 CM



3 CM

P - ?

$$P = 4 + 3 + 4 + 3 = 14 \text{ CM}$$

$$P = (4 \cdot 2) + (3 \cdot 2) = 14 \text{ CM}$$


$$P = (4 + 3) \cdot 2 = 14 \text{ CM}$$

ПЕРИМЕТР прямоугольника

$$P = (a + b) \cdot 2$$



5 cm


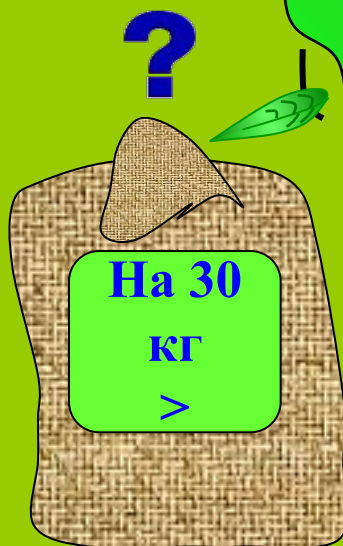



3 cm

P - ?

$$P = (5 + 3) \cdot 2 = 16 \text{ cm}$$

Составь и реши задачу.



РЕШИ ПРИМЕРЫ!



$46+23=$



69

$90-47=$



$23+17=$



$82-46=$



$40-16=$



$49-38=$



$65+35=$



$37+58=$





РЕШИ ЗАДАЧУ!

На пасеке было 12 кроликов: 8



а остальные



Сколько было белых кроликов?

Домашнее задание

СТР. 44 № 5, № 8





МОЛОДЦЫ!



Составь и реши задачу.





8 кр.



?

12 кр.