

СЧИТАЕМ
УСТНО!



*НАЙДИ ЗАКОНОМЕРНОСТЬ,
НАЗОВИ СЛЕДУЮЩЕЕ ЧИСЛО.*





НАЙДИ ЗАКОНОМЕРНОСТЬ,
НАЗОВИ ПРЕДШЕСТВУЮЩЕЕ ЧИСЛО.





РЕШИ ПРИМЕРЫ!





$46+23=$ 


$90-47=$ 


$29+17=$ 

$36-18=$ 

$41-16=$ 

$47-28=$ 

$25+35=$ 

$63-19=$ 



Впиши нужный знак $>$, $<$ или $=$.



$$40 < 46$$

$$49 = 60 - 11$$

$$60 > 25$$

$$0 = 19 - 19$$

$$28 < 82$$

$$68 + 1 > 68$$

$$96 > 69$$

$$8 + 6 < 15$$

$$40 - 1 > 36$$

$$50 > 100 - 80$$

$$69 + 1 < 84$$

$$49 > 49 - 49$$

Помоги пчёлке!



Закрась одним цветом те числа, разность которых
равна 6.

54

79

44

38

100

45

51

73


94

60


83

89

Составь и реши задачу.



Составь и реши задачу.

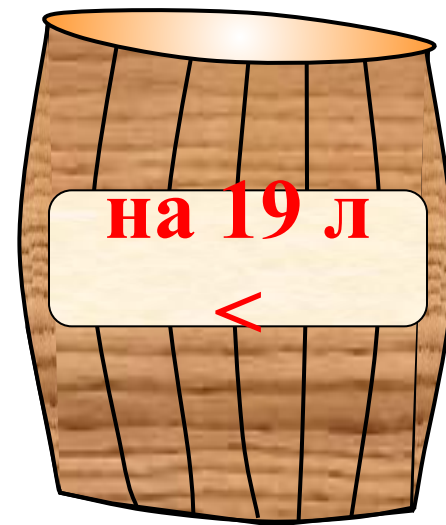


?

Составь и реши задачу.





?



?

Составь и реши задачу.



?



Который час?



МОЛОДЦЫ!

