




Урок математики.

1 класс



Тема: Числа от 1 до 20

Автор: Первушина Наталья
Михайловна



учитель начальных классов
МОУ КНОШ №3

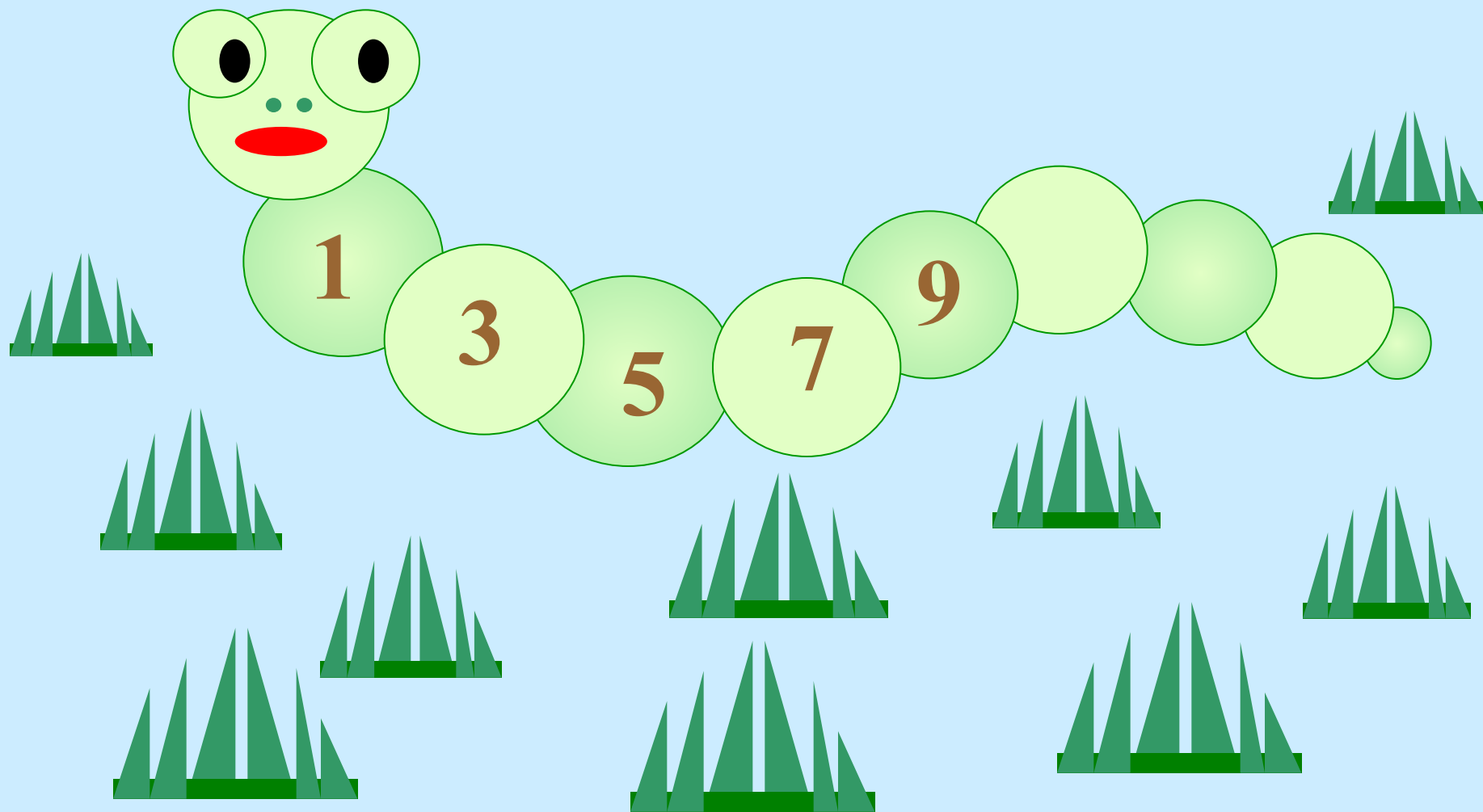
(100-614-075)

р.п.Каргаполье

2010-2011г.



Гусеница-растеряша



Рассади пассажиров


8

4

5

3

2



Проверка: 9 8 7 6 3 10 1 5

• $6 + 3 =$ $8 + 0 =$ $4 + 3 =$ $10 - 4 =$

• $9 - 6 =$ $8 + 2 =$ $7 - 6 =$ $9 - 4 =$

Дорисуйте лучик у солнышка:

зелёный – кому было всё понятно,
интересно и легко работать;

жёлтый – кто затруднялся с заданием, но
после обдумывания справился с
заданием;

красный – кому было трудно успевать и
выполнять задания;

• 9 8 7 6 3 10 1 5

11 13 15 16 18

- 10, 11, 13, 15, 16, 18

12, 14, 17, 19

Дорисуйте лучик у солнышка:

зелёный – кому было всё понятно,
интересно и легко работать;

жёлтый – кто затруднялся с заданием, но
после обдумывания справился с
заданием;

красный – кому было трудно успевать и
выполнять задания;

С. 46 № 4

- Запишите числа в порядке их
увеличения

17, 10, 5, 15, 2, 20, 1

Проверка:

1, 2, 5, 10, 15, 17, 20

С. 46. № 5

Решение:

$$3 + 3 = 6 \text{ (п.)}$$

Ответ: 6 платьев.

$$3 + 6 = 9 \text{ (п.)}$$

Ответ: 9 платьев.

Задача:

- Марина, Вера и Оля задумали по одному числу: 18, 19, 20.
- Марина задумала число 18, Вера – следующее за ним. Какое число задумала Вера? А Оля?

- Дорисуйте лучик у солнышка:
зелёный – кому было всё понятно, интересно и легко работать;
жёлтый – кто затруднялся с заданием, но после обдумывания справился с заданием;
красный – кому было трудно успевать и выполнять задания;

Задача.

У реки растут 4 осины и
3 липы. Сколько всего
деревьев у реки?

Проверяем решение задачи

$$4 + 3 = 7 \text{ (д.)}$$

Ответ: 7 деревьев.

Спасибо за урок!