

Математическая сказка



План - карта страны

г. Буратинск

с. Незнайкино

д. Репкино



Лесная школа


Морская бухта



Станция "Лесная школа"



Открой картинку



$5 + 2$

$2 + 7$

$6 + 3$

$6 + 1$

$5 + 3$

$4 + 3$

$5 + 4$

$4 + 5$

$4 + 4$

$3 + 6$

$7 + 2$

$8 + 1$

$6 + 2$

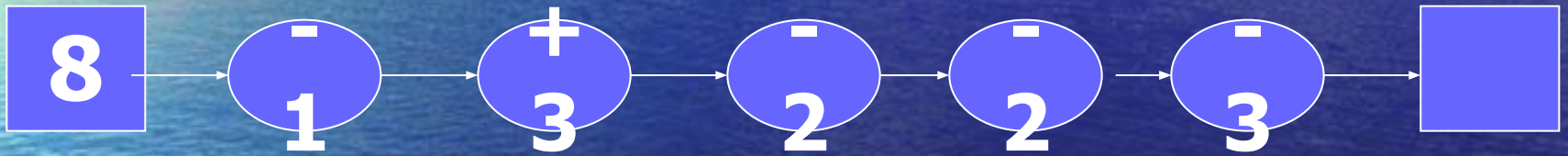
$4 + 2$

$1 + 8$

$3 + 3$

Чтобы открыть рисунок, нужно щёлкнуть мышью на выражениях, значения которых равно 9






Я, конечно, готова была выполнить все её желания, ведь её муж спас мне жизнь. Но... больше чем... кочется. Вот и приходится таким людям оставаться у разбитого

Морская бухта

10, 11,...

20, 19, ...

20, 19, 18, 17, 16, 15, 14, 13, 12, 11, 10.





3



8



5



7



4



6



9 - 3



10 - 2



9 - 2



9 - 4



8 - 5



7 - 3

Попова А.А., начальная школа-детский сад №54



Всю жизнь боялась кошек.

А эта пришла и мурлычет, скребется: мол,

Помогите
деревня Репкино

помочь?

2

$$12 = 10 + \square$$

10

$$14 = \square + 4$$

3

$$15 = \square + 5$$

$$13 = 10 + \square$$

10

$$*17 = \square + \square$$

$$*19 = \square + \square$$

10

10

7

9



Это что за очень странный
Человечек деревянный?

Город Буратинск
Кто же это?




У крышки стола 4 угла.
Сколько останется углов, если
1 угол отпилить?

5 углов



Геометрическая задача.
Сколько треугольников
на конверте?





Хоть ты смейся, хоть ты плачь –
Не могу решать задач.
Помогите мне, ребята!
Буду благодарен вам!



на 4 меньше

$$10 - 4 = 6(\text{л})$$

Ответ: 6 литров



$29 + 35$



$38 + 1$



$26 + 13$



$33 + 31$



$58 + 6$



$15 + 24$



$10 + 29$



$11 + 5$



П
началь
древий сад М

Ребусы.



Задача.

Ребусы.



Степень.

Ребусы.



Вершина.

Ребусы.



Минус.



СТОЛ



СЕМЬЯ



ВЫТРИ



СТОП

16

19

12

15

11

14

13

Мы стали друзьями, мы стали умнее,
Богаче на целый волшебный урок!
Нас знания делают выше, сильнее,
А дружба – добрей.
Ты согласен, дружок?

