



5



7



3



Углы. Градусное измерение углов. Виды углов.

*МКС(К)ОУ «Краснинская школа
интернат VIII вида»,
Ленинск – Кузнецкий район,
Кемеровская область
Черепанова Елена Николаевна,
учитель математики.*

Тест по математике для 9 класса
СКОШ VIII вида.



Угол 125° - ?

острый

Молодец!



тупой

Подумай
ещё!



прямой



5



7



3



Какой угол больше прямого?

острый

Молодец!



тупой

Подумай
ещё!



прямой



5



7



3



Какой угол находится
между прямым и
развёрнутым?

60°

Молодец!



100°

Подумай
ещё!



80°



5



7



3



**Сколько градусов
составляет полный угол?**

90°

Молодец!

80°

**Подумай
ещё!**

360°



5



7



3



Сколько градусов
составляет развёрнутый
угол?

180°

Молодец!



120°

Подумай
ещё!



90°



5



7



3



Угол 20° - ?


острый

Молодец!



тупой

Подумай
ещё!



прямой



5



7



3



Угол 90° - ?

острый

Молодец!



тупой

Подумай
ещё!



прямой



5




7



3



Любой тупой угол




Молодец!



меньше 90°

больше 90°

Подумай
ещё!



равен 90°



5



7



3



Любой острый угол





Молодец!

меньше 90°

больше 90°

Подумай
ещё!

равен 90°



5



7



3





Интернет – источники:

http://pedsovet.su/_id/296/35939792.jpg

<http://fantasyflash.ru/anime/index.php?kont=milash&n=3>

<http://fantasyflash.ru/anime/index.php?kont=milash&n=10>

Литература:

Залялетдинова Ф. Р. Нестандартные уроки в коррекционной школе: 5 – 9 классы. – М.: ВАКО, 2007. -128с. – (Мастерская учителя)

5



7



3

