



# Математик


2 класс  
а

*Устные приемы вычислений  
в пределах 20. Повторение.*

ВЫПОЛНИЛА: учитель начальных классов  
МОУ «СОШ №1» г.Новошахтинска  
Самарская Елена Александровна

# ПУТАНИЦА

Мяу -  
мяу!!!




Кря,  
кря,  
кря!!!



Ква,  
ква,  
ква!!!

Му-у-у!



Ку-ка-ре-ку!

Хрю,  
хрю,  
хрю!!!



# Зайчишкины ушки



**Ушки длинные у зайки,  
Из кустов они торчат.  
Он и прыгает и скачет,  
Веселит своих зайчат.**



Пальчики в кулачок. Выставить вверх указательный пальцы.  
Ими шевелить в стороны

**Найди цифры**



# ПОСЧИТАЙ

Хрю,  
хрю,  
хрю!!!



$$12+5= 17$$

$$19-10= 9$$

$$8+7= 15$$

$$14-6= 8$$

$$9+3= 12$$

$$15-8= 7$$

$$9+9= 18$$

Хрю,  
хрю,  
хрю!!!



Мяу -мяу!



**+** ИЛИ **-**

Ква,  
ква,  
ква!!!



**-**

$$14 - 6 = 8$$

$$7 + 9 = 16$$

$$5 + 8 = 13$$

$$19 - 9 = 10$$

$$7 + 7 = 14$$

$$8 + 4 = 12$$

Ква,  
ква,  
ква!!!



**+**

Кря, кря,  
кря!!!





# Сравни выражения

$$9+4 = 7+6$$


$$15-6 < 8+7$$


$$6+5 > 11-9$$

Мяу-  
мяу!




Мяу-  
мяу!





Хрю, хрю,  
хрю!!!




# Физминутка

Кря, кря,  
кря!!!




Шёл цыплёнок по дорожке,  
Прыгал он на правой ножке  
А ещё кружился смело,  
Лапками махал умело.  
Он спешил к себе домой  
К милой мамочке родной





Ко-ко-  
ко!!!!



# Реши задачу

Ку-ка-ре-ку!

С одного куста  
МИШКА сорвал 7 ягод  
малины, а с другого на 3  
ягоды больше. Сколько  
ягод малины сорвал  
МИШКА с двух кустов?



Pe-pa-py!



17

# Найди геометрические фигуры







Чик-  
чирик!



# Выполни действия



20



9

$$15-9+4+7-8-3+5+9$$

1







Хрю,  
хрю,  
хрю!!!

Ре-ра-  
ру!!!!

Ко-  
ко-ко!

Кря,  
кря,  
кря!!!

Чик-  
чирик!

Мур,  
мур,  
мур!!!



**Какое  
настроение?**

