

ЧИСЛО 0. ЦИФРА 0.

Математический диктант

7 6 2 1 5 8 3 4

Заполните таблицу


УМЕНЬШАЕМОЕ	9	8	7	6	5	4
ВЫЧИТАЕМОЕ	3	3	3	3	3	3
РАЗНОСТЬ	6	5	4	3	2	1

Игра «День-ночь»

$$9-3+2-7+3+1+3-6= \quad 2$$

Составьте выражение к задаче
На полке было 4 книги.

Мама поставила столько же. Сколько всего книг стало на полке?



$$4 + 4 = 8$$

Составьте выражение к задаче

На крыше сидели 3 голубя. 2

голубя улетели. Сколько

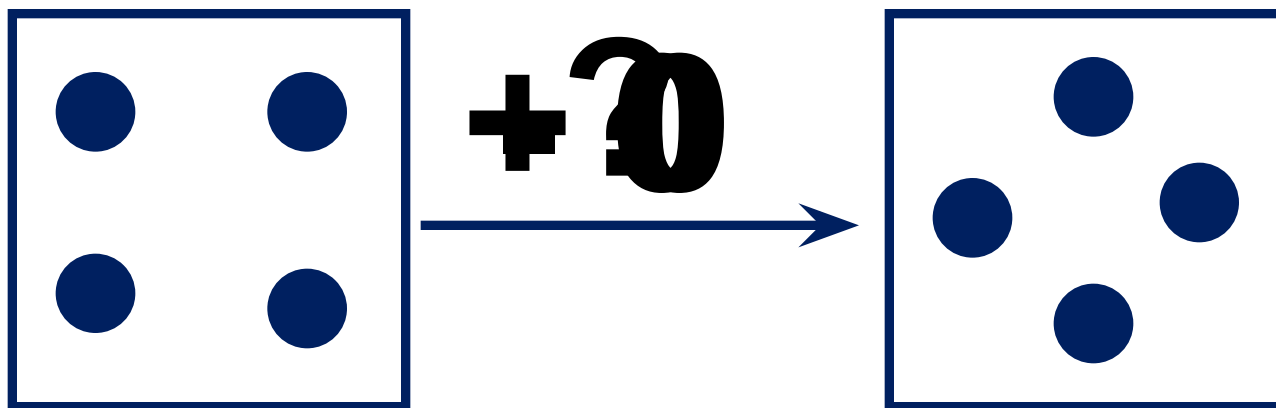
голубей осталось на

крыше?

$$3 - 2 = 1$$



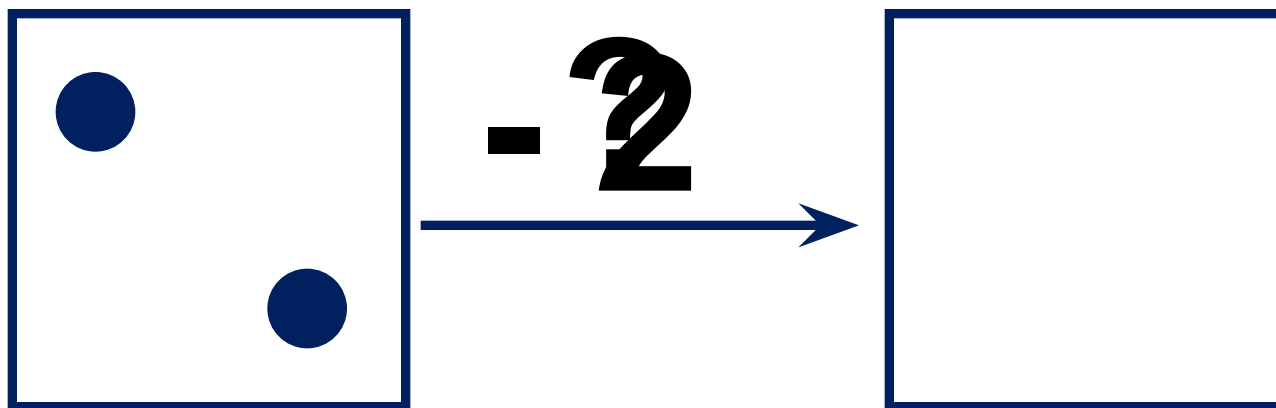
Что изменилось?



$$a + 0 = a$$

$$a - 0 = a$$

Что изменилось?



$a - 2a = 0$

**Задания подготовлены по книге «Устные упражнения на уроках математики. 1 класс» (авт. Л.Г. Петерсон, И.Г. Липатникова)
Презентация выполнена Галановой Е.В., учителем начальных классов
ГОУ школы №328 Санкт-Петербурга**