

ВЕЛИЧИНЫ. МАССА.

Математический диктант

9 7 6 5 4 3

Игра «Молчанка»

4

5

6



2

3

1

Сравните выражения

$$9\text{см} - 2\text{см} < 10\text{см} - 2\text{см}$$

$$8\text{см} - 2\text{см} < 9\text{см} - 2\text{см}$$

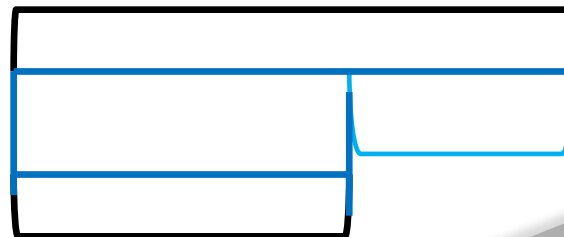
$$7\text{см} - 2\text{см} < 8\text{см} - 2\text{см}$$

$$6\text{см} - 2\text{см} < 7\text{см} - 2\text{см}$$

Дополните и решите задачу



В первой пачке 5 тетрадей, а во второй – 4.

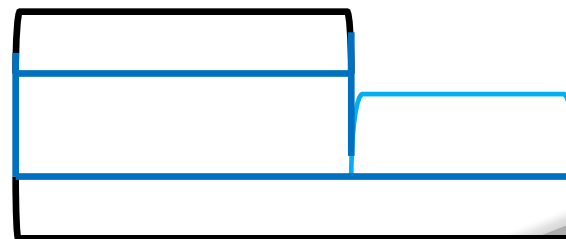


Дополните и решите задачу




На первой стоянке 7 машин. Это меньше, чем на второй стоянке.

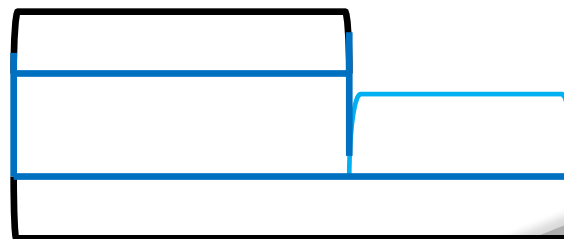
Сколько машин на второй стоянке?



Дополните и решите зад



*На столе лежали книги. 2 книги
положили на полку. Сколько книг
осталось на столе?*



Найдите сумму длин сторон прямоугольника



$$AB = VG = 2 \text{ см}$$

$$AG = BV = 4 \text{ см}$$

**Задания подготовлены по книге «Устные упражнения на уроках математики. 1 класс» (авт. Л.Г. Петерсон, И.Г. Липатникова)
Презентация выполнена Галановой Е.В., учителем начальных классов
ГБОУ школы №328 Санкт-Петербурга**