

# РЕШЕНИЕ ЗАДАЧ

© ГУСАКОВА Ю.А.

Учитель

начальной школы

Гимназия № 446

Санкт-Петербург

2007




# Реши задачу:



Ослята питаются молоком матери 16 недель, а тигрята – 8 недель.

Во сколько раз меньше питаются молоком матери тигрята?

Чтобы узнать во сколько раз одно число больше или меньше другого нужно:




# Решение:

$$16 : 8 =$$

в 2 ( раза )

Ответ: тигрята питаются молоком матери  
*в 2 раза меньше*, чем ослята.

Реши задачу:



Ослята питаются молоком матери 16 недель, а тигрята – 8 недель.

Во сколько раз дольше  
питаются молоком матери ослята?


# Решение:

$$16 : 8 =$$

в 2 ( раза )

Ответ: ослята питаются молоком матери  
*в 2 раза дольше*, чем тигрята.

# СОСТАВЬ ЗАДАЧУ НА КРАТНОЕ СРАВНЕНИЕ



24 шт.



8 шт.



# СОСТАВЬ ЗАДАЧУ НА РАЗНОСТНОЕ СРАВНЕНИЕ

?



24 шт.



8 шт.







# КРАТНОЕ СРАВНЕНИЕ

*ВО СКОЛЬКО РАЗ БОЛЬШЕ...?*

*ВО СКОЛЬКО РАЗ МЕНЬШЕ...?*



# РАЗНОСТНОЕ СРАВНЕНИЕ

НА СКОЛЬКО ЕДИНИЦ  
БОЛЬШЕ...?

НА СКОЛЬКО ЕДИНИЦ  
МЕНЬШЕ...?




## Решение задачи:

$24 : 8 =$  в 3 раза меньше машин, чем велосипедов.




$24 : 8 =$  в 3 раза больше велосипедов, чем машин.



## Решение задач:

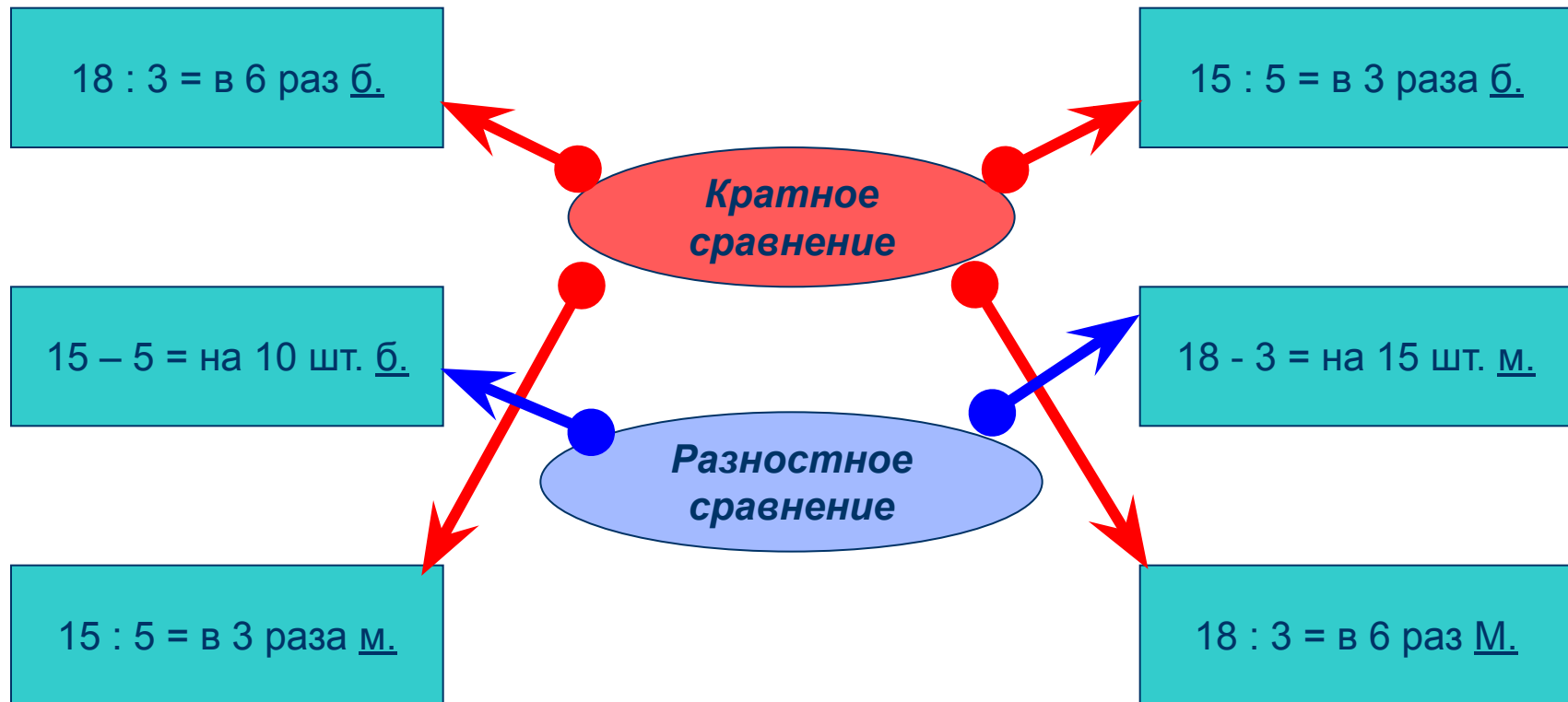
$24 - 8 = 16$  на 16 велосипедов больше, чем машин



$24 - 8 = 16$  машин меньше, чем велосипедов




# УЗНАЙ ВИД ЗАДАЧИ ПО ЕГО РЕШЕНИЮ



# Составь задачу по краткой записи:



21 шт.



7 шт.



Что означает каждое из выражений:

$21 \ ? \ 7$

$21 \ - \ ? \ 7$

*Назови вид задачи.*

Чтобы узнать, на сколько одно число больше или меньше другого, нужно:

