



ГОТОВИМСЯ К КОНТРОЛЬНОЙ РАБОТЕ

**Учитель МОУ лицей №1:
Бугаёва Н.И.**

г. Цимлянск, Ростовская область





12					
11					
10					
9					
8					
7					
6					
5					
4					
3					
2					
1					
	Серёжа	Катя	Лена	Игорь	Миша

Серёжа прочитал **9** книг. Игорь прочитал на **3** книги меньше, чем Серёжа. Миша прочитал в 3 раза больше, чем **Катя**. Больше всего книг прочитал (а) **Миша**, а **Лена** прочитал (а) на 2 книги меньше. Игорь прочитал в **2** раза меньше, чем Миша.



46 27 28 35 17 18

Найди такие два числа, у которых:

- Сумма равна 62 **$27 + 35 = 62$**
- Разность равна 28 **$46 - 18 = 28$**



Запиши выражения и вычисли

- К произведению чисел 7 и 4 прибавили число 55

$$7 * 4 + 55 = 83$$

- Вычти из числа 80 сумму чисел 38 и 14

$$80 - (38 + 14) = 28$$



Ученики 3 класса нашли в Интернете интересные факты и узнали, что:

- Самой высокой горой в Эстонии является Суур-Мунамяги, высота горы 318 метров
- Продолжительность жизни бабочки-капустницы примерно 2 недели
- Ширина футбольных ворот составляет 7 м 32 см
- Поезд Эстонской Железной Дороги проезжает от Рапла до Таллинна за 72 минуты
- Куриное яйцо имеет диаметр 45 миллиметров

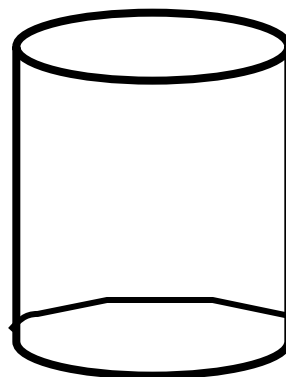
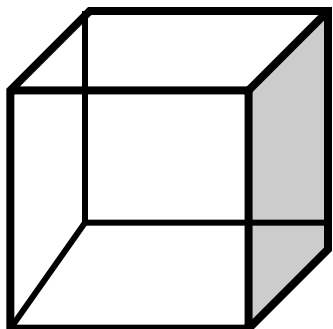


Преобразуй!

Ширина футбольных ворот	___ м ___ см = ___ см
Продолжительность жизни бабочки	___ нед. = ___ дней
Расстояние от Рапла до Таллинна	___ мин = ___ ч ___ мин
Диаметр куриного яйца	___ мм = ___ см ___ мм
Высота горы Суур-Мунамяги	___ м = _____ дм



Геометрия



- Как называется фигура, у которой 4 стороны неравной длины? прямоугольник
- Покажи квадрат
- Как называются остальные фигуры?
параллелепипед и цилиндр



Вставь пропущенные числа

$$7 * \dots = 42$$

$$\dots : 7 = 9$$

$$3 * \dots = 24$$

$$\dots : 3 = 0$$

$$\dots * 6 = 48$$

$$28 : \dots = 4$$

$$8 * \dots = 32$$

$$36 : \dots = 1$$

$$81 : \dots = 9$$

$$8 * \dots = 56$$

$$\dots : 7 = 5$$

$$29 * \dots = 0$$



Запиши 4 равенства

9, 36, 4

42, 7, 6

4, 3, 12



Решаем задачи

Дети вырастили 3 огромные тыквы, масса каждой из которых 12 кг.

Какова масса всех тыкв?



В актовом зале расставили 56 стульев по 7 рядов.

Сколько стульев в одном ряду?

стульев

На синее платье пришили 35 кнопок, а на красное только 7.

Во сколько раз меньше пришили кнопок на красное платье?





3. Вычисли значение выражений

$$56 : 1 : 8 =$$

$$49 : 7 * 0 =$$

$$94 - 0 : 5 =$$

$$(36 - 29) * 4 =$$

$$12 * 1 : 3 =$$

$$1 * 24 : 4 =$$

$$81 : 9 + 72 =$$

$$5 * (93 - 87) =$$





Задача про жизнь!

- Аня должна была купить школьные принадлежности. Мама дала ей **четыре 10 – рублёвые монеты** и **две 2 – рублёвые монеты**, а также **три монеты по рублю**.
- Сколько денег получила Аня?

$$10 * 4 + 2 * 2 + 1 * 3 = 47 \text{ (руб)}$$





Решаем задачу

Столовой для приготовления обеда потребуется 3 кг лука, картофеля в 6 раз больше, чем лука, а моркови в 9 раз меньше, чем картофеля.

Сколько кг овощей потребуется для приготовления обе

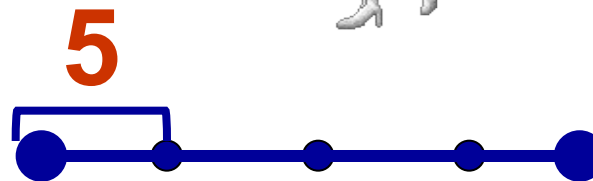
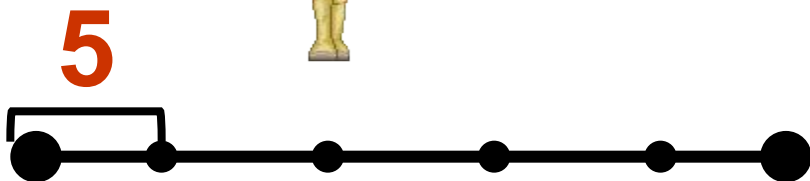




Задача про деньги - № 367



Выбери схему!



$$(5 * 4) : 2 = 10 \text{ (монет)}$$