



# Відрізок і його ДОВЖИНА

Урок математики у 5 класі

Учитель: Рябченко Надія Миколаївна





*Двадцять перше листопада*  
*Класна робота*

*Тема. Відрізок і його довжина*

# Обов'язково!


- Під час роботи з комп'ютером дотримуйтеся правил безпеки і санітарно-гігієнічних норм!



Усний рахунок



Caunter.exe



Îäèíèö<sup>3</sup> äîâæèéè.mtf

# Точка

Якщо добре загостреним олівцем доторкнутися до аркушу паперу, то залишиться слід, який дає уявлення про точку.

Точка — найпростіша геометрична фігура.

Точка розмірів не має. Будь-яка інша геометрична фігура складається з точок.

. А




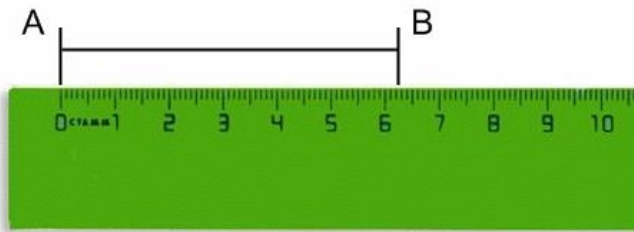
làòảìàòèêà, 5 êëàñ.Ink

# Фізкутхвилинка





# Прилади для вимірювання ДОВЖИНИ



# Математичний диктант



# *Відповіді*

- 1. *МК*
- 2. *рівними*
- 3. *одним*
- 4. *АВ*
- 5. *лінійкою*
- 6. *АВ*

# Виконання завдань підручника

- № 551 (усно)
- №552



Початковий рівень

**551.** Серед предметів, які тебе оточують, назви ті, що дають уявлення про точку; про відрізок.

**552.** Відміть у зошиті чотири точки та познач їх.

№ 552

- A

- B

- C

- M

# Виконання завдань підручника

## • №562

562. Виміряй довжину відрізка  $AB$  на рисунку 28.  
Побудуй у зошиті відрізок:

- 1)  $KL$ , що дорівнює відрізку  $AB$ ;
- 2)  $MN$ , коротший від відрізка  $AB$ ;
- 3)  $PQ$ , довший за відрізок  $AB$ .



Рис. 28

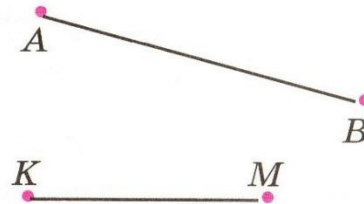



Рис. 29

№ 562

K

$KL = 3 \text{ cm } 5 \text{ mm}$



M

N



P

Q



# Домашнє завдання

- Опрацювати § 17

- Виконати:

Руслан - № 553, 555

Олександра, Ілля - № 557, 559, 561

Альбіна - № 559, 561, 563,



Дякую за співпрацю!

учитель начальных классов Говоруні А. А. «Роздольний садок» ООШ»

«Крошка Енот»

«Крошка Енот»

