

**УРОК МАТЕМАТИКИ**

---

**В 3 КЛАССЕ**

**РЕШЕНИЕ ЗАДАЧ  
(ОБОБЩЕНИЕ)**

Из опыта работы  
учителя начальных классов  
МАОУ – Лицей № 62 г. Саратова  
Янковой Ирины Викторовны

Саратов 2011г

# ***УСТНЫЕ ВЫЧИСЛЕНИЯ***

---

$$37 \cdot 2$$

$$75 : 3$$

$$90 : 45$$

$$80 : 20$$

$$60 : 4$$

$$81 : 3$$

# ***УСТНЫЕ ВЫЧИСЛЕНИЯ***

---

$48 : 3$

$40 \cdot 6$

$29 \cdot 8$

$49 \cdot 3$

$18 \cdot 4$

$39 \cdot 6$

# МАГИЧЕСКИЙ КВАДРАТ

12	28	8
11	4	33
25	16	7

48

$$41 - 36 : X = 29$$

---



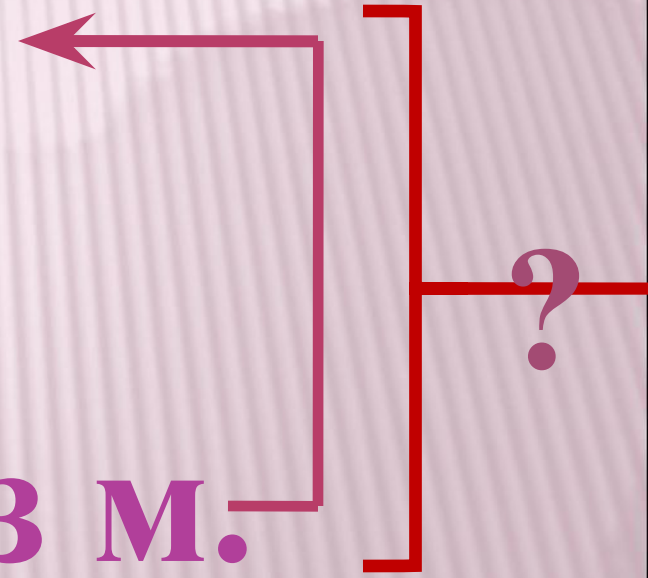
# СОСТАВИТЬ ЗАДАЧУ



□ 72 шт.



□ ?, в 6 раз м.




## РЕШИ ЗАДАЧУ.

---

- В пруду плавало 23 утки, лебедей 28 птиц, а чаек в 3 раза меньше, чем уток и лебедей вместе.
- Сколько всего птиц плавало в пруду?

# РЕШИ ЗАДАЧУ



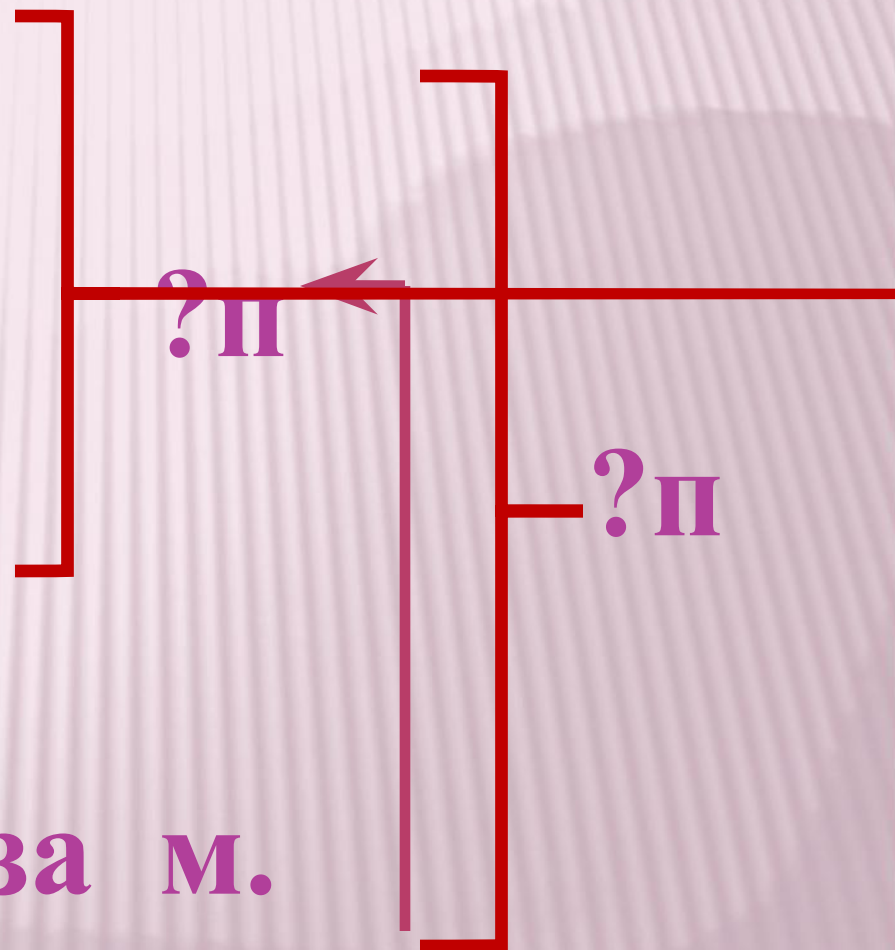
□ 23 п.



- 28 п.



□ ? в 3 раза м.





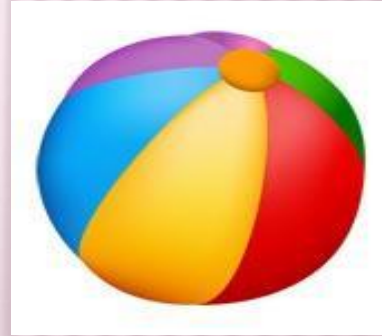
---

# **ФИЗМИНУТКА ДЛЯ ГЛАЗ**


# Клоунада


































*Молодцы!*







Ребята, берегите здоровье!





## РЕШИ ЗАДАЧУ

---

- ▣ На лесную поляну прибежало 25 бельчат, зайчат в 3 раза больше, чем бельчат, а медвежат в 20 раз меньше, чем бельчат и зайчат вместе.
- ▣ Сколько всего животных прибежало на поляну?



# РЕШИ ЗАДАЧУ



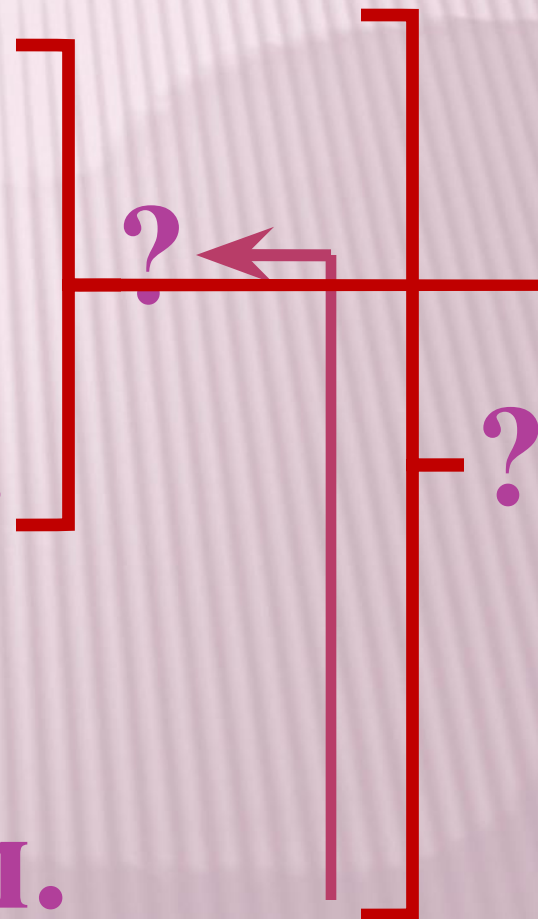
□ 25 шт.



□ ?, в 3 раза б.



□ ?, в 20 раз м.



# *СОСТАВИТЬ ЗАДАЧУ*

---

**Было – 10г. 8в.**

**Улетело – ?п.**

**Осталось - 3п.**

$$10+8=18(\text{п.})$$

$$18-3=15 (\text{п.})$$

**Было – ?п.**

**Улетело – 15п. 8п.**

**Осталось - 7п.**

$$15 + 8=23(\text{п.})$$

$$23+7=30 (\text{п.})$$

# ***НАЙТИ $P$ И $S$ ПРЯМОУГОЛЬНИКА.***

---

**Длина прямоугольника 12 см,  
ширина на 4 см меньше  
Чему равен  $P$  и  $S$  прямоуголь-  
ника?**