

Путешествие на остров



Математика
1 класс

Математическая разминка

6 увеличить на 2

8 Д

8 уменьшить на 4

4 Р

Какое число больше 6 на 3?

9 У

На сколько 7 меньше 10?

3 Ж

Из какого числа надо вычесть 3
и получится 3?

6 Б

1 слагаемое — 4, 2 слагаемое — 3.

7 А

Найти сумму.

Помоги дельфину собрать примеры




7 + 2 6 + 3 5 + 5 7 + 3 1 + 8 2 + 8 4 + 6 4 + 5 9 + 1

Остров “Дружба”




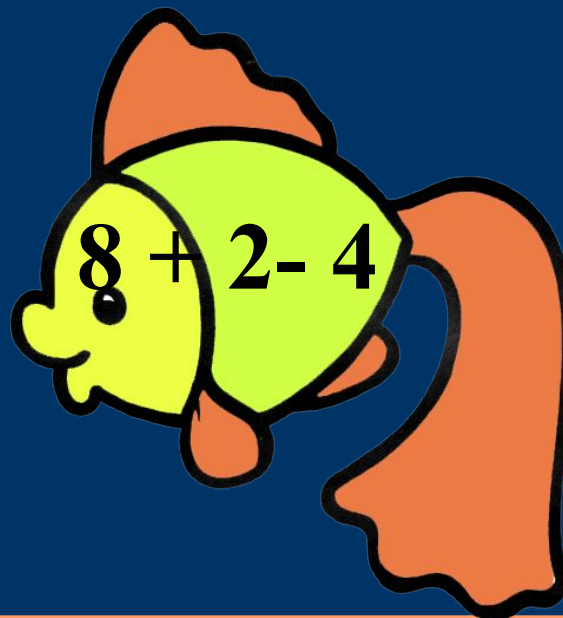


Достань банан

Сравни выражение
и число.



- $7 - 5 * 2$
- $3 + 6 * 8$
- $10 - 8 * 4$
- $3 + 7 * 5$
- $4 + 6 * 10$
- $8 - 2 * 9$
- $5 + 5 * 5$
- $9 - 6 * 0$

Поймай рыбку



Реши задачи

- В ведре 4 рыбки. 2 рыбки уже почистили. Сколько рыб ещё осталось почистить?
- На острове было 3 птицы. К ним прилетело ещё столько же. Сколько птиц стало?




Освободи пещеру



Помоги обезьянам

Вставь пропущенные знаки и числа

6	*	*	=	10
7	*	*	=	2
4	*	*	=	7



Определи курс домой

Не выполняя вычислений найди, в каком выражении наибольшее значение.

$4 + 0$

$4 + 6$

$4 + 2$

$4 + 3$

МОЛОДЦЫ!

Источники:

http://otvetin.ru/uploads/posts/2009-10/1256670776_korabl.jpg

<http://domdacha.su/images/korzini/bak8.jpg&imgrefur>

<http://jizn.com.ua/content/obezyana>

<http://www.morguefile.com>

<http://www.everystockphoto.com/>



Презентацию составила
учитель начальных классов
ГБОУ СОШ № 1466 г. Москвы
Акиншева Елена Николаевна

2013 год
