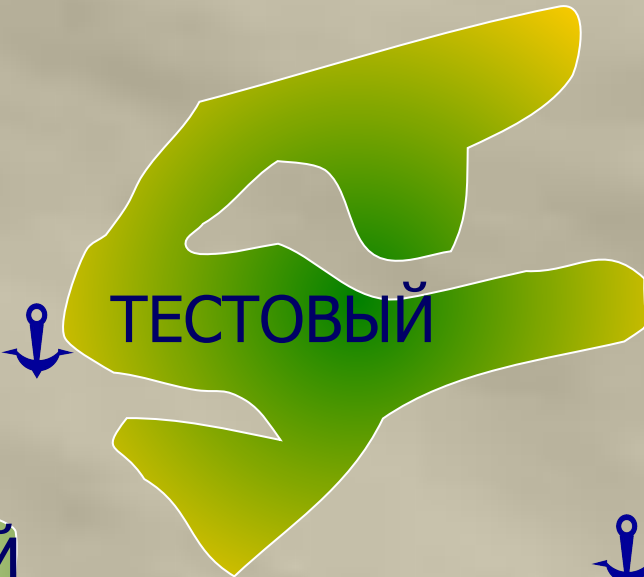


# ***Сложение и вычитание трёхзначных чисел***

Орлова Галина Александровна  
учитель начальных классов МОУ СОШ№1 г.  
Данилова Ярославской области

2010 г







***Домашнее задание***  
***№ 269,274 (стр.62)***



**Запиши число,  
которое на 2 десятка больше**

**225**

**600**

**308**

**471**

**708**

**780**

***Проверяем.***

***245***

***620***

***328***

***491***

***728***

***800***

**Запиши числа  
в порядке возрастания**

440

609

853

725

210

201

906

358

У мамы было 1000 рублей. За покупки надо заплатить 300 рублей. На сколько рублей меньше денег осталось?  
Среднее арифметическое из чисел 6, 7 и 8 равно 7. Сколько чисел в этом ряду?  
Сколько часов занимает сон на 1 костюм?





# СРАВНИ ЧИСЛА

640 < 640

834 < 843

305 < 530

930 > 309

770 > 707

515 > 155



# Решаем задачу № 271



## Задача № 271

1)  $56:7=8$  (п.) - пеликанов

2)  $12+8=20$  (п.) - фламинго и пеликанов

3)  $56-20=36$  (п.)





2 способ.

1)  $56:7=8$  (п.) - пеликанов

2)  $56-8=48$  (п.) - фламинго и лебедей

3)  $48-12=36$  (п.)

**Ответ: 36 лебедей в зоопарке.**



# ***Тест***

1. Найдите число, которое меньше 7 сотен на 1

**а) 600**

**б) 699**

**в) 690**

2. Найдите верное неравенство.

**а)  $815 < 851$**

**б)  $581 < 518$**

**в)  $185 < 158$**

3. Сколько надо прибавить к числу 800, чтобы получилось 870?

**а) 7**

**б) 70**

**в) 700**

4. Если 700 увеличить на 250, то получится:

**а) 750**

**б) 725**

**в) 950**

5. Если уменьшить 300 на 125, то получится:

**а) 325**

**б) 175**

**в) 275**



# ***Правильные ответы***

**1. б**

**2. а**

**3. б**

**4. в**

**5. б**

# ***Занимательная рамка***

<b>42</b>	<b>30</b>	<b>18</b>
<b>20</b>	<b>90</b>	<b>40</b>
<b>28</b>	<b>30</b>	<b>32</b>



# Решаем задачу № 273



## Задача № 273

1)  $82 - 4 = 78$  (км) - пройдёт 2 поезда

2)  $82 + 78 = 160$  (км)

$82 + (82 - 4) = 160$  (км)

$(82 - 4) + 82 = 160$  (км)

Ответ: 160 километров расстояние  
между поездами



# Запиши выражения столбиком и реши

1 вариант

$$395 + 143$$

$$726 + 159$$

$$324 - 163$$

$$672 - 237$$

2 вариант

$$567 + 323$$

$$276 + 692$$

$$812 - 409$$

$$875 - 539$$



<b>333</b>			<b>478</b>
		<b>864</b>	<b>748</b>
<b>888</b>			
<b>111</b>			<b>487</b>
<b>674</b>	<b>999</b>		<b>784</b>
<b>555</b>			<b>374</b>



## Ссылки:

<http://www.proshkolu.ru/user/sergeywaz/> - рабочее поле

[http://luchiki.ucoz.ru/load/ehlektronnye\\_fizminutki\\_dlja\\_glaz/15-1-0-77](http://luchiki.ucoz.ru/load/ehlektronnye_fizminutki_dlja_glaz/15-1-0-77) - физкультминутка

<http://kizhi.karelia.ru/education/collections/risunki-lodok/130#lnk>  
- рисунок парусника

<http://www.3vuki.ru/fo/download.php?file=736f75ce40b826909956164fd1c7931b> - шум моря