

Муниципальное бюджетное общеобразовательное учреждение
Ярцевская средняя общеобразовательная школа №4
имени Героя Советского Союза О.А.Лосика

Устный счёт по теме «Решение задач на движение»

4 класс

Разработала: учитель начальных классов
Клюшина Елена Валентиновна

1. Найдите закономерность и продолжите ряд:

- 1, 2, 4, 7, 11 ...
- 1002, 2004, 3008, 4016, ...

2. Определите порядок действий:

$$(a + b) \cdot c - m : k + n \cdot z$$

3. Решите цепочки примеров:


$$780 + 250 + 240 + 210 - 650$$

$$335 + 408 - 109 + 607$$

$$621 + 204 - 505 + 70 - 100$$




Сколько прямоугольников на рисунке?



16 прямоугольников

Арифметический диктант. Запишите ответы.



1. Найдите сумму чисел 5499 и 8000.
2. Увеличьте число 270 в 1000 раз.
3. Запишите наименьшее пятизначное число.
4. Сколько цифр в записи числа 775775.
5. Найдите разность чисел 99000 и 88000.
6. Найдите четвёртую часть от числа 960.
7. Найдите три четверти от числа 1000.
8. Выразите 540 мин в часах
9. Выразите 5 м 20 см в миллиметрах.



Проверьте ответы:

13499, 270000, 10000, 2, 11000, 240,750,
9 часов, 5200 мм.

Чем мы будем заниматься на уроке, мы узнаем, если правильно выполним задание.




450 $\xrightarrow{: 9}$ 50 $\xrightarrow{+ 63}$ 113 $\xrightarrow{- 79}$ 34 А

Ч 45 $\xrightarrow{\cdot 10}$ 450 $\xrightarrow{- 340}$ 110 $\xrightarrow{\cdot 9}$ 990 3

А 621 $\xrightarrow{: 3}$ 207 $\xrightarrow{+ 143}$ 450 $\xrightarrow{: 5}$ 90 А

Д 330 $\xrightarrow{: 11}$ 30 $\xrightarrow{\cdot 8}$ 240 $\xrightarrow{+ 210}$ 450



Расположите ответы в порядке возрастания

а ч а д а з

з а д а ч а



Занимательные задачи




1. Два землекопа за 2 часа выкапывают 2 м канавы. Сколько землекопов за 5 часов выкопают 5 м канавы?
2. Журавли летели клином. 4 журавля по одной стороне клина и 4 журавля по другой стороне клина. Сколько было журавлей?
3. Дима моет 4 тарелки за то же время, что и 6 чашек. Что он моет быстрее – тарелку или чашку?
4. Сколько существует трёхзначных чисел?



Решите задачи:

1. Белый медведь проплыл 200 км со скоростью 5 км/ч. Сколько часов плыл белый медведь?
2. Петя читал книгу со скоростью 20 страниц в день. Через сколько дней он прочитал всю книгу, если в ней 200 страниц?
3. Рыба-меч развивает скорость 30 м/с. За сколько секунд рыба проплывёт расстояние 1 км 500 м?
4. Ветер дует со скоростью 25 м/с. За сколько секунд он утащит воздушный шар на 200 м?



ИСПОЛЬЗУЕМЫЕ МАТЕРИАЛЫ:

1. Дмитриева О.И. «Поурочные разработки по математике. 4 класс», Москва «ВАКО», 2006.
2. Самсонова Л.Ю. «Устный счёт. Сборник упражнений к учебнику М.И. Моро, С.И. Волковой, С.В. Степановой» Москва «Экзамен», 2009.
3. М.И Моро Математика 3 класс, Часть 2. Учебник, Издательство «Просвещение», 2009 год.
4. Фон для презентации - <http://www.pomochnik-vsem.ru>

