

Окружающий мир

2 класс




УМК «Школа России»

Автор работы:
учитель начальных классов
МОУ «СОШ ст. Евсино»
Фокина Лидия Петровна

2011 год

Тест по теме
«Для чего нужен
компас?»

Инструкция:

1. Прочитай внимательно вопрос.
2. Прочитай внимательно все ответы. Помни, что ответов может быть несколько.
3. Выбери  ,  ,  , соответствующую (или фигуры) , , , соответствующую вашему ответу.
4. Нарисуй на своём контрольном листе.

1. Найди группу, в которой правильно названы стороны горизонта.

- △ север, запад, юго-восток
- северо-запад, северо-восток, юго-запад
- юг, запад, восток

2. Для чего нужен компас?

- Для того, чтобы находить дорогу.
- Для того, чтобы определять стороны горизонта.
- Для того, чтобы не заблудиться.

3. С какой буквой должен совпадать синий конец стрелки?

△ С

□ Ю

○ З

4. С какой стороны чаще растут мхи и лишайники?

на севере

на северо-западе

на востоке

5. Предметы из какого материала влияют на точность показаний компаса?

- из дерева
- из металла
- из камня

6. Человеку какой профессии необходим компас?

- лётчику
- инженеру
- агроному

7. В какой стране изобрели компас?

- в Индии
- в Америке
- в Китае


8. Представь, что ты пошёл в лес за грибами. Твой путь шёл на запад. В каком направлении ты должен вернуться?



на север



на юг



на восток

9. На какой стороне склона снег весной тает быстрее?

на севере

на юге

на западе


10. С какой стороны кора берёзы белее и чище?



на севере










на востоке



на юге

Ключ к ответам



Используемые источники:

Тихомирова Е. М. Тесты по предмету «Окружающий мир»: 2 класс. М.:
Издательство «Экзамен», 2007

Автор работы:
Фокина Лидия Петровна
FokinaLida.75@mail.ru