

**Проверочный тест по  
окружающему миру  
за 1 четверть  
3 класс.**

**Программа «Начальная школа XXI века»**

**Учитель:  
Форсова  
Елена Вячеславовна**

**МБОУ «Лицей №24 имени героя Советского Союза А. В.  
Корявина»**

**1. Выбери правильный ответ:**

- А) 1677г. – 16век;
- Б) 1110г. – 12век;
- В) 1344г. – 13век;



**2. Каких тел не существует в природе?**

- А) искусственные;
- Б) естественные;
- В) пластмассовые;

**3. Как называется материк на котором мы живём?**

- А) Евразия;
- Б) Антарктида;
- В) Австралия;

**4. Солнце, это –**

- А) планета;
- Б) звезда;
- В) спутник Земли;

**5. Найди верное утверждение:**

- А) Солнце вращается вокруг Земли;
- Б) Земля вращается вокруг Солнца;

**6. Полный оборот вокруг своей оси Земля делает:**

- А) за сутки;
- Б) за год;



**7. Полный оборот вокруг Солнца Земля делает:**


- А) за сутки;
- Б) за год;

**8. Сколько планет в Солнечной системе?**

- А) 7;
- Б) 9;
- В) 8;

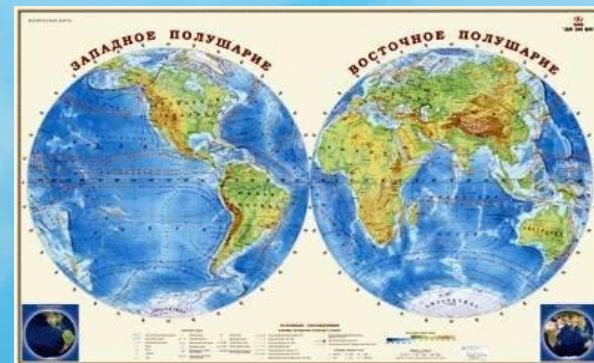
**9. Какой учёный доказал, что Земля –это одна из планет, и что все планеты обращаются вокруг Солнца?**

- А) Николай Коперник;
- Б) Антони ван Левенгук;
- В) Михаил Ломоносов;



## 10. Сколько существует сторон горизонта?

- А) 5;
- Б) 4;
- В) 3;



## 11. В какой части плана местности находятся объекты, расположенные на юге?

- А) слева;
- Б) вверху;
- В) внизу;
- Г) справа;




## 12. К телам живой природы не относятся:

- А) животные;
- Б) явления природы;
- В) человек;

### **13. Необходимые условия жизни на земле:**

- А) свет и тепло;
- Б) свет, тепло и вода;
- В) свет, тепло, воздух и вода;



### **14. Глобус – это:**

- А) модель Земли;
- Б) изображённая на плоскости поверхность Земли;
- В) небольшой участок земной поверхности;

### **15. Выбери правильный ответ:**

- А) Царства природы – растения и животные;
- Б) Царства природы – растения, животные, грибы, бактерии;

**16. В каком ряду правильно перечислены группы растений:**

- А) водоросли, мхи и лишайники;
- Б) хвойные, лиственные, папоротники, цветковые;
- В) папоротники, мхи, хвойные, водоросли, цветковые;



**17. Отметь опасные растения:**

- А) бузина, волчье лыко, вороний глаз, земляника;
- Б) вороний глаз, волчье лыко, белена

