


## ***Разрешен ли Вам съезд на дорогу с грунтовым покрытием?***

1. Разрешен.
2. Разрешен только при технической неисправности транспортного средства.
3. Запрещен.



**На каком расстоянии до неровного участка дороги устанавливается этот знак вне населенного пункта?**

1. 150-300 м.
2. 50-100 м.
3. Непосредственно перед неровным участком дороги.



## ***Этот дорожный знак предупреждает:***

1. О приближении к скользкому участку дороги.
2. О приближении к мокрому или загрязненному участку дороги.
3. О приближении к участку дороги, где возможен выброс гравия (щебня) из-под колес.




***Этот знак предупреждает о приближении к перекрестку, на котором Вы:***

1. Имеете право преимущественного проезда.
2. Должны уступить дорогу всем транспортным средствам, движущимся по пересекаемой дороге.
3. Должны уступить дорогу только транспортным средствам, приближающимся справа.



## ***Данный дорожный знак:***

1. Предупреждает Вас о приближении к месту пересечения с трамвайной линией.
2. Предупреждает Вас о приближении к трамвайной остановке.
3. Обязывает Вас остановиться непосредственно перед пересечением с трамвайной линией.



## ***Эти знаки предупреждают Вас:***

1. О приближении к железнодорожному переезду с тремя путями.
2. О наличии через 150-300 м железнодорожного переезда без шлагбаума.
3. О наличии через 50-100 м железнодорожного переезда.



**Какие из указанных знаков используются для обозначения границ искусственной неровности?**

1. Только А.
2. Только Б.
3. Б и В.



**А**



**Б**



**В**

**На каком расстоянии до скользкого участка дороги устанавливается данный знак в населенном пункте?**

1. 150-300 м.
2. 50-100 м.
3. Непосредственно перед началом скользкого участка.





**Какие из указанных знаков устанавливают непосредственно перед железнодорожным переездом?**

1. Только А.
2. Только Б.
3. Только В.
4. А и В.




## **Данные знаки предупреждают о приближении:**

1. К месту производства работ на дороге.
2. К железнодорожному переезду со шлагбаумом.
3. К железнодорожному переезду без шлагбаума.



***Этот знак предупреждает о приближении к тоннелю, в котором:***

1. Будет затруднен разъезд со встречными транспортными средствами.
2. Отсутствует искусственное освещение.
3. Очередность движения регулируется светофором.



что называется разрешенной максимальной массой  
транспортного средства?

1. Максимально допустимая для перевозки масса груза, установленная предприятием-изготовителем

2. Масса снаряженного транспортного средства без учета массы водителя, пассажиров и груза, установленная предприятием-изготовителем

3. Масса снаряженного транспортного средства с грузом, водителем и пассажирами, установленная предприятием-изготовителем в качестве максимально допустимой

Какой неподвижный объект, не позволяющий продолжить движение по полосе, не относится к понятию «Препятствие»?

1. Дефект проезжей части
2. Посторонний предмет
3. Неисправное или повреждённое транспортное средство
4. Транспортное средство, остановившееся на этой полосе из-за образования затора

Какие транспортные средства по Правилам относятся к маршрутным транспортным средствам?

1) Все автобусы.

2) Автобусы, троллейбусы и трамваи, предназначенные для перевозки людей и движущиеся по установленному маршруту с обозначенными местами остановок.

3) Любые транспортные средства, перевозящие пассажиров.

## Где начинают действовать требования Правил, относящиеся к населенным пунктам?

1. Только с места установки дорожного знака с названием населенного пункта на белом фоне.
2. С места установки дорожного знака с названием населенного пункта на белом или синем фоне.
3. В начале застроенной территории, непосредственно прилегающей к дороге.

Какие знаки информируют Вас, что на данной дороге действуют требования Правил, устанавливающие порядок движения в населённых пунктах?

1) Только А.

2) Только А и Б.

3) Все.



А



Б



В





## В каком случае водитель совершит вынужденную остановку?

1. Остановившись непосредственно перед пешеходным переходом, чтобы уступить дорогу пешеходу.
2. Остановившись на проезжей части из-за технической неисправности транспортного средства.
3. В обоих перечисленных случаях.

С какой максимальной скоростью Вы имеете право продолжить движение на легковом автомобиле?

1. 60 км/ч
2. 70 км/ч
3. 90 км/ч
4. 110 км/ч



## Что означает термин «Ограниченная видимость»?

1. Видимость водителем дороги, ограниченная рельефом местности, геометрическими параметрами дороги, растительностью, строениями, сооружениями или другими объектами
2. Видимость водителем дороги менее 300 м в условиях тумана, дождя, снегопада, а также в сумерки
3. Видимость водителем дороги менее 150 м в ночное время
4. Видимость водителем дороги во всех перечисленных случаях

## Что означает требование уступить дорогу?

1. Вы должны остановиться только при наличии дорожного знака «Уступите дорогу»
2. Вы должны обязательно остановиться, чтобы пропустить других участников движения
3. Вы не должны начинать, возобновлять или продолжать движение, осуществлять какой-либо маневр, если это может вынудить других участников движения, имеющих по отношению к Вам преимущество, изменить направление движения или скорость

## Что означает термин «Недостаточная видимость»?

1. Видимость дороги менее 100 м вблизи опасных поворотов и переломов продольного профиля дороги
2. Видимость дороги менее 150 м в ночное время
3. Видимость дороги менее 300 м в условиях тумана, дождя, снегопада и т. п., а также в сумерки.

Разрешено ли Вам пересекать двойную сплошную линию продольной разметки?

1. Разрешается только при въезде из дворов и других прилегающих территорий
2. Разрешается только при обгоне
3. Разрешается только при интенсивном движении
4. Не разрешается

## Что означают прерывистые линии разметки в данной ситуации?

1. Места, где разрешено движение по обочине.
2. Места, где разрешен съезд на обочину только для остановки.
3. Край проезжей части на двухполосных дорогах.



Какой маневр намеревается выполнить  
водитель легкового автомобиля?

1. Обгон
2. Перестроение с дальнейшим опережением
3. Объезд





Сколько проезжих частей имеет данная дорога?

1.Одну

2.Две

3.Четыре



В каких случаях допускается движение автомобилей по тротуарам или пешеходным дорожкам?

1. В любых, если не будут созданы помехи пешеходам.

2. Только если Вы обслуживаете торговые или другие предприятия, расположенные непосредственно у этих тротуаров или дорожек при отсутствии других возможностей подъезда.

Сколько полос для движения имеет проезжая часть  
данной дороги?

1. Одну полосу
2. Две полосы
3. Три полосы



В каком из указанных мест Вы можете пересечь сплошную линию разметки и остановиться?

1. Только Б
2. В любом
3. Ни в одном



Являются ли тротуары и обочины частью  
дороги?

1. Являются
2. Являются только обочины
3. Не являются

Сколько пересечений проезжих частей имеет этот перекрёсток?

1. Одно
2. Два
3. Четыре



## ***Выезжая с грунтовой дороги на перекресток, Вы попадаете:***

1. На главную дорогу.
2. На равнозначную дорогу, поскольку отсутствуют знаки приоритета.
3. На равнозначную дорогу, поскольку проезжая часть имеет твердое покрытие перед перекрестком.



**Какие из указанных знаков требуют обязательной остановки?**

1. Только А.
2. Только Б.
3. Б и В.
4. Все.



**А**



**Б**



**В**



**Г**




## **Где Вы должны остановиться?**

1. Перед знаком (А).
2. Перед перекрестком (Б).
3. Перед краем пересекаемой проезжей части (В).



## **Этот знак:**

1. Предупреждает Вас о наличии узкого участка дороги, но не устанавливает очередность движения.
2. Запрещает Вам проезд через мост.
3. Обязывает Вас уступить дорогу встречному транспортному средству.



## ***Можно ли Вам въехать на мост первым?***

1. Можно.
2. Можно, если Вы не затрудните движение встречному автомобилю.
3. Нельзя.



**Какие из указанных знаков информируют о том, что на перекрестке необходимо уступить дорогу транспортным средствам, приближающимся слева?**

1. Только А.
2. Только Б.
3. А и Б.
4. Все.



**А**



**Б**



**В**

## ***Главной на перекрестке является:***

1. Дорога с твердым покрытием по отношению к грунтовой дороге.
2. Дорога с асфальтобетонным покрытием по отношению к дороге, покрытой брусчаткой.
3. Дорога с тремя или более полосами движения по отношению к дороге с двумя полосами.

**Какие из указанных знаков предоставляют право преимущественного проезда нерегулируемых перекрестков?**

1. Только А.
2. А и В.
3. Все.



**А**



**Б**



**В**

***Этот знак предупреждает о приближении к перекрестку, на котором Вы:***

1. Имеете право преимущественного проезда.
2. Должны уступить дорогу всем транспортным средствам, движущимся по пересекаемой дороге.
3. Должны уступить дорогу только транспортным средствам, приближающимся справа.



Сколько проезжих частей имеет данная дорога?

1. Одну
2. Две
3. Четыре





## ***Главная дорога показана:***

1. Только на левом верхнем рисунке.
2. На левом верхнем и нижнем рисунках.
3. На всех рисунках.



**Разрешается ли Вам въехать на мост одновременно с водителем мотоцикла?**

1. Разрешается.
2. Разрешается, если Вы не затрудните ему движение.
3. Запрещается.



Сколько пересечений проезжих частей имеет этот перекрёсток?

1. Одно
2. Два
3. Четыре

