



Игра Самый умный

Проект сделала:
Валиева Регина

Цель моего проекта:

- развивать познавательный интерес, логическое мышление.

Задачи:

- 1. Найти и подготовить вопросы.
- 2. Вопросы оформить в презентации.
- 3. Представить свой проект перед 4 классами.

Русский язык	<u>1</u>	<u>2</u>	<u>3</u>	<u>4</u>	<u>5</u>
Литература	<u>1</u>	<u>2</u>	<u>3</u>	<u>4</u>	<u>5(7)</u>
Математика	<u>1</u>	<u>2</u>	<u>3(4)</u>	<u>4</u>	<u>5</u>
Окружающий мир	<u>1</u>	<u>2</u>	<u>3(4)</u>	<u>4</u>	<u>5</u>
Общие вопросы	<u>1</u>	<u>2</u>	<u>3</u>	<u>4</u>	<u>5</u>



• Как называются элементы русского языка, которые слышатся, но не видятся?

А) Буквы

Б) Звуки





Не верно



BEPHO




• Сколько букв было в российском алфавите в начале XIX века?

A) 32

Б) 34

В) 36



• При помощи какой части слова связываются все слова в предложении?

А) Окончание

Б) Приставка

В) Суффикс

Г) Нет такой части слова; нет правильного ответа



Разобрать слово «кувшинка» по составу

(кувшин – корень, к – суффикс, а – окончание)



Монолог – это..., диалог – это...

(монолог – речь одного человека,
диалог – разговор двух и более лиц)



Автор сказки «Репка»?

- А) Народная сказка
- Б) А.С.Пушкин




Кто украл
Дюймовочку?

- А) Крот
- Б) Жаба
- В) Жук



Автор сказки «Принцесса на горошине»?

- А) А.С.Пушкин
- Б) Братья Гримм
- В) Шарль Перро
- Г) Г.Х.Андерсен



Сестрица бегала, играла
Да и братца потеряла.
Как же быть? Куда бежать?
Где же братца отыскать?
В глухом лесу, в ветхой избушке
У яги, у злой старушки.
Друзья детям помогли,
Вернулись в дом родной они.

(«Гуси – лебеди», русская народная сказка.)



Составить из слогов и букв название сказки. (5)
Если скажите автора этой сказки + 2 балла
ВО МЕ ЛЯТ ЛК РО И КОЗ СЕ

Название сказки «Волк и семеро козлят»
Автор сказки Братья Гримм




Один мастер изготовил 6 ниток бус, по 38 бусинок в каждой, а другой — 7 ниток бус, по 36 бусинок в каждой. Какой мастер использовал больше бусинок и на сколько?

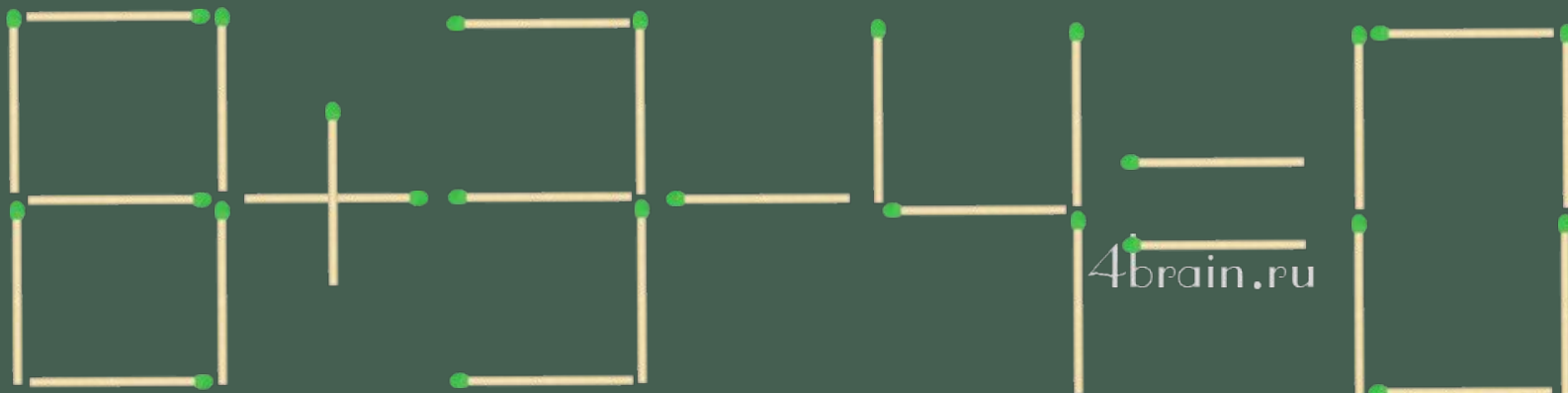
•Решение:

1) $6 * 38 = 228$ (бусинки использовал 1 мастер)

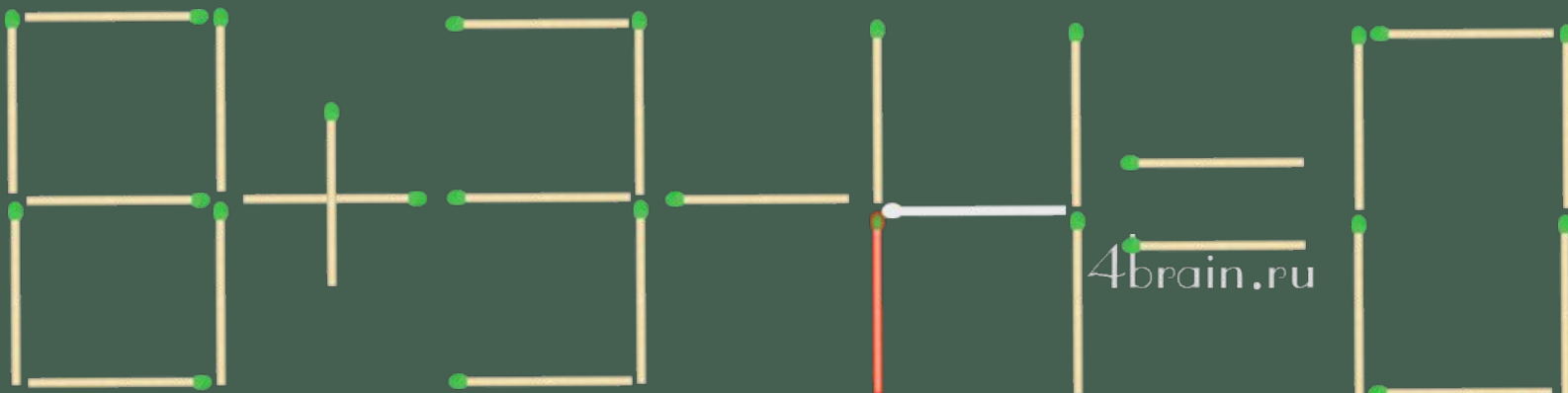
•2) $7 * 36 = 252$ (бусинки использовал 2 мастер)

•3) $252 - 228 = 24$





4brain.ru



4brain.ru

Задание. Нужно переместить только одну спичку в выложенном спичками арифметическом примере « $8+3-4=0$ » так, чтобы получилось верное равенство (можно менять и знаки, цифры).



- 1) Вычисли периметр и площадь прямоугольника со сторонами 2 см и 4 см.
- 2) Найди длину стороны квадрата, периметр которого равен периметру прямоугольника в задании 1).

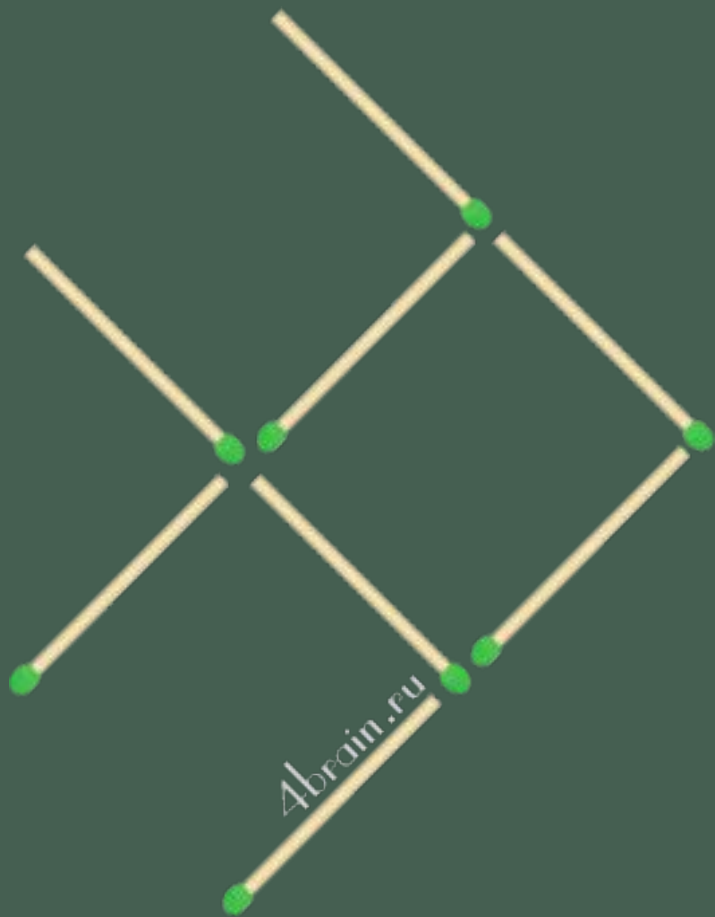
•Решение:

1) $2 + 2 + 4 + 4 = 12$ см (периметр
прямоугольника)

• $2 * 4 = 8$ квадратных сантиметров
(площадь прямоугольника)

•2) $12 : 4 = 3$ (длина стороны квадрата)





Задание. Переставьте три спички так, чтобы рыбка поплыла в обратном направлении. Другими словами, нужно повернуть рыбу на 180 градусов по горизонтали.



С одного поля собрали 1 т 800 кг картофеля, а с другого — в 3 раза меньше. Весь картофель разложили в мешки, по 40 кг в каждый. Сколько мешков с картофелем получили?

- Решение:
 - 1) $1800 : 3 = 600$ (со второго поля)
 - 2) $1800 + 600 = 2400$ (всего собрали картофеля)
 - 3) $2400 : 40 = 60$ (мешков с картофелем получили)
- Ответ: 60 мешков.



Какая кошка самая большая?

А) Амурский тигр

Б) Лев



Какой континент на треть состоит из пустынь?

- А) Антарктида
- Б) Австралия
- В) Африка



Назови каждую группу обобщённым понятием

Анды, Альпы, Большой Кавказ, Гималаи _____

Гренландия, Исландия, Кипр, Крит, Тасмания _____

Гоби, Каракумы, Калахари, Кызылкум, Сахара. _____

Баренцево, Берингово, Карское, Охотское, Японское. _____

Горы



Остров

Пустыня

Море



Что за птица изображена
на картинках?



XO



,

K



, A

Λ



Б



,



,

Ы=0




Ребята измеряли шагами длину игровой площадки. У Лизы получилось 25 шагов, у Полины – 27, у Максима – 22, а у Юры – 24.

У кого из ребят самый короткий шаг?

У Полины





Карта



Вы заходите в темную комнату
Со спичками в руках.
В комнате есть свеча, лампа, печка.
Что вы зажжете в первую очередь?

Спички



Верите ли вы, что:

У золотой рыбки память 3 секунды.

Жираф может обходиться без воды дольше, чем верблюд.

Муравьи не спят.


Бабочки пробуют пищу на вкус лапками.

Дельфины спят с одним открытым глазом.

Крупнейшие хищники в мире – белые медведи.

Везде ответы «Да»





Мороз



Спасибо за игру!