

# Запись трехзначных чисел.

Учитель начальных классов  
Новолакской СОШ №1  
Сайдаева Товсият Саидовна

Цель: познакомить с десятичным

- составом трехзначных чисел;
- учить записывать трехзначные
- числа; закреплять вычисли-
- тельные навыки, умение решать
- задачи изученных видов.
-

# Индивидуальная работа

□ 35 мм =  см  мм

□

□ 53 дм =  м  дм

□ 71 см =  дм  см

□ 86 мм =  см  мм

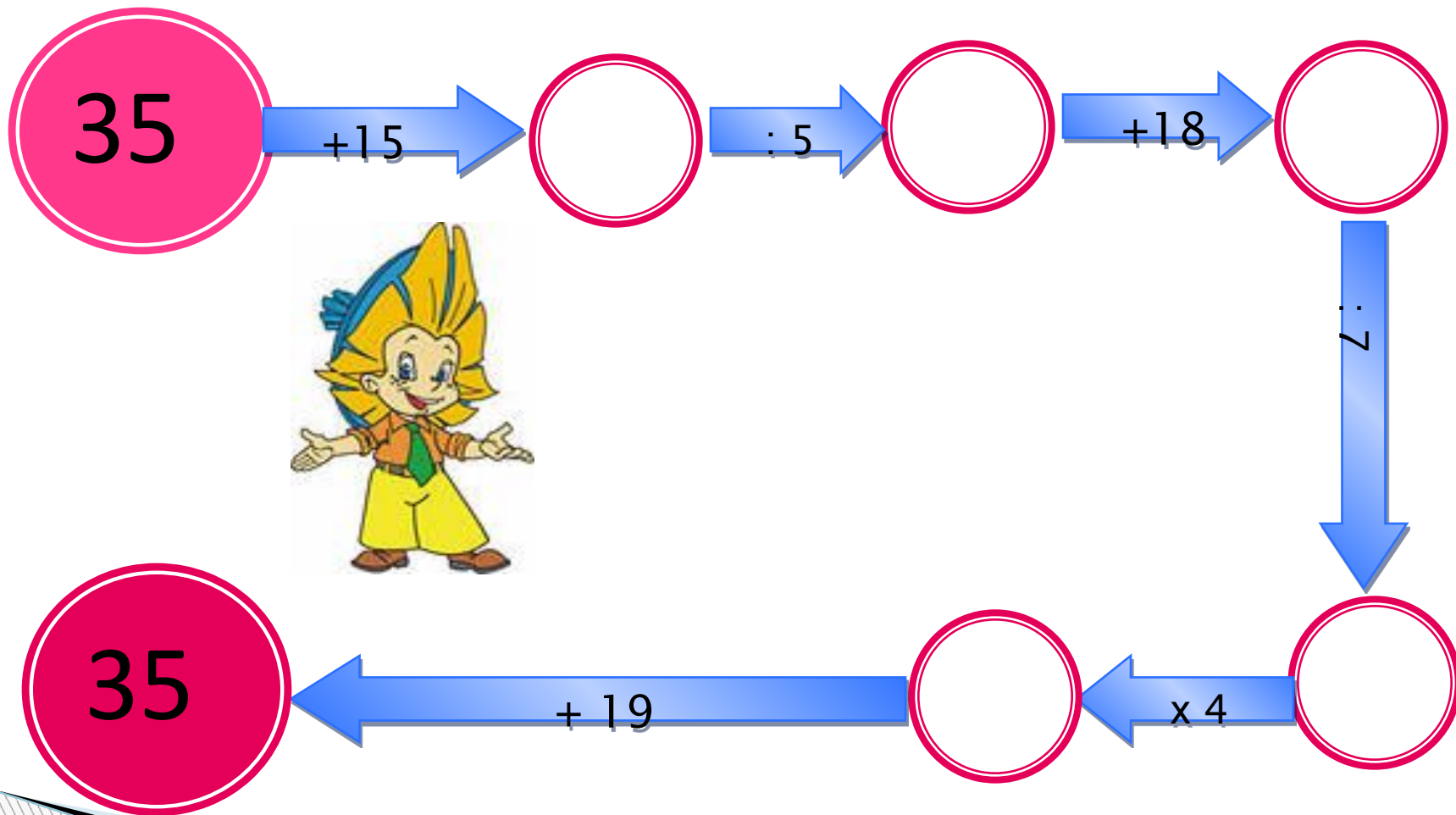
3 см 5 мм

5 м 3 дм

7 дм 1 см

8 см 6 мм

# Цепочка



# Набери множителями



$$6 \times 2 \times 8 = 96$$

$$3 \times 2 \times 16 = 96$$

$$12 \times 2 \times 4 = 96$$

# Запишите числа

- 7 единиц
- 6 десятков и 3 единицы
- 5 десятков
- 9 десятков 7 единиц
- 4 единиц
- 2 десятка
- 6 сотен 3 десятка 4 единицы

7

63

50

97

4

20

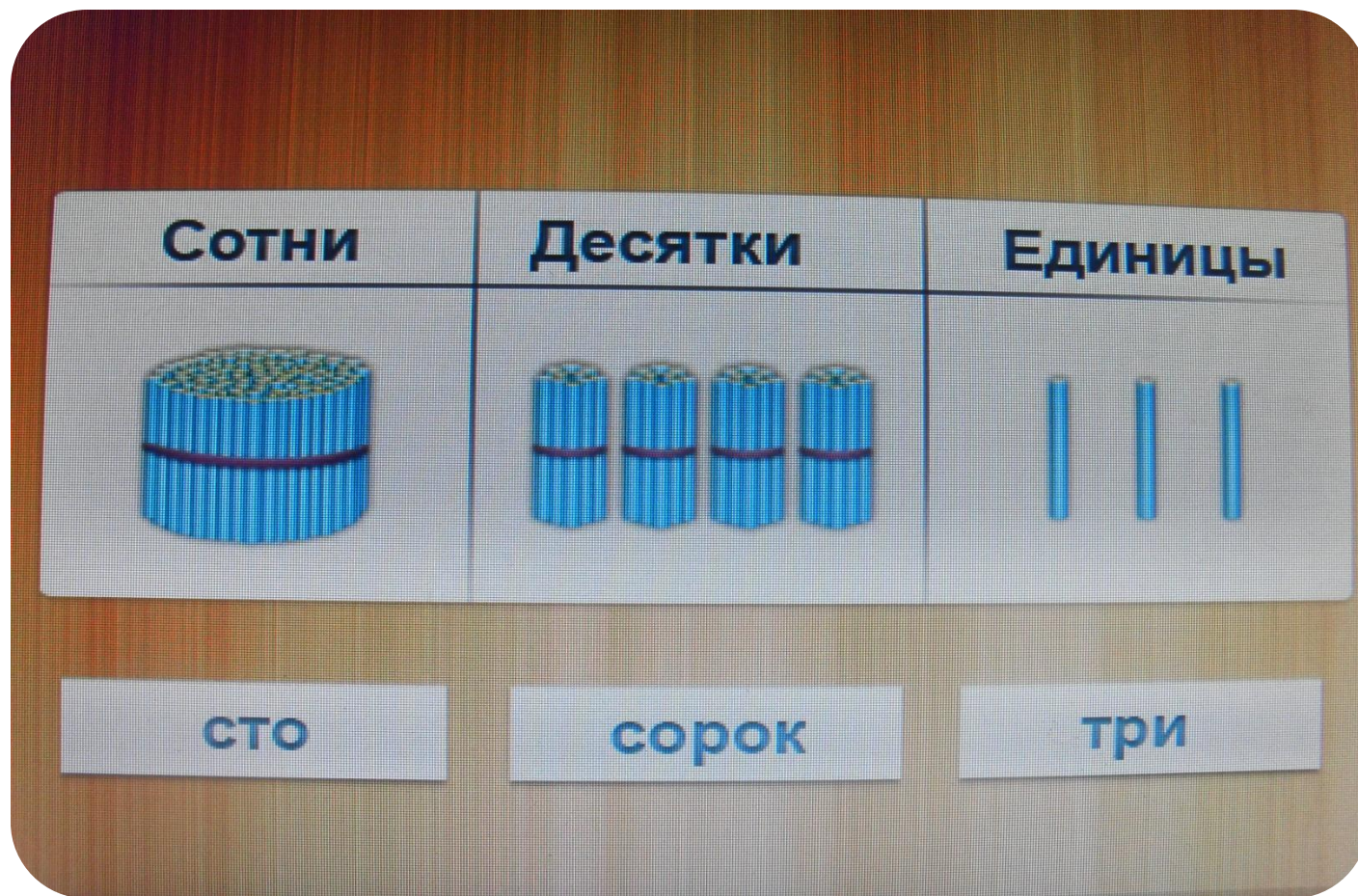
634

# Объяснение темы урока

1 десяток = 10 единиц  
10 десятков = 100 единиц  
100 десятков = 1000 единиц



# Нумерационная таблица



сорок

три



# Единицы, десятки, сотни.



1 единица



1 дес. = 10 ед.




1 сот. = 10 дес.


1 тыс. = 10 сот.

↓ 1 тыс. = 10 сот.


# Запись двузначного числа




# Запись трехзначного числа




# Цифра «2»-две единицы первого разряда



# Цифра «4»-четыре единицы второго разряда




**Цифра «1»-одна единица  
третьего разряда.**



**В записи числа 102, цифра нуль обозначает отсутствие десятков, т.е. единиц второго разряда.**



# Трехзначные числа



201

108



# Прочитай и запиши числа

- 2 сот. 8 дес. 3 ед.;
  - 5 сот. 0 дес. 1 ед.;
  - 4 сот. 6 дес. 0 ед.;
  - 7 сот. 0 дес. 0 ед.;
  - 9 сот. 3 дес. 4 ед.
- Взаимопроверка учащихся.



283

501

460

700

934

# Решение задачи №6 стр. 45.

- В детском саду за 6 дней расходуют 72кг. картофеля. За сколько дней израсходуют
- 60 кг. Картофеля при той же норме?

6 дней	72 кг
? дней	60 кг



1)  $72:6=12$ (кг)-расход в день

2)  $60:12=5$ (дн.).

Ответ: 60кг. Картофеля израсходуют за 5 дней.

# Вставь пропущенные числа

$$125\text{ см} = \square \text{ м } \square \text{ дм } \square \text{ см}$$

$$540\text{ см} = \square \text{ м } \square \text{ дм}$$

$$86\text{ мм} = \square \text{ см } \square \text{ мм}$$

$$42\text{ дм} = \square \text{ м } \square \text{ дм}$$



1 м 2 дм

5 см

5 м 4 дм

8 см

6 мм

4 см 2 дм

# Запиши числа цифрами

Семьсот сорок три		743
Восемьсот восемь		808
Семьсот тридцать		730
Шестьсот шесть		606
Семьсот три		703
Пятьсот семнадцать		517
Девяносто девять		99
Триста		300
Восемьсот восемьдесят		880
Триста сорок семь		347

# Задание №9 стр. 45

$$80 - 40 : (5 + 35)$$

□  $57 - 27 : 3 + 24$

□  $60 : 3 + 2 \times 6$

□  $60 : (3 + 2) \times 6$

□  $(49 - 42) : 7$

□  $(54 - 24) : 6$



79

72

32

72

1

5

# Соотнеси стрелкой

- |                           |     |
|---------------------------|-----|
| ▣ Триста сорок два        | 114 |
| ▣ Восемьсот двенадцать    | 324 |
| ▣ Сто четырнадцать        | 821 |
| ▣ Триста двадцать четыре  | 342 |
| ▣ Восемьсот двадцать один | 812 |

# Дом. задание

□ №9 стр.45




myJulio.Ru

**СПАСИБО**

**ЗА**

**ВНИМАНИЕ!**





- При составлении урока был использован учебник математики М.И.Моро, М.А.Бантова и фотографии.

<http://im6-tub-ru.yandex.net/i?id=57409293-68-72&n=21>

<http://im1-tub-ru.yandex.net/i?id=179329978-48-72&n=21>

<http://im6-tub-ru.yandex.net/i?id=512816841-04-72&n=21>

<http://im3-tub-ru.yandex.net/i?id=412478457-62-72&n=21>

<http://im7-tub-ru.yandex.net/i?id=546509931-46-72&n=21>

<http://im3-tub-ru.yandex.net/i?id=736557901-42-72&n=21>

<http://im6-tub-ru.yandex.net/i?id=211226237-53-72&n=21>

<http://im2-tub-ru.yandex.net/i?id=241180658-63-72&n=21>