



# Числовой луч

## Графический диктант 5 класс



Учитель математики Коптева Е.М.

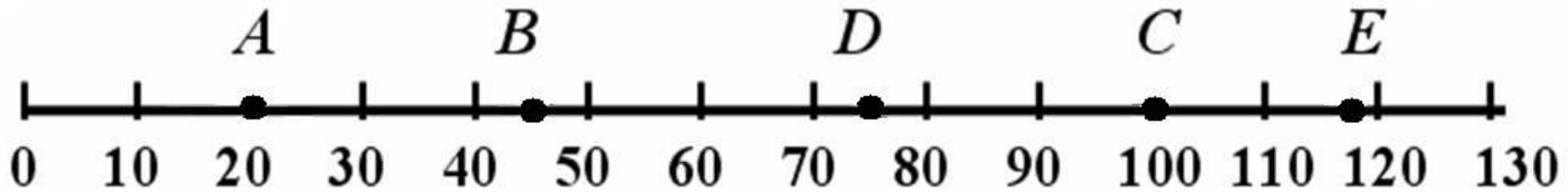



МОУ «Пустошинская СОШ»

Приморский район

Архангельская область

2010

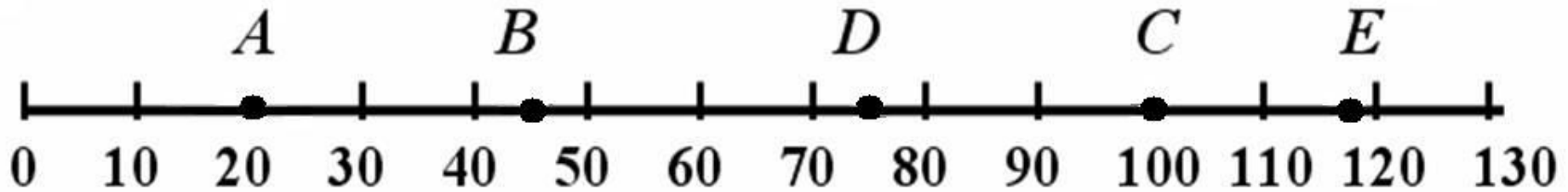



Верно ли, что ...



- 1) На рисунке изображен числовой луч;
- 2) 0 - начало отсчета;
- 3) единичный отрезок равен 1 см;



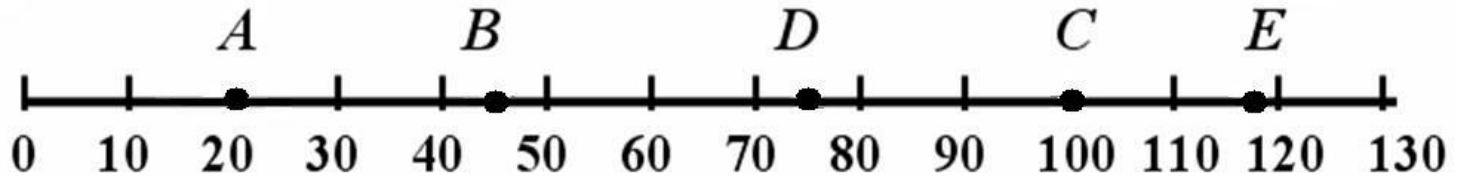
Верно ли, что ...



- 4)  $A(20)$ ;
- 5)  $B(40)$ ;
- 6)  $C(100)$ ;
- 7)  $D(75)$ ;
- 8)  $E(118)$ .



# Проверьте себя



- 1) На рисунке изображен числовой луч;
- 2)  $O$  - начало отсчета;
- 3) единичный отрезок равен 1 см;
- 4)  $A(20)$ ;
- 5)  $B(40)$ ;
- 6)  $C(100)$ ;
- 7)  $D(75)$ ;
- 8)  $E(118)$ .



# Ресурсы



- В. Тарасова. Графические диктанты. Газета «Математика» № 47 – 2001
- ©«Одиссей», 2008. greenstreet®