

Решение задач



17 28 56 60 102 204 500 14 308

?



XVI

I XIV Увеличить в два
LX раза

СII

XXXIV СХХ

ССIV ХХVIII



Стр.2

Он не тучка, а медведь.
Очень любит песни петь.
И еще, как говорится,
Рад он медом
подкре



Под соснами, под
елками
Лежит мешок с
иголками.

Серый, да не волк,
Длинноухий, да не заяц,
С копытами, да не
лошадь.



	скорост ь	врем я	расстояни е
П	30 м\мин	9 мин	?]
С	40 м\мин	9 мин	?] ?

Проверим ответ в задаче

540

м

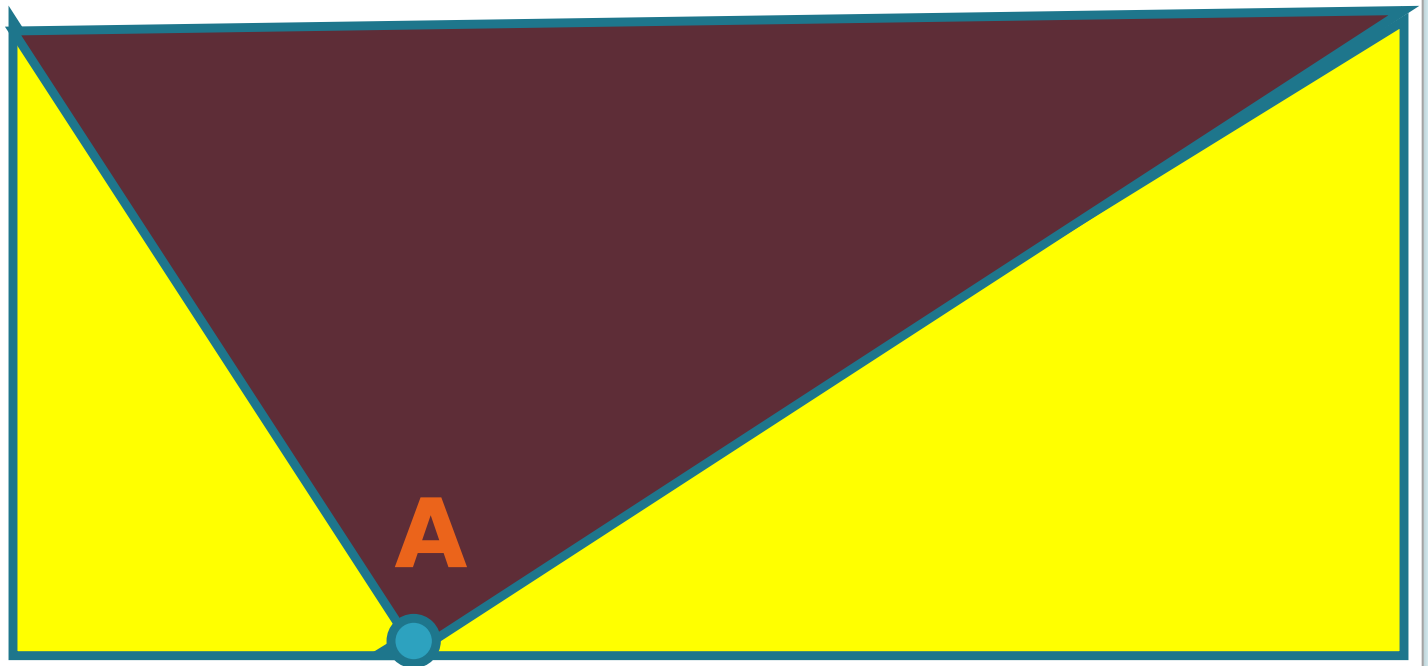
630

м

730

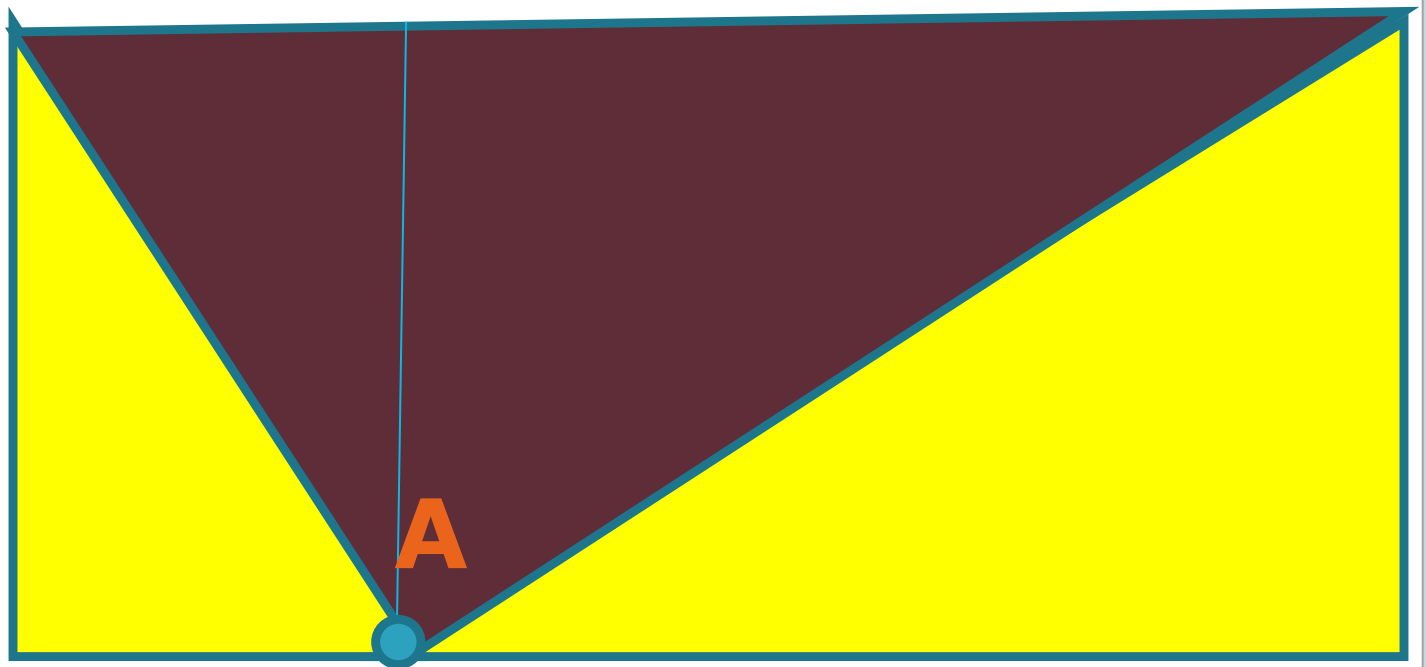
м

Проведём линию внутри фигуры
через точку **A** и разделим её
на два прямоу...(?)



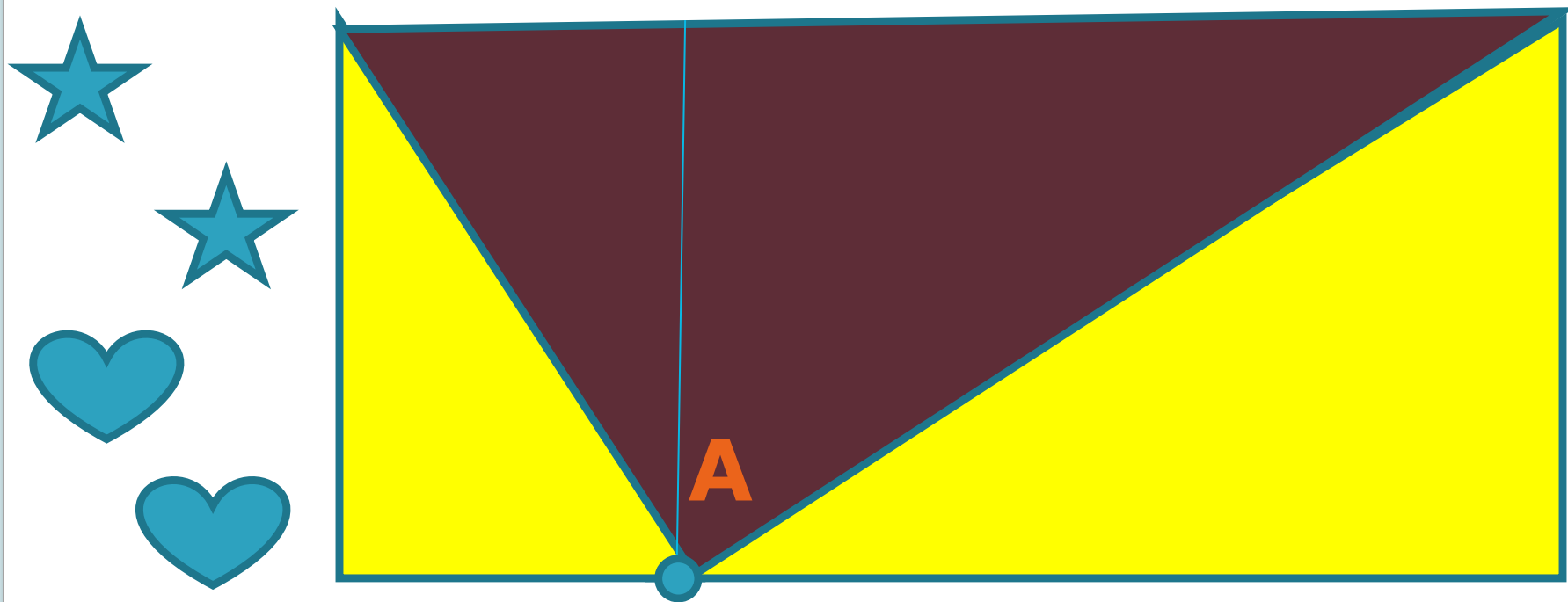
Сколько получилось треугольников?

Есть среди них одинаковые по **размеру**?



Пометим одинаковыми значками фигуры, одинаковые по **РАЗМЕРУ**.

Жёлтые цветы занимают площадь 5 кв.м



Какую площадь занимают фиолетовые цветы ?

Какую площадь занимает вся клумба?

**Спасибо за
внимание!**

