

**Интегрированный урок
математики и окружающего
мира, 4 класс**


Учитель МОУ «Троицкая СОШ №5»

Талицкого района, Свердловской области


Демешкина Татьяна Ивановна

Квадрат успеха

| | | |
|--|--|--|
| | | |
| | | |
| | | |



**Выполнил
задание
правильно**



**Выполнил
задание, но
допустил
ошибку**



**Не
выполнил
задание**

Единицы

времени

Задача

Периметр

Сравни

Физкульт-
минутка

Единицы
длины

Уравнения

Числовые
выражения

Площадь



Самая маленькая летучая мышь



30 мм

20 мм

50 мм

60 мин =ч

2 сут =ч

1800 сек = ...мин

летучая мышь -

шмель



Самое крупное животное на Земле



150 m

160 m

170 m

900 – 139 x 4 - 84

самка синего кита



Долгожитель



**африканский
слон**

50 лет 60 70
лет Задача лет

В киоск привезли 63кг яблок, это в 9 раз больше, чем груш. Сколько всего килограммов фруктов привезли в киоск?



Самый большой размах крыльев



27 см

28 см

30 см

Задача

Найти периметр
прямоугольника,
если длина его стороны 10
см,

а ширина на 6 см меньше.

птицекрыл королевы

Александр



физкультминутка



Самое тяжёлое насекомое



50г

100г

200г

$$620 + X = 720$$

жук голиаф



Самая быстрая змея



25 км \ ч

15 км \ ч

10 км \ ч

Задача

Найди площадь квадрата со
стороной 5 см.

чёрная
мамба



Самые крупные рептилии



морские
крокодилы



3М


4М

5 М

$$8.263 \text{ м} = \dots \text{км} \dots \text{м}$$

$$9 \text{ дм} = \dots \text{см}$$

$$500 \text{ см} = \dots \text{м}$$



Самая крупная черепаха



129кг

159кг

139кг
 $624 : 6 * 963 : 3$

$207 \times 4 * 247 \times 3$

$400 - 241 * 832 - 673$

гигантская
черепаха



Итог урока:

