

Подготовка к итоговой диагностической работе по математике за 2 класс

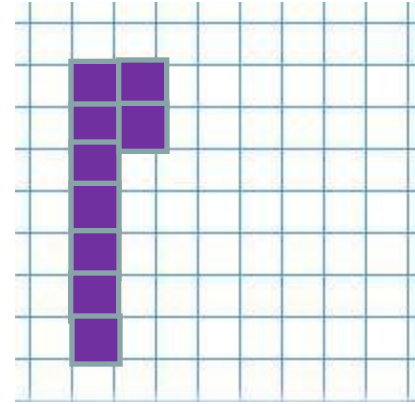
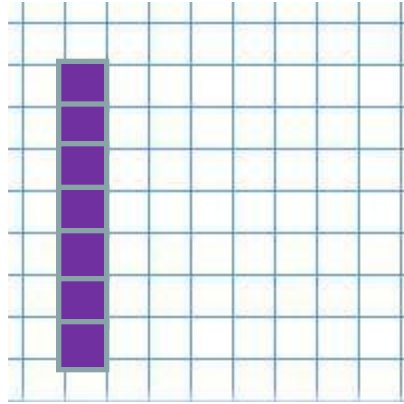
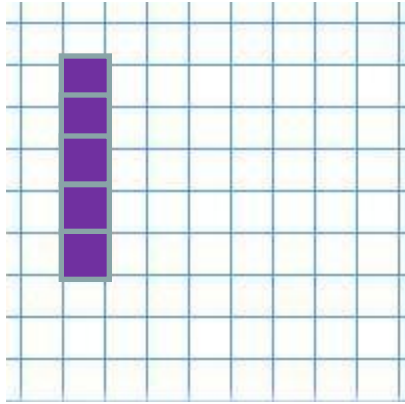


*Луковкина Татьяна Сергеевна,
учитель начальных классов ГБОУ Школа № 1222
им. Маршала И.Х.Баграмяна г. Москвы*


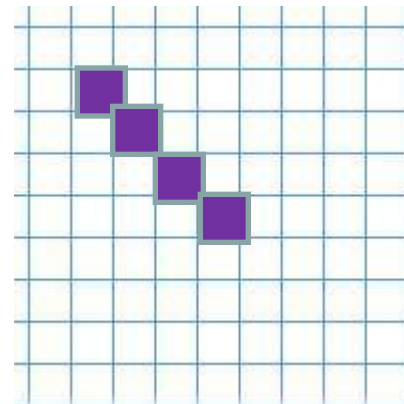
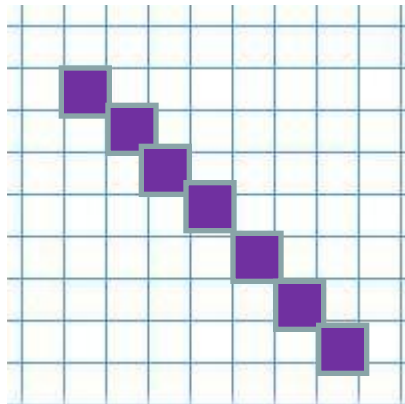


Ученик раскрасил клетки по определённому правилу. Сколько клеток он раскрасил на последнем рисунке?

1)



2)





**Ученики записали величины
5 дм, 5 см, 15 см в порядке возрастания
и получили разные ответы.
Выберите верный ответ**

5 дм, 15 см, 5 см

5 дм, 5 см, 15 см

5 см, 15 см, 5 дм

15 см, 5 см, 5 дм



Диме 14 лет. Серёжа на 4 года моложе. Рост Димы 165 см, Серёжа на 10 см ниже. Дима весит 60 кг, а Серёжа 49 кг.

Используя текст, заполните таблицу числовыми данными

Имя	Возраст	Вес	Рост
Дима	14 лет	60 кг	165 см
Серёжа	10 лет	49 кг	155 см



У двух одноклассниц есть такие деньги.



Всего – 120 рублей



Сможет ли каждая из девочек купить по журналу, если журнал стоит 65 рублей?

$$65+65=130 \text{ (руб.)}$$

Ответ: на 120 рублей 2 журнала по 65 рублей девочки купить не смогут.



Задача

Молоко разлили в бидоны и банки. В каждом бидоне по 25 литров молока, а каждой банке – на 20 литров меньше. Сколько литров молока в шести банках?

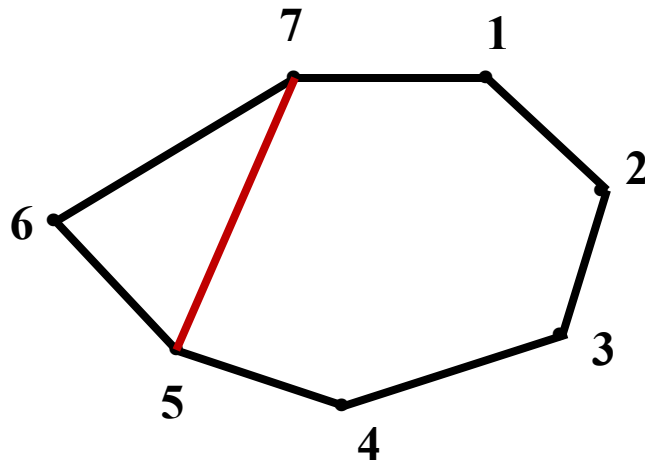
1) $25 - 20 = 5$ (л) - в одной банке

2) $5 \cdot 6 = 30$ (л)

Ответ: в шести банках 30 литров молока.



На этом рисунке Алиса соединила точки 7 и 5.
Какие фигуры она получила?



треугольник

четырёхугольник

пятиугольник

шестиугольник

семиугольник



Числа 28, 18, 81, 38, 8 имеют одно общее свойство. Какое это свойство?

- в записи есть цифра 8
- запись начинается цифрой 8
- запись кончается цифрой 8
- нечётные
- чётные
- двузначные



**Эти книги нужно расставить на 3 полки.
Сколько книг должно быть на каждой полке?**



$$18 : 3 = 6 \text{ (кн.)}$$

Ответ: 6 книг должно быть на каждой полке.



В зале 40 мест. Дети, сидящие на местах с нумерацией, имеющей цифру 4, получили сигнальные флажки. Запишите номера мест, на которых сидели дети с флажками.

4, 14, 24, 34, 40

Выберите все числовые выражения с результатом 4:

$18 : 3 - 2$

$54 - 26$


$100 - (96 + 0)$

$10 \cdot 4 - 36$

$27 - 14 - 5$



Рассмотрите прямоугольник. Он составлен из квадратов длиной 3 см.



Выберите все верные утверждения и отметьте их

- прямоугольник составлен из 3-х квадратов**
- одна сторона прямоугольника равна 4 см**
- если обвести прямоугольник карандашом, то получится линия длиной 24 см**
- длина прямоугольника больше его ширины в 3 раза**
- ширина прямоугольника меньше длины на 5 см**



Решите задачу 2-мя способами

Библиотекарь выдала второклассникам 30 учебников. Из них по русскому языку – 12, по математике – 7, а остальные – по литературе. Сколько учебников по литературе выдала библиотекарь?

1 способ

- 1) $12 + 7 = 19$ (уч.) - по русскому яз. и математике**
- 2) $30 - 19 = 11$ (уч.)**

2 способ

- 1) $30 - 12 = 18$ (уч.) - по математике и литературе**
- 2) $18 - 7 = 11$ (уч.)**

Ответ: 11 учебников по литературе выдала библиотекарь.



Домашнее задание

**Повторить компоненты
математических действий**



Интернет-ресурсы:

<http://static.kavtoday.ru/400x236/images/2015/VLADIMIR/18-09-15/pic10.jpg> - 10 рублей

[http://www.russianmoney.ru/\(X\(1\)S\(giwysve2qkxm112xsusbim45\)\)/UsersImages/Forum/cddad0a79d5baf17.PNG](http://www.russianmoney.ru/(X(1)S(giwysve2qkxm112xsusbim45))/UsersImages/Forum/cddad0a79d5baf17.PNG) - 100 рублей

http://dp-adilet.kz/wp-content/img/1/47c22bf0_f2e5_0130_2cb7_22000a1c9e18.png - 10 рублей

<https://shsmcbds.files.wordpress.com/2015/05/images-23.jpg?w=318> - КНИГИ

Автор шаблона - учитель математики Чуланова Т.Ю.

http://tatyanchulan.ucoz.ru/load/shablony_prezentacij_k_urokam_matematiki/1-1-0-1