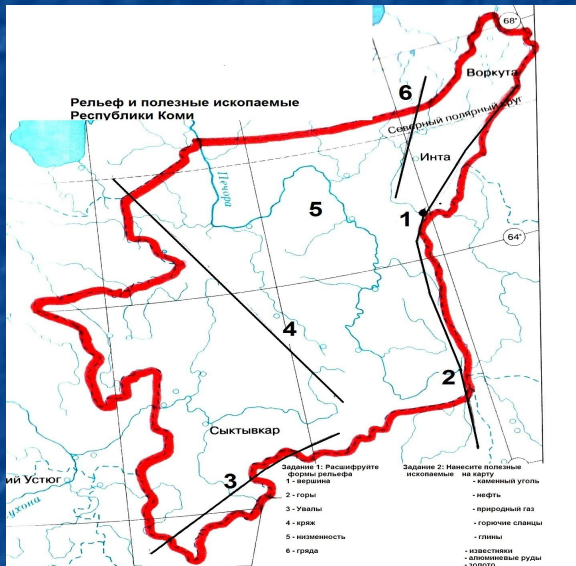


Географическое положение Республики Коми



РК – суверенное государство в составе РФ

- Столица – Сыктывкар (координаты???)
- Площадь РК – 416 тыс. км²
- Численность населения РК – 900 тыс.чел., в Сыктывкаре – 250 тыс. чел. (28% населения РК). Городского населения 75%, сельского населения 25%. 61° 40' с.ш.50° 49' в.д.
- Юрий Спиридонов, Вячеслав Михайлович Гайзер?
- Маньпупунер?

Республика Коми – суверенное государство в составе Российской Федерации



- *Государственный герб Республики Коми*

Символ	Значение
1. Хищная птица	А. Солнце, материнство и рождение
2. Лик женщины, образ Зарни Ань (Золотой Бабы)	Б. Образ власти В. Жизнерадостность, мир
3. Образ лося	Г. Сила, благородство, красота
4. Золотой и красный	



Республика Коми – суверенное государство в составе Российской Федерации



Государственный флаг РК

Символ	Значение
1. Синий цвет	А. Простота, суровая красота Севера, равенство народов, проживающих в республике
2. Зеленый цвет	Б. Величие и бескрайность северных просторов
3. Белый цвет	В. Надежда, изобилие, необъятные таежные массивы



РК – суверенное государство в составе РФ

Важнейшие исторические даты

- 26 мая 1992 года – преобразование Коми ССР в Республику Коми
- 17 февраля 1994 года – принятие Конституции Республики Коми
- 6 июня 1994 года – утверждение государственных символов РК

Политическая карта мира



Географическое положение РК



Географическое положение РК

1. Дополните пропущенные слова в тексте

РК находится на материке __?__. РК расположена на крайнем __?__ - __?__ __?__ территории России, на стыке двух частей света – __?__ и __?__. __?__ омывается морями, но на севере РК находится в относительной близости от морей __?__ и __?__ океанов.

Площадь Республики Коми составляет __?__.

Нашу республику вполне справедливо называют северной, так как значительная часть ее территории находится за __?__ __?__.

На западе, северо-западе и севере она граничит с _____ и входящим в ее состав _____, на востоке - _____ и _____ Тюменской области. На юго-востоке - со _____, а на юге – с _____, на юго-западе – с _____.

Почти половина границ приходится на _____.

А наименьшая протяженность границ со _____.
Протяженность РК с с на юг - _____, а с запада на восток - _____.

От Москвы до Сыктывкара - _____.

2. Найдите координаты г. Сыктывкара, г. Воркуты, с. Объячево

Географическое положение РК

1. Дополните пропущенные слова в тексте

РК находится на материке **Евразия**. РК расположена на крайнем **северо-востоке европейской** территории России, на стыке двух частей света – **Европы и Азии**. **НЕ**омывается морями, но на севере РК находится в относительной близости от морей **Северног Ледовитого и Атлантического** океанов.

Площадь Республики Коми составляет **416 тыс. км²**.

Нашу республику вполне справедливо называют северной, так как значительная часть ее территории находится за **полярным кругом**.

На западе, северо-западе и севере она граничит с **Архангельской областью** и входящим в ее состав **Ненецким авт. ок.**, на востоке – **Ханты – Мансийским авт. ок.** и **Ямало – Ненецким авт. ок.** Тюменской области. На юго-востоке - со **Свердловской областью**, а на юге – с **Пермским краем**, на юго-западе – с **Кировской областью**.

Почти половина границ приходится на **Архангельскую область**.

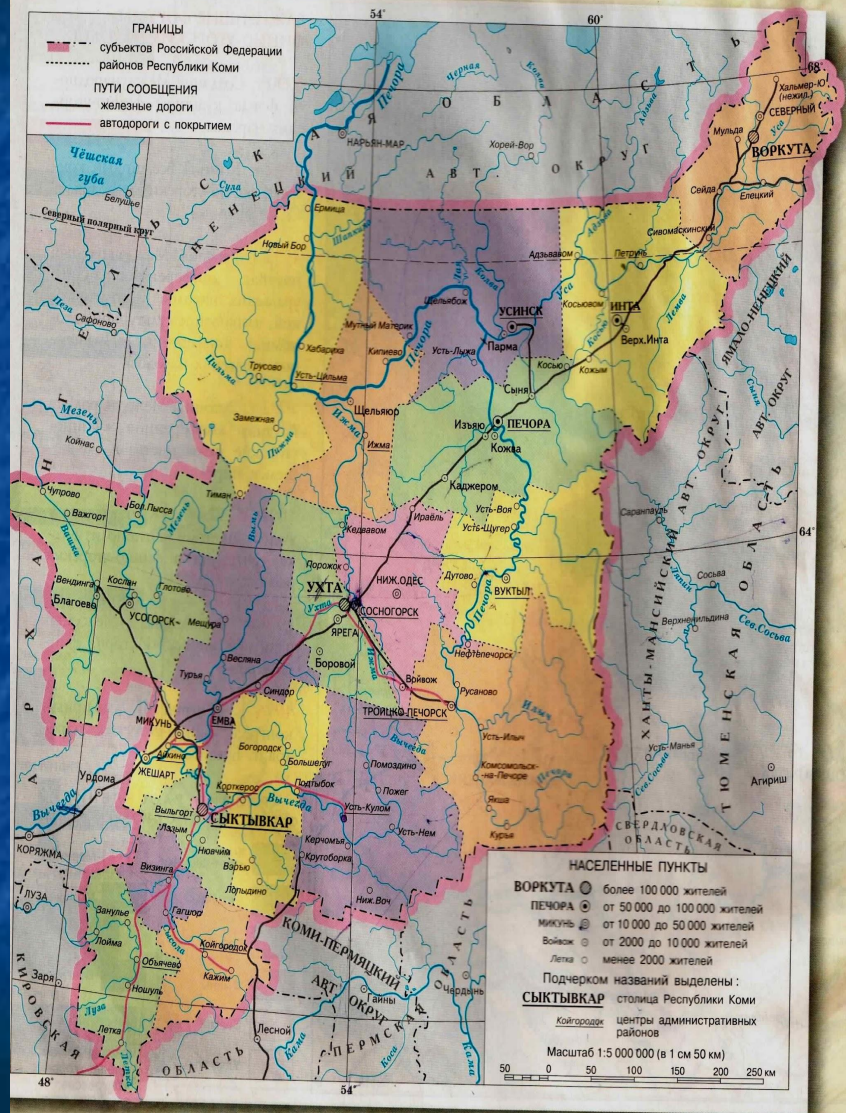
А наименьшая протяженность границ со **Свердловской областью**. Протяженность РК с с на юг - **785 км**, а с запада на восток – **695 км**.

От Москвы до Сыктывкара – **1410 км**.

2. Найдите координаты г. Сыктывкара, г. Воркуты, с. Объячево

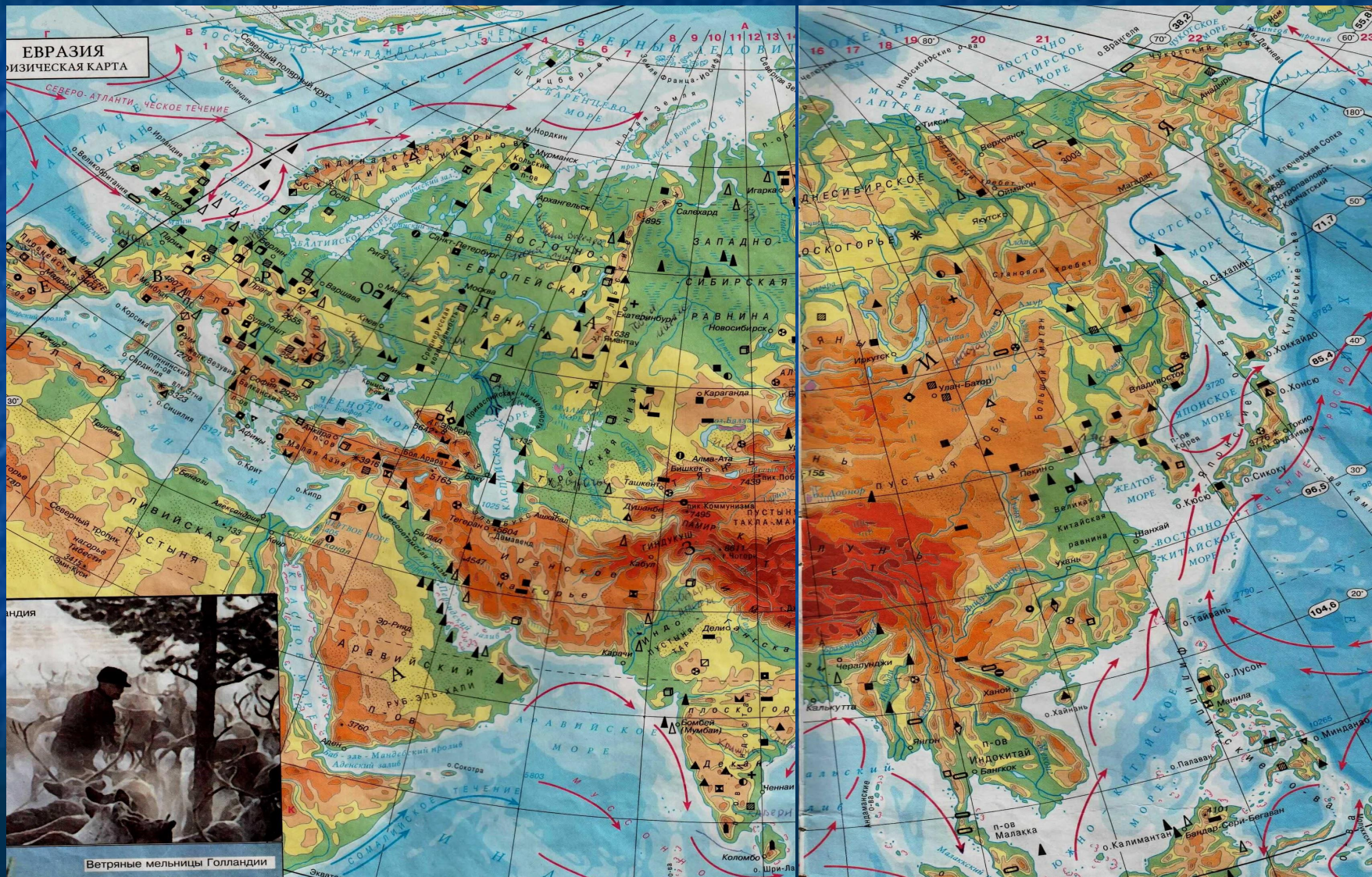
61° ' с.ш. 50° ' в.д., 60° с. ш. 49° в. д., 67о с.ш. 63ов.д.

АДМИНИСТРАТИВНАЯ КАРТА



- Задание 1.
- 1. Нанесите на к/к РК центры районов (20)
- 2. Границащие субъекты с РК

Рельеф и полезные ископаемые РК



ФИЗИЧЕСКАЯ КАРТА



■ Задание 2

- Нанесите на к/карту РК основные формы рельефа:
- Уральские горы (Народная 1895 м)
- Печорская низменность
- Тиманский кряж
- Косминский камень
- Большеземельская тундра
- Гряда Чернышева
- Северные Увалы
- Другие формы рельефа (вершины) Республики Коми

Рельеф и полезные ископаемые РК

РК представляет собой холмистую равнину. Основные высоты от 0 – 300 м. Основная часть территории РК лежит на северо – востоке Восточно-Европейской равнины. На крайнем севере протягиваются Большеземельская тундра, Гряда Чернышева, Печорская низменность. Протягивается с с-з на ю-в Тиманский кряж. На юге – Северные Увалы. На востоке протянулись с севера на юг – Уральские горы. Высочайшая вершина – гора Народная (высота 1895 м)

ПОЛЕЗНЫЕ ИСКОПАЕМЫЕ



- Задание 3.
- Нанесите на к/к РК полезные ископаемые.
- Сделайте вывод.