




Умножение на трехзначное число

4 класс
Анна Семенова



1. Вычисли

$$376 \cdot 568$$

$$236 \cdot 316$$

$$427 \cdot 243$$

$$842 \cdot 364$$

$$858 \cdot 184$$

$$168 \cdot 524$$

$$4383 \cdot 193$$


$$1538 \cdot 583$$

$$1178 \cdot 735$$

$$2384 \cdot 413$$

$$1272 \cdot 628$$

$$3265 \cdot 268$$



2. Вычисли

4 кроны 38 центов · 195


15 крон 10 центов · 384

7 кг 390 г · 562

6 м 750 см · 615

5 м 12 см · 334

5 см 34 мм · 274



3. Задача



Вычисли площадь прямоугольного поля, длина которого - 246 м и ширина - 125 м.



4. Вычисли

$522 \cdot 407$

$7008 \cdot 726$

$2123 \cdot 423$

$703 \cdot 823$

$436 \cdot 8004$

$5132 \cdot 174$

$493 \cdot 804$

$533 \cdot 306$

$4117 \cdot 236$

$536 \cdot 908$

$481 \cdot 207$

$184 \cdot 2537$

$2346 \cdot 58$

$3892 \cdot 461$

$87 \cdot 2526$

$3256 \cdot 268$



5. Вычисли

$572 \cdot 370$

$2136 \cdot 480$

$523 \cdot 1800$

$367 \cdot 480$

$1746 \cdot 420$

$125 \cdot 6300$

$898 \cdot 230$


$2534 \cdot 210$

$387 \cdot 1400$

$314 \cdot 3002$

$223 \cdot 4003$

$324 \cdot 3008$



6. Вычисли

$$789 \cdot 764 + 638 \cdot 406$$

$$798 \cdot 453 + 360 \cdot 400$$

$$895 \cdot 764 - 3847 \cdot 2$$

$$604 \cdot 978 - 9505 \cdot 3$$

$$748536 - 6728 \cdot 53$$

$$68072 : 8 - 21042 : 6$$

$$798 + 67632 : 8 \cdot 100$$

$$358 \cdot 512 + 45786 : 2$$

$$780 \cdot 389 - 9678 : 3$$

$$570 \cdot 956 - 7840 : 4$$



7. Задачи



Прибавь к числу 74 943
произведение чисел 637 и 376.

Из числа 937 488 вычти
произведение чисел 2427 и 328.



8. Задачи



Периметр квадратного садового участка равен 172 м. Какова площадь этого участка?

В коровнике имеется 184 дойные коровы. Средний надой молока от одной коровы составил за прошлый год 4250 кг. Сколько молока дали все эти коровы молока за прошлый год?



9. Вычисли

$$7961 \cdot 112$$

$$5239 \cdot 174$$

$$18998 \cdot 14$$


$$12303 \cdot 12$$

$$2364 \cdot 354$$

$$6050 \cdot 90$$

$$60480 : 90 \cdot 24$$

$$3052 : 4 \cdot 17$$



10. Вычисли

$$30045 \cdot 6 + 9076 \cdot 8$$

$$10000 - 908 \cdot 5 + 754$$

$$700000 - 3098 \cdot 7$$


$$1300 - (2022 - 3948 : 4)$$

$$(853275 - 845072) \cdot 7$$

$$(300502 - 197456) \cdot 4$$

$$15487 + 7714 - 8154 \cdot 4$$

$$(428 + 9783) \cdot 12 - 18065 - 2211$$



11. Вычисли

$$4830 \cdot 7 + 9036 \cdot 3$$

$$(24002 - 15009) \cdot 67$$

$$734600 : 50 + 454 \cdot 40$$

$$702 \cdot 12 \cdot 21$$

$$1576 \cdot 17$$

$$8240 : 40$$

$$8050 \cdot 14 - 256$$

$$76009 \cdot 8 - 51420 \cdot 6$$

$$8213 \cdot 30 - 12240 : 3$$



12. Вычисли

$$13824 + 7839 : 9$$

$$40040 - 32768 : 8$$

$$(4537 + 963) \cdot 96$$

$$(2010 - 1701) \cdot 78$$

$$4 \cdot (3578 - 987)$$

$$40040 - 30616 : 8$$

$$(13824 + 7839) : 9$$

$$8006 \cdot (7010 - 6625)$$

$$(8830 - 2350) : 9$$

$$(3624 - 1978) \cdot 9$$

$$27436 - 7240 : 2$$

$$1576 \cdot 7 - 8240 : 4$$

$$150100 - 69 \cdot 1208$$

$$(70005 - 24015) : 5$$

$$7 \cdot 428 + 5 \cdot 1198$$



13. Задача

На склад привезли 35 мешков ячневой крупы и 125 мешков гречневой крупы. Мешок с ячневой крупой весил 42 кг, а мешок с гречневой - 50 кг. Сколько килограммов крупы привезли на склад?



14. Задача

На склад привезли 52 мешка ячневой крупы и 135 мешков гречневой крупы. Мешок с ячневой крупой весил 42 кг, а мешок с гречневой - 50 кг. Сколько килограммов крупы привезли на склад?

