

# «Моя математика» 1 класс

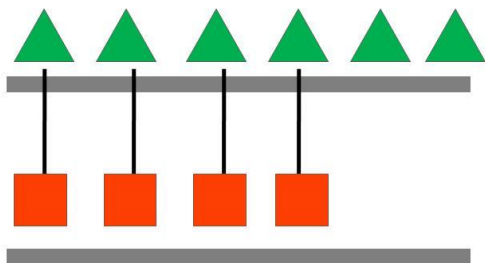
Урок 61

## Тема урока: «Задачи на разностное сравнение»

Учебник №2, с. 44

МАТЕМАТИКА

Что изменилось на рисунке Пети. Каких фигур стало больше, каких меньше, на сколько?



Положи эти фигуры на стол.

Покажите на сколько  больше, чем .

**Советы учителю.**

*Презентация к уроку составлена на основе заданий, расположенных в учебнике.*

*Рекомендую открыть учебник на странице с данным уроком, прочитав задания и просмотреть их в данной презентации в режиме демонстрации.*

**Внимание!**

*Некоторые задания можно выполнять интерактивно. Например, продолжить ряд, сравнить или вставить пропущенные числа. Для этого презентацию надо перевести в режим редактирования.*

*Автор презентации*

*Татузова Анна*



*Васильевна*

*учитель школы*

*№ 1702*

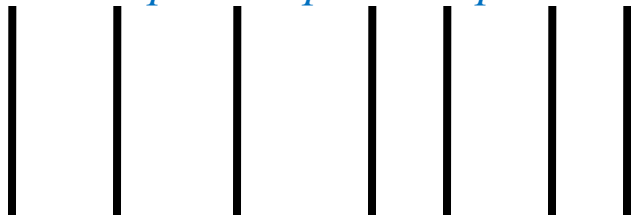
*г. Москвы*

Сравни количество треугольников и квадратов на рисунке Пети.

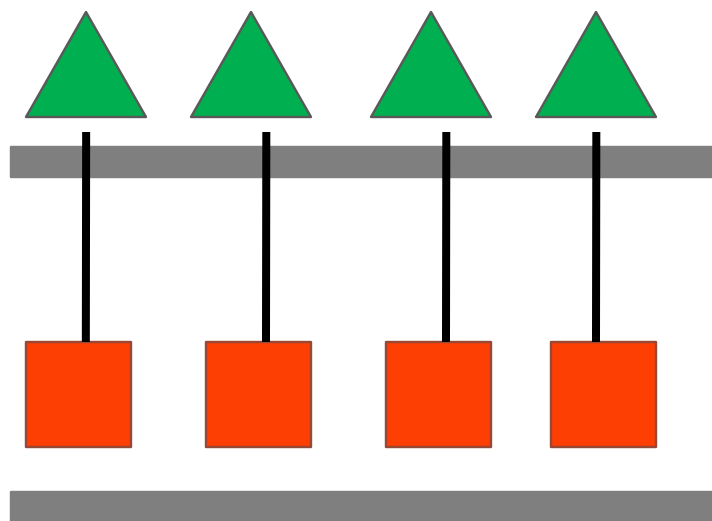


**Внимание!**

*Данное задание можно выполнить интерактивно. Для этого презентацию надо перевести в режим редактирования.*



Сравни количество треугольников и квадратов на рисунке Пети.



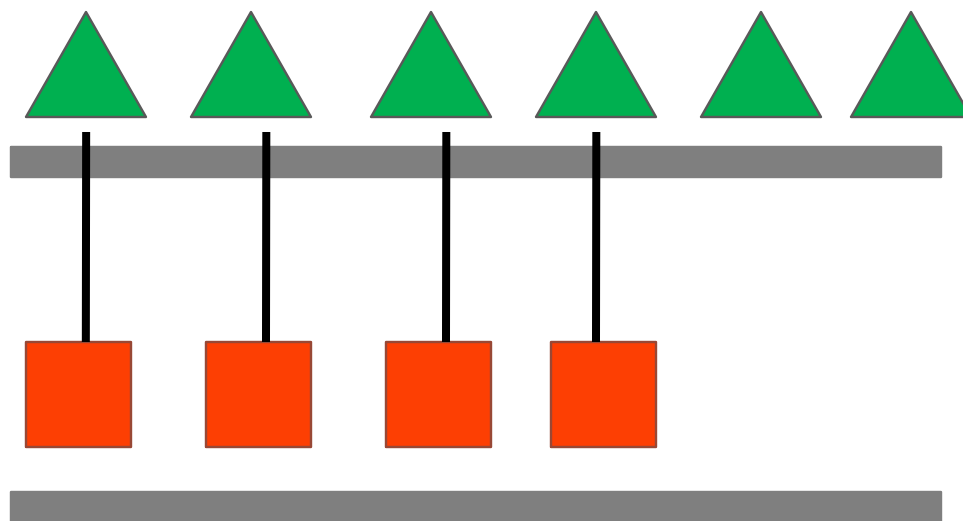
ПОРОВНУ



СТОЛЬКО ЖЕ



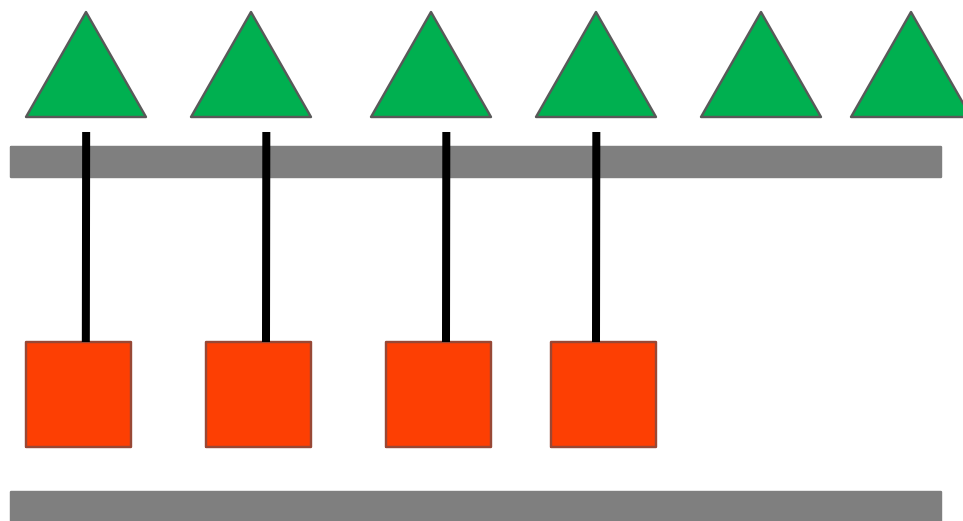
Что изменилось на рисунке Пети. Каких фигур стало больше, каких меньше, на сколько?



Положи эти фигуры на стол.

Покажите на сколько  больше, чем  .

Что изменилось на рисунке Пети. Каких фигур стало больше, каких меньше, на сколько?



Положи эти фигуры на стол.

Покажите на сколько  больше, чем .

Это все треугольники или часть?



Сколько  убрали, чтобы найти эту часть?

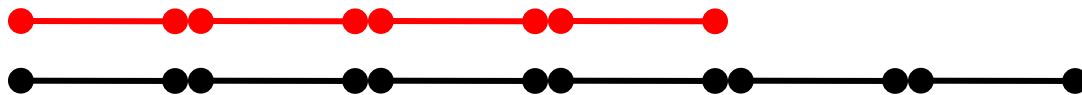
РАЗНОСТЬ





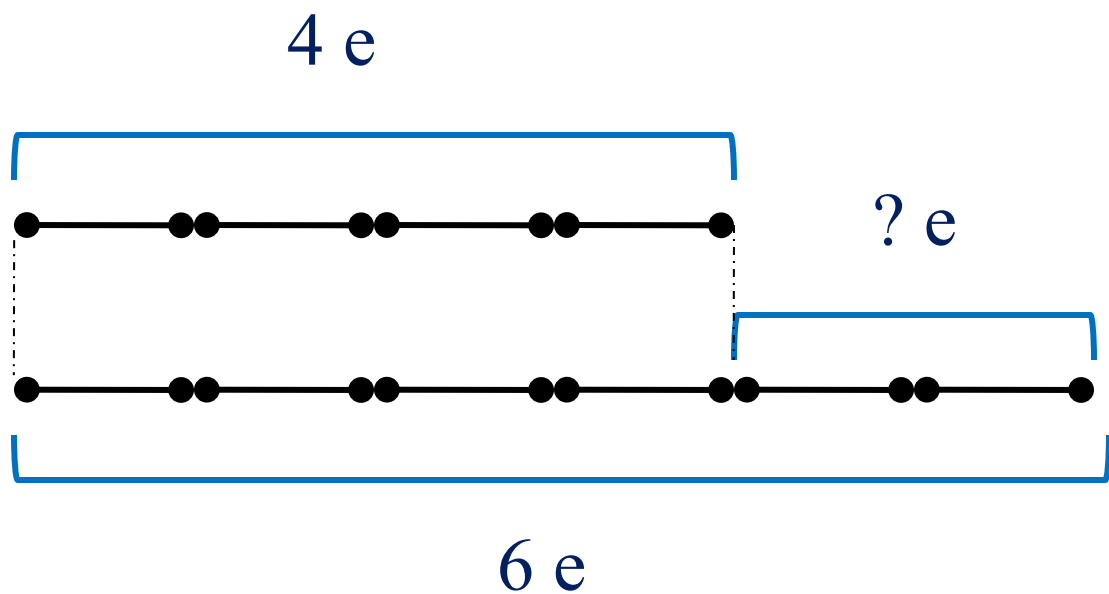
II. Повторение и обобщение изученного.



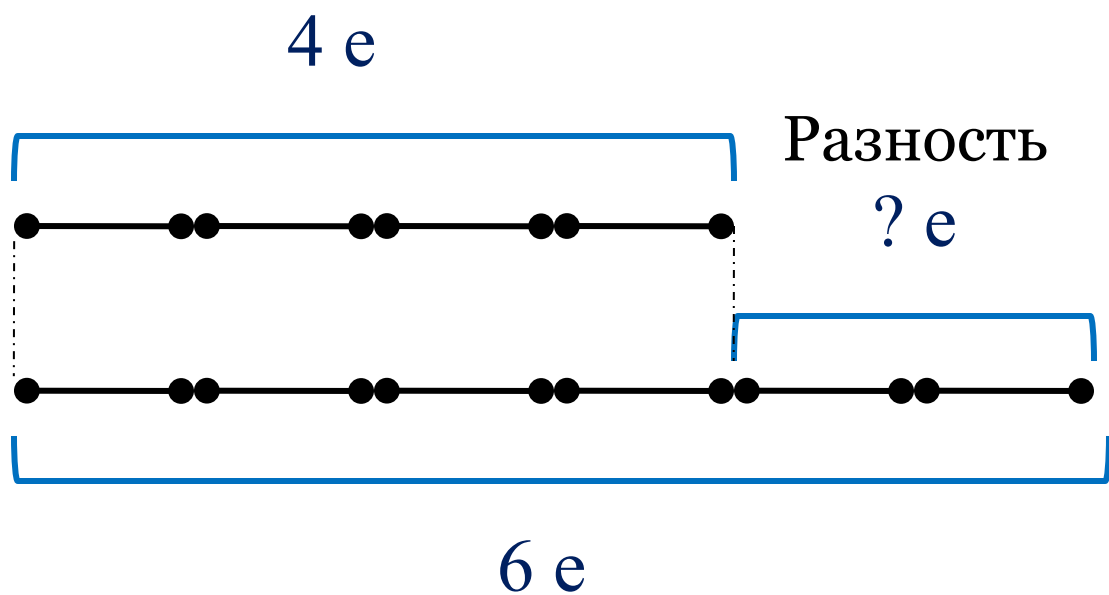


$$6 - 4 = 2$$

Чтобы узнать, на сколько одно число больше или меньше чем другого, надо из большего числа вычесть меньшее.

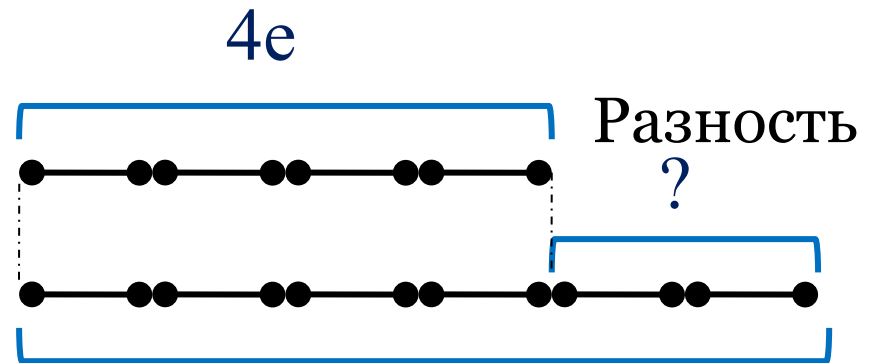


Чтобы узнать, на сколько одно число больше или меньше чем другого, надо из большего числа вычесть меньшее.



$$6 - 4 = 2$$

Чтобы узнать, на сколько одно число больше или меньше чем другого, надо из большего числа вычесть меньшее.



У Кати 4 куклы и 6 мишек.

На сколько кукол меньше, чем мишек?

$$6 - 4 = 2$$

На сколько мишек больше, чем кукол?

$$6 - 4 = 2$$

*Спасибо!*