

«Моя математика» 1 класс

Урок 86

Тема урока: «Числа от 10 до 100»

Учебник № 1 с. 16

МАТЕМАТИКА



К.



П.



В.



Л.

Десятки	Единицы	Десятки	Единицы	Десятки	Единицы

1

5

5

1

0

Советы учителю.

Презентация к уроку составлена на основе заданий, расположенных в учебнике.

Рекомендую открыть учебник на странице с данным уроком, прочитав задания и просмотреть их в данной презентации в режиме демонстрации.

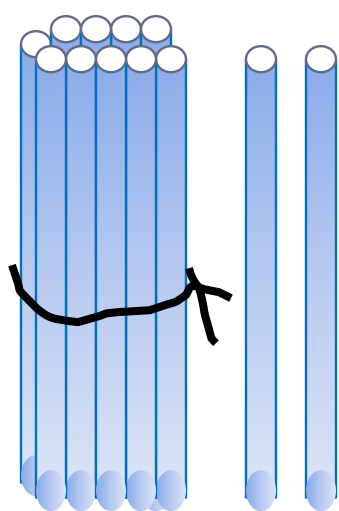
Внимание!

Некоторые задания можно выполнять интерактивно. Например, продолжить ряд, сравнить или вставить пропущенные числа. Для этого презентацию надо перевести в режим редактирования.

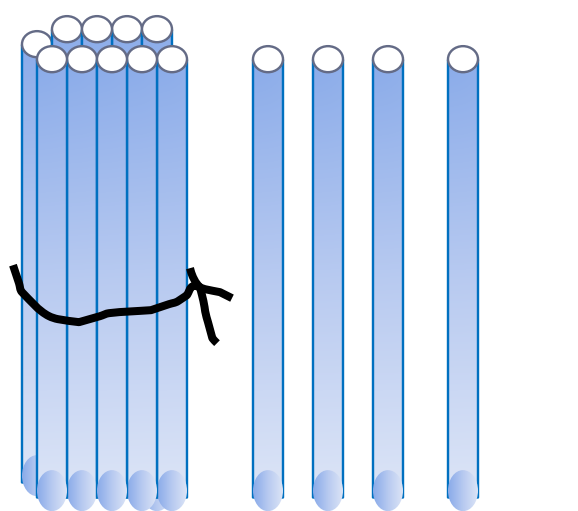
Автор презентации
Татузова Анна
Васильевна
учитель школы
№ 1702
г. Москвы

Сколько палочек на каждом рисунке. Запиши.

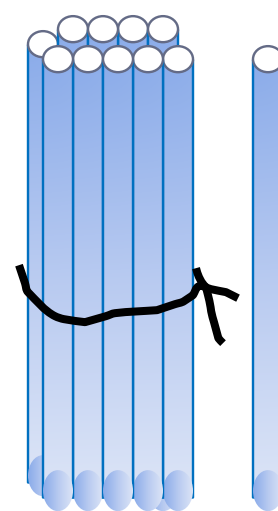
МАТЕМАТИКА



12



14



11

Что обозначает каждая цифра в записи чисел: 17, 11, 19 .

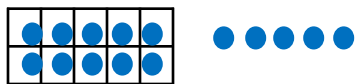
Сколько в каждом из этих чисел десятков и отдельных единиц?

Десятки	Единицы

1 7

1 1

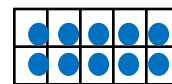
1 9



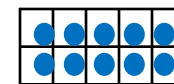
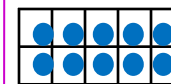
К.



П.



В.



Л.

Десятки	Единицы

Десятки	Единицы

Десятки	Единицы

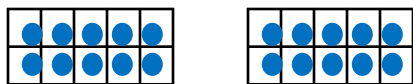
1

5

5

1

0



Л.

Десятки	Единицы

2

0

Слагаемое	1		10	
Слагаемое		10	4	17
Сумма	12	16		18

Внимание!

Данное задание можно выполнить интерактивно. Для этого презентацию надо перевести в режим редактирования.

0

1

2

3

4

5

6

7

8

9

10

Уменьшаемое	20		15	
Вычитаемое		9		1
Разность	19	10	5	17

Внимание!

Данное задание можно выполнить интерактивно. Для этого презентацию надо перевести в режим редактирования.

0

1

2

3

4

5

6

7

8

9

10

Десятки	Единицы

1

7

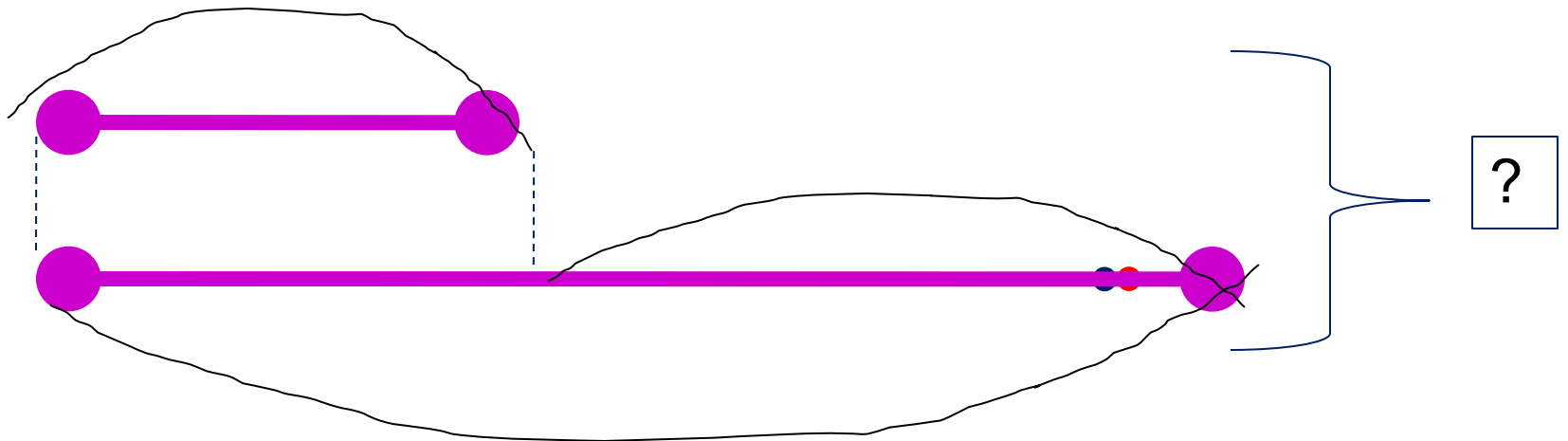
1

1

1

9

Учебник № 7 с. 17

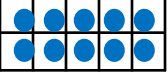

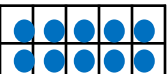

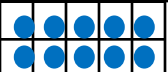

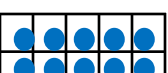

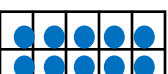

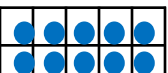

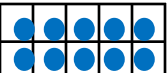

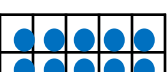

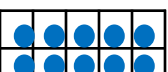

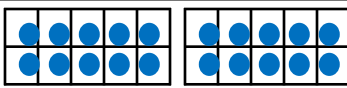


$$1) 6 + 4 = 10(\text{л})$$

?

$$2) 6 + 10 = 16(\text{л})$$

Ответ: 16 литров.

Разряд десятков		Разряд единиц	Число	Название
	1	1 	$1\text{д.}1\text{ед.}=10+1=11$	
	1	2 	$1\text{д.}2\text{ед.}=10+2=12$	
	1	3 	$1\text{д.}3\text{ед.}=10+3=13$	
	1	4 	$1\text{д.}4\text{ед.}=10+4=14$	
	1	5 	$1\text{д.}5\text{ед.}=10+5=15$	
	1	6 	$1\text{д.}6\text{ед.}=10+6=16$	
	1	7 	$1\text{д.}7\text{ед.}=10+7=17$	
	1	8 	$1\text{д.}8\text{ед.}=10+8=18$	
	1	9 	$1\text{д.}9\text{ед.}=10+9=19$	
	2	0	$1\text{д.}+1\text{д.}=2\text{д.}=20$	

Спасибо!